

- التمرين الأول : (2 ن)

- أنجز العمليات الآتية عموديا .

(44 + 53 / 98 - 35 / 57 + 31 / 87 - 15)

4	4
+5	3

9	7

9	8
-3	5

6	3

3	1
+5	7

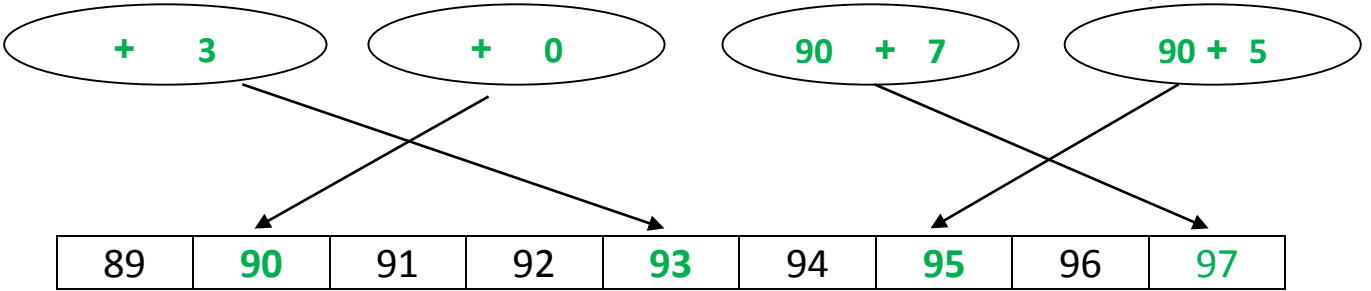
8	8

8	7
-1	5

7	2

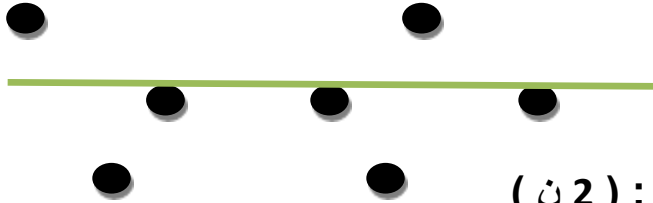
- التمرين الثاني : (2 ن)

- الأخط جيدا ثم أكمل .



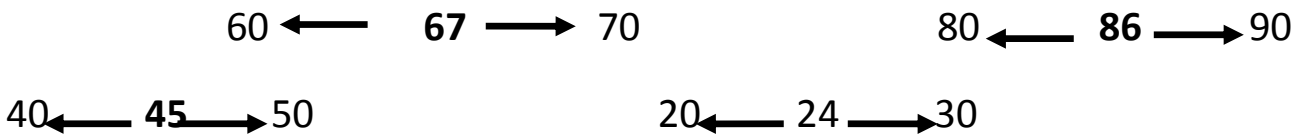
- التمرين الثالث : (1 ن)

- 3 نقط في استقامية ، أستعمل المسطرة لأصل بينها .



- التمرين الرابع : (2 ن)

- أكمل بكتابة العشرة التي تسبق و العشرة التي تلي .



الوضعية الإدماجية : (3 ن)

رتبت مع زملائي لحفلة المولد النبوي الشريف ، فاشتريت البنات حلويات و مرطبات بـ 45 ديناراً ، و اشتري الذكور عصائراً و شموعاً بـ 32 ديناراً .

- أحسب تكاليف هذه الحفلة ؟

- إذا علمت أن المعلمة أحضرت مأكولات تقليدية بـ 21 ديناراً .

- فكم صار حجم التكاليف ؟

- رتب المبالغ المالية الثلاثة ترتيباً تصاعدياً.

الأجوبة

$$45 + 32 = 77$$

- تكاليف هذه الحفلة هي : 77 ديناراً.

$$77 + 21 = 98$$

- صار حجم التكاليف : 98 ديناراً.

- الترتيب :

$$21 < 32 < 45$$

الحل

العمليات

$$45$$

+

$$32$$

$$77$$

$$77$$

+

$$21$$

$$98$$