

المدة : ساعة

اختبار الفصل الثاني في مادة : الرياضيات

التمرين الأول: (2ن)

- أكمِلْ كَمَا فِي الْمِثَالِ :

العدد الذي يسبقه	العدد	العدد الذي يليه
...	945	...

ضعفه	العدد	نصفه
..	16	.

التمرين الثاني: (2 ن)

- رَتِّبِ الأَعْدَادَ التَّالِيَةَ مِنَ الأَصْغَرِ إِلَى الأَكْبَرِ:


945 - 356 - 365 - 98



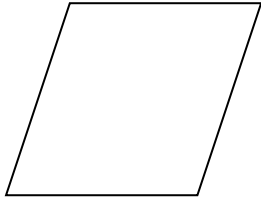
.....-.....-.....-.....

التمرين الثالث: (2ن)

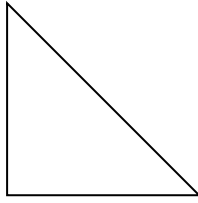
- أَكْتُبْ عَدَدَ الزَّوَايَا الْقَائِمَةِ فِي الأَشْكَالِ التَّالِيَةِ.




.....



.....



.....



.....

الوضعية الإدماجية: (4ن)

- جَمَعَ رَايِدُ فِي حَصَّالَتِهِ 256 دِينَارًا، وَزَادَهُ وَالِدُهُ بِمُنَاسَبَةِ عِيدِ مِيلَادِهِ 525 دِينَارًا.

*كَمْ دِينَارًا أَصْبَحَ عِنْدَ رَايِدِ؟

-إشْتَرَى أَدَوَاتٍ بِـ 300 دِينَارٍ.

*كَمْ دِينَارًا بَقِيَ عِنْدَهُ؟

.....

.....

.....

.....

.....
.....
.....
.....

.....
.....
.....
.....