

الصف : الثاني ابتدائي

المقاطعة : البيرين 1

ابتدائية الشهيد : بلقاسم شنوف

الاسم واللقب:

امضاء الولي

تقويم فصلي في الرياضيات (الفصل الثاني)

العلامة

النشاط الأول: أنجز العمليات التالية

7 9 6

-

2 8 5

5 8 1

-

4 2 1

3 4 6

+

3 7 1

2 3 5

+

6 2 3

النشاط الثاني: أكتب الأعداد بالأرقام أو بالحروف.

368

ثَمَانِمِائَةٌ وَأَرْبَعَةٌ وَسَبْعُونَ

خَمْسُمِائَةٌ وَسِتَّةٌ وَعِشْرُونَ


625

النشاط الثالث: ضع الأعداد التالية على الشريط العددي.

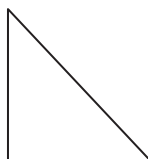
698 - 122 - 524 - 301 - 411 - 689

421


النشاط الرابع: سم المثلعات التالية.



.....



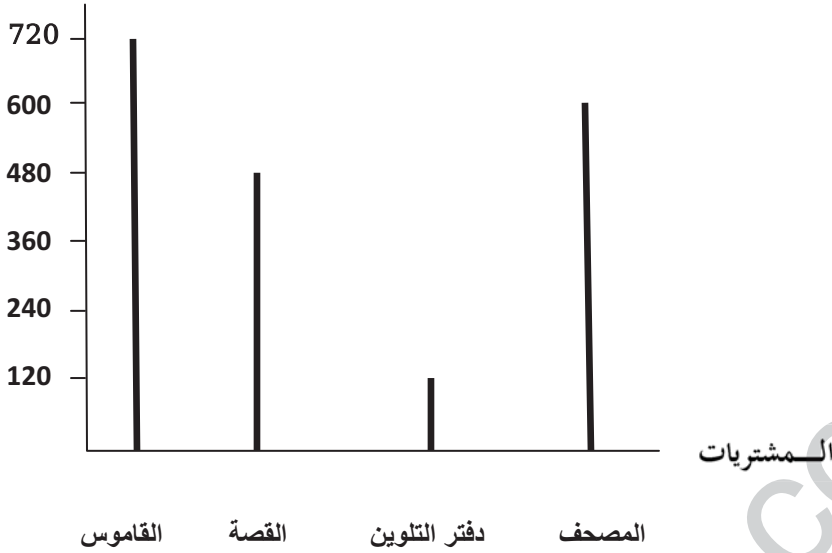
.....



.....

النشاط الخامس: زَارَ سَمِيرٌ وَيَاسَمِينَ مَعْرَضَ الْكُتَابِ رُفْقَةً أَبِيهِمَا وَرَاحًا يَتَجَوَّلَانِ فِي أَرْوَقَتِهِ الْكَثِيرَةِ ، فَاشْتَرَى كُلُّ وَاحِدٍ مِنْهُمَا مَا أَعْجَبَهُ ، أَمَا سَمِيرٌ فَاشْتَرَى قِصَّةً وَدَفْتَرَ لِلتَّلْوِينِ أَمَا يَاسَمِينُ فَقَدْ اشْتَرَتْ مُصْحَفًا وَقَامُوسًا ، أَثْمَانُهَا فِي التَّمْثِيلِ الْبَيَانِيِّ .

الثلمن بالدينار



لاحظ التمثيل جيداً وأجب .

❖ ثمن المصنف هو : ديناراً

❖ ثمن القصة هو : ديناراً

❖ ما هو ثمن القاموس ودفتر التلوين معاً؟

ثمن القاموس ودفتر التلوين معاً هو : ديناراً

=

➤ كان مع سمير مبلغ قدره 850 دينار .

❖ كم سيبقى مع سمير بعد الشراء؟

سبقى مع سمير بعد الشراء دينار .

=

بالتوفيق إن شاء الله