

نوفمبر 2010

المستوى: الثاني ابتدائي 2AP

تصحيح اختبار الفصل الأول في مادة الرياضيات

التمرين 01:

أضع الرّمز <، >، = في المكان المناسب:

$$115 < 198 \quad / \quad 120+60 = 180$$

$$\text{عشرتان}+50 < \text{أربع عشرات} \quad / \quad 157 < 175$$

التمرين 02:

أكتب هذه الأعداد بالأحرف أو بالأرقام:

**495**: أربعمائة وخمسة وتسعون.

**121**: مائة وواحد وعشرون.

**307**: ثلاثمائة وسبعة.

**173**: مئة وثلاثة وسبعون.

التمرين 03:

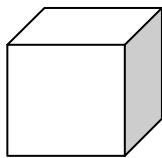
ألاحظ وأكمل الشريط العددي



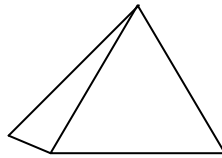
407	414	421	428	435	442	449	456
-----	-----	-----	-----	-----	-----	-----	-----

التمرين 04:

سمي المجسمات التالية:




مكعب



هرم



أسطوانة



بلاط قائم

- ألون المجسمات التي تتدحرج.

اقلب الصفحة

الصفحة 2/1

## التمرين 05:

أفكك الأعداد التالية باستعمال الطريقة التي تراها مناسبة:

$$475 = 400 + 70 + 5 \quad / \quad 396 = 300 + 90 + 6$$

$$495 = 400 + 90 + 5 \quad / \quad 284 = 200 + 80 + 4$$

$$.175 = 100 + 70 + 5$$

## المسألة:

اشترى مُراد محفظةً بـ 140 دج ومقلمةً بـ 62 دج وكُرَّاسًا بـ 20 دج وسيَّالةً بـ 10 دج.

1- كم دفع مُراد؟

2- كم بقي عنده؟ علماً أنه كان يملك 500 دج



العمليات

الحل

الأجوبة

1- دفع مُراد 232 دج

$$\begin{array}{r} 140 \\ +62 \\ +20 \\ \hline 10 \\ \hline =232 \end{array}$$

$$140+62+20+10=232$$

2- بقي عنده 268 دج

$$\begin{array}{r} 232 \\ +268 \\ \hline =500 \end{array}$$

$$232+268 =500$$

بالتوفيق

الصفحة 2/2