

تصحيح اختبار الفصل الثالث في مادة الرياضيات 2AP

التمرين الأول: أنجز العمليات التالية (3.5ن)

$$\begin{array}{r} 697 \\ - 243 \\ \hline 454 \end{array}$$
$$\begin{array}{r} 468 \\ + 129 \\ \hline 597 \end{array}$$
$$\begin{array}{r} 124 \\ \times 2 \\ \hline 248 \end{array}$$
$$\begin{array}{r} 14 \\ \times 3 \\ \hline 42 \end{array}$$

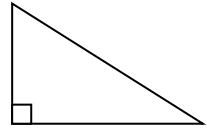
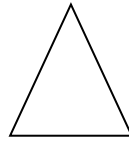
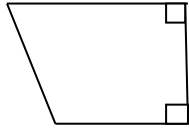
ب - أتم

$$200 + 200 + 200 = 200 \times 3 = \dots 600 \dots$$

$$\dots 32 \dots + \dots 32 \dots = 32 \times 2 = \dots 64 \dots$$

التمرين الثالث (0.75ن)

أعين الزوايا القائمة في كل شكل



التمرين الرابع أ - أضع العبارة المناسبة مكان النقط (أقل من - يساوي - أكثر من)

14 شهرا .. أكثر من سنة .

21 ساعة .. أقل من يوم .

نصف شهر .. يساوي 15 يوما .

ب -

وضعية ادماجية (3.5)

بمناسبة أنتقالك إلى السنة الثالثة اشترى لك أبوك 3 ألعاب ثمن اللعبة الواحدة 50 دج و قصة ب 374 دج .

احسب الثمن الكلي للألعاب؟

$$50 \times 3 = 150$$

الثمن الكلي للألعاب هو 150 دج

50

×3

150

حسب الثمن الكلي للمشتريات؟

$$374 + 150 = 524$$

الثمن الكلي للمشتريات هو 524 دج

374

+150

524

3- إذا أعطى أبوك للبناع 694 دج كم يرجع له ؟

$$694 - 524 = 170$$

يرجع له 170 دج

694

- 524

170

4- مثل ثمن القصة بالقطع النقدية؟

200 دج

100 دج

50 دج

20 دج

2 دج

2 دج

الصفحة 2/2

حي قعلول - برج البحري - الجزائر