

المستوى: الثالث ابتدائي 3AP ٤ نوفمبر 2011

إختبار الفصل الأول في مادة التاريخ

التمرين 01:

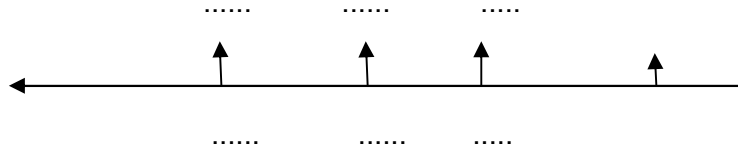
أضع كل حدث شخصي في مكانه المناسب على السلم الزمني وما يقابله من تواريخ:

- سنة دخولي المدرسة 2009م

- سنة ولادة أبي 1970م

سنة ولادتي 2003 م

- سنة ولادة جدي 1949م



التمرين 02:

- الشجرة العائليّة تمثل.....تتكوّن من.....و.....و.....

- الأسرة هي..... من العائلة، تتكوّن من..... و.....و.....

التمرين 03:

صنّف كل عيد حسب طبيعته في الجدول:

عيد الفطر- رأس السنة الميلادية- عيد العمال- رأس السنة الهجرية-
عاشوراء- المولد النبوي- عيد الإستقلال- عيد الطفولة- عيد اندلاع الثورة


| عيد عالمي | عيد وطني | عيد ديني |
|-----------|----------|----------|
| | | |
| | | |
| | | |
| | | |
| | | |

بالتوفيق

الصفحة 2/2

حي قعلول - برج البحري - الجزائر

Web site : www.ets-salim.com /021.87.16.89 : الفاكس : Tel-Fax : 021.87.10.51 ☎



المستوى: الثالث ابتدائي 3AP ٤ نوفمبر 2011

تصحيح اختبار الفصل الأول في مادة التاريخ

التمرين 01: (4ن)

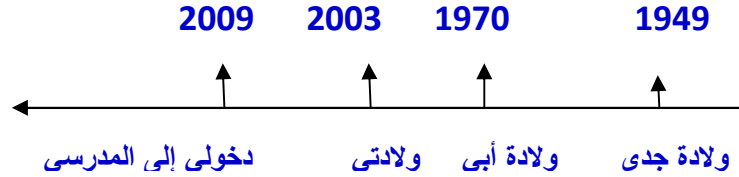
أضع كل حدث شخصي في مكانه المناسب على السلم الزمني وما يقابله من تواريخ:

— سنة دخولي المدرسة 2009م

— سنة ولادة أبي 1970م

سنة ولادتي 2003 م

— سنة ولادة جدي 1949م



التمرين 02: (4ن)

— الشجرة العائليّة تمثل عائلة واحدة تتكوّن من الأجداد والأباء والأبناء

— الأسرة هي جزء من العائلة، تتكوّن من الأب والأم والأبناء.

أقلب الصفحة

الصفحة 2/1

التمرين 03:

صنّف كل عيد حسب طبيعته في الجدول:

عيد الفطر- رأس السنة الميلادية- عيد العمال- رأس السنة الهجرية-
عاشوراء- المولد النبوي- عيد الإستقلال- عيد الطفولة- عيد اندلاع الثورة

| عيد ديني | عيد وطني | عيد عالمي |
|--------------------|-------------------|---------------------|
| رأس السنة الهجرية | عيد الإستقلال | رأس السنة الميلادية |
| عاشوراء | عيد اندلاع الثورة | عيد العمال |
| مولد النبوي الشريف | | عيد الطفولة |

بالتوفيق

الصفحة 2/2

حي قعلول - برج البحري - الجزائر

Web site : www.ets-salim.com /021.87.16.89 : الفاكس : Tel-Fax : 021.87.10.51 ☎