

فيفري 2012

الغرض رقم 2 للفصل 2
في مادة الرياضيات

المستوى: 3AP

التمرين 01:

ضع العدد المناسب في مكان النقط

$$\begin{array}{r} .7.4 \\ -5.3 \\ \hline 1430 \end{array} \quad \begin{array}{r} 6.8 \\ -.6 \\ \hline 305 \end{array} \quad \begin{array}{r} 534 \\ +. . . \\ \hline 696 \end{array} \quad \begin{array}{r} 148 \\ +. . . \\ \hline 349 \end{array}$$

التمرين 02:

أ- حوّل ما يلي:

$$2Km6dam =m$$

$$8dam15m =m$$

$$6Km =m$$

$$245dm =m$$

$$2Km =m$$

$$75hm =m$$

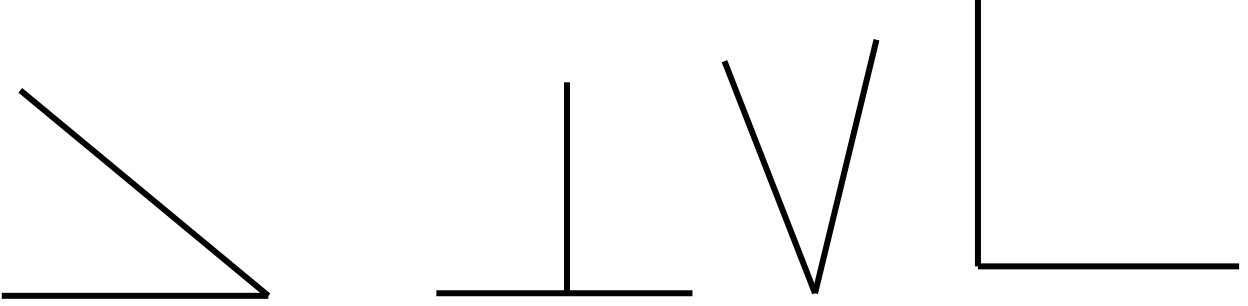
ب- رتب هذه الأطوال تنازليا:

.....





التمرين 03: (2.5ن)

أ- لَوْنِ الزَّوَايَا الْقَائِمَةِ بِوَضْعِ الرَّمْزِ الْمُنَاسِبِ (□)



ب- إِمْلَأِ الْفَرَاغَ:



عدد الأضلاع.....

عدد الأضلاع.....

عدد الأضلاع.....

عدد الرؤوس.....

عدد الرؤوس.....

عدد الرؤوس.....

المشكلة: (2.5ن)

بمناسبة المولد النبوي الشريف ذهبت مع أبيك لشراء لوازم الاحتفال، فاشتريت الشموع بـ 270


دينار وألوان نارية بـ 430 دينارا، ومفرقات بـ 125 دينارا.

- ما هو ثمن المشتريات؟

أعطى أبوك ورقة ذات 1000 دينار للبائع.

- كم يرجع له البائع؟

- مثل هذا المبلغ بأقل عدد ممكن من القطع والأوراق النقدية.



المستوى: 3AP

تصحیح الاختبار رقم 2 للفصل 2

في مادة الرياضيات

فيفري 2012

التمرين 01 (2ن)

ضع العدد المناسب في مكان النقط:

| | | | |
|--------------|-------------|-------------|-------------|
| 6764 | 668 | 534 | 148 |
| <u>-5334</u> | <u>-363</u> | <u>+162</u> | <u>+201</u> |
| 1430 | 305 | 696 | 349 |

التمرين 02: (3ن)

أ- حوّل ما يلي:

$$2Km6dam = 2060m$$

$$8dam15m = 95m$$

$$6Km = 6000m$$

$$245dam = 2450m$$

$$2Km = 2000m$$

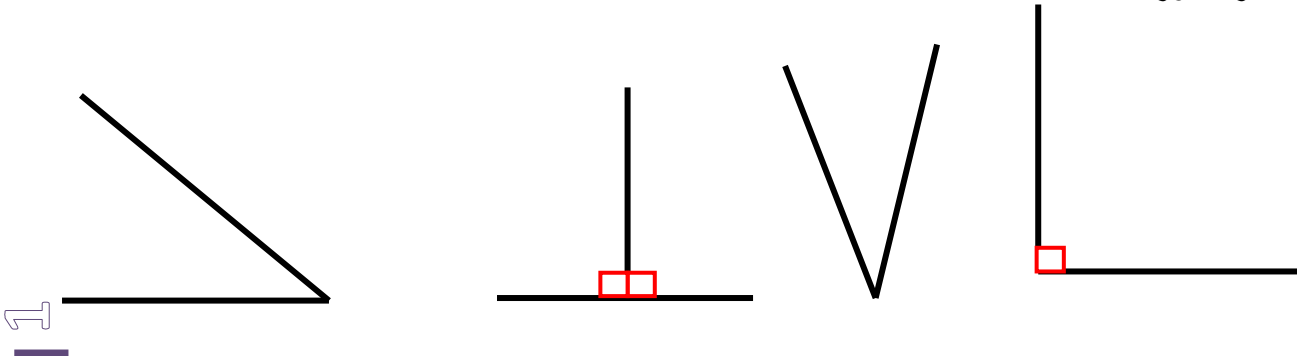
$$75hm = 7500m$$

ب- ترتيب هذه الأطوال تنازليا:

$$75hm > 6Km > 245dam > 2Km6dam > 2Km > 8dam15m$$

التمرين 03: (2.5ن)


أ- لوّن الزوايا القائمة




ب- إملأ الفراغ:



عدد الأضلاع 4
عدد الرؤوس 4



عدد الأضلاع 3
عدد الرؤوس 3



عدد الأضلاع 4
عدد الرؤوس 4

المشكلة:

العمليات

430

+270

+125

825

1000

-825

0175

الأجوبة

الحل

ثمن المشتريات: 825 ديناراً.

$$430+270+125 = 825$$

يرجع له البائع: 175 ديناراً

$$1000- 825 = 175$$

100-ج

50-ج

20-ج

5-ج