

الجمهورية الجزائرية الديمقراطية الشعبية
وزارة التربية الوطنية

مؤسسة التربية والتعليم الخاصة - سليم -

S . A . L . I . M ETABLISSEMENT PRIVE D'EDUCATION ET D'ENSEIGNEMENT - SALIM -

رخصة فتح رقم: 2009/22 المؤرخة في 27 أوت 2009
المعدلة لرخصة فتح رقم: 2005/06 المؤرخة في 5 سبتمبر 2005

تحضيري - ابتدائي - متوسط - ثانوي

إعتماد رقم 39 المؤرخ في 20 جوان 2009
المعدل ل إعتماد رقم 66 المؤرخ في 8 جوان 2005

المستوى: الثالث ابتدائي (3AP) مارس 2013

الاختبار الثاني الفصل الثاني مادة الرياضيات

التمرين الأول

ا- احسب مايلي

$$2 \times 5 = \dots\dots$$

$$7 \times 4 = \dots\dots$$

$$3 \times 6 = \dots\dots$$

$$9 \times 2 = \dots\dots$$

ب- اكتب العدد الذي رقم آلفه 2 و رقم عشراته 8 و رقم مئاته نصف رقم عشراته و رقم أحاده مجموع رقم آلفه و رقم مئاته .

.....

التمرين الثاني

ا- اكتب المضاعفات العشرة الأولى للعدد 25

.....

ب- استنتج مايلي

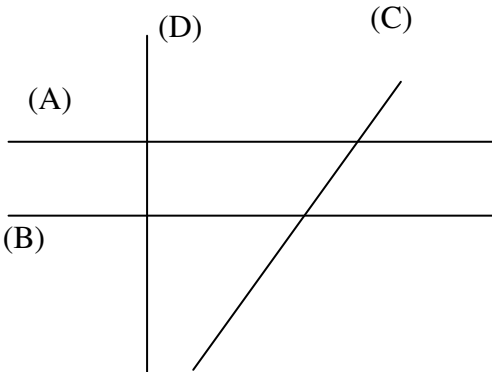
$$125 = 25 \times \dots$$

$$75 = 25 \times \dots$$

$$200 = 25 \times \dots$$

$$150 = 25 \times \dots$$

التمرين الثالث



أ- لاحظ الشكل المقابل :

استخرج منه مستقيمان متوازيان و مستقيمان متعامدان

المستقيمان المتوازيان هما

المستقيمان المتعامدان هما

ب- لون الزوايا القائمة في الشكل

الصفحة 2/1

حي فعلول - برج البحري - الجزائر

Web site : www.ets-salim.com /021.87.16.89 : الفاكس - Tel-Fax : 021.87.10.51 : ☎

الوضعية الإدماجية:


بمناسبة عيد ميلادك أعطاك والدك 2300 ديناراً و زادتك أمك ضعف المبلغ الذي أعطاه لك والدك

- كم أصبح عندك؟

اشتريت بنصف المبلغ الذي تملكه دراجة.

- ما هو ثمن الدراجة؟

- احصر هذا المبلغ بين مائتين متتاليين.



الجمهورية الجزائرية الديمقراطية الشعبية
وزارة التربية الوطنية
مؤسسة التربية والتعليم الخاصة - سليم -

S . A . L . I . M ETABLISSEMENT PRIVE D'EDUCATION ET D'ENSEIGNEMENT - SALIM -

رخصة فتح رقم: 2009/22 المؤرخة في 27 اوت 2009
المجلة لرخصة فتح رقم: 2005/06 المؤرخة في 5 سبتمبر 2005

تحضيري - ابتدائي - متوسط - ثانوي

إعتماد رقم 39 المؤرخ في 20 جوان 2009
المعدل ل إعتماد رقم 66 المؤرخ في 8 جوان 2005

المستوى: الثالث ابتدائي (3AP) مارس 2013

تصحيح الاختبار الثاني الفصل الثاني مادة الرياضيات

التمرين الأول: (1.5 ن)

$$7 \times 4 = 28$$

$$9 \times 2 = 18$$

$$5 \times 2 = 10$$

$$3 \times 6 = 18$$

ب/ العدد هو : 2486

التمرين الثاني : (3 ن)

أ- مضاعفات 25 هي:

0- 25- 50- 75- 100- 125- 150-175- 200-225

ب-

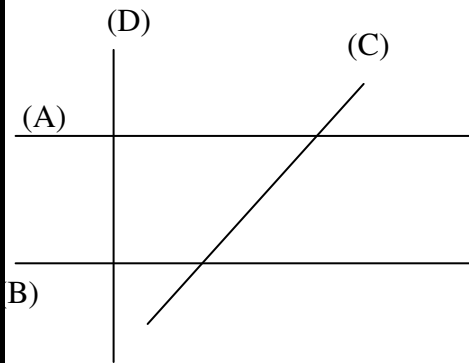
$$75 = 25 \times 3$$

$$125 = 25 \times 5$$

$$150 = 25 \times 6$$

$$200 = 25 \times 8$$

الصفحة 2/2



(A) و (B)

(A) و (D)

التمرين الثالث (2 ن)

أ- المستقيمان المتوازيان هما :

- المستقيمان المتعامدان هما :

أو : (B) و (D)

الصفحة 2/1

حي قعلول - برج البحري - الجزائر

