



الجمهورية الجزائرية الديمقراطية الشعبية
وزارة التربية الوطنية

مؤسسة التربية والتعليم الخاصة - **سليم** -

S . A . L . I . M ETABLISSEMENT PRIVE D'EDUCATION ET D'ENSEIGNEMENT - SALIM -

إعتماد رقم 67 بتاريخ 06 سبتمبر 2010 تحضيرى - ابتدائى - متوسط - ثانوى رخصة فتح رقم 1088 بتاريخ 30 جانفى 2011

مارس 2013

المستوى: الثالث ابتدائى (3AP)

اختبار الفصل الثالث فى مادة الرياضيات

التمرين الأول

انجز العمليات التالية

$$\begin{array}{r} 227 \\ \times 2 \\ \hline \end{array}$$

$$\begin{array}{r} 245 \\ \times 5 \\ \hline \end{array}$$

$$\begin{array}{r} 2987 \\ -2445 \\ \hline \end{array}$$

التمرين الثانى :

اكمل المساويات :

نصف 840 هو :

4 Kg =g

ضعف 725 هو :

2h = mn

30 دقيقة = ساعة

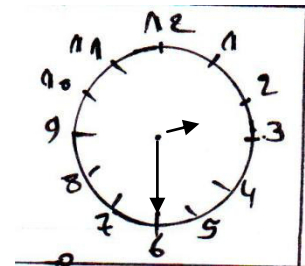
9L =cl

التمرين الثالث :

أ - أكتب التوقيت الذى تشير إليه الساعة

صباحا:

مساء:



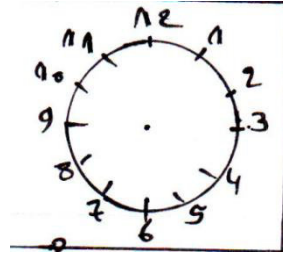
الصفحة 2/1

حي قعلول - برج البحري - الجزائر

Web site : www.ets-salim.com /021.87.16.89 : الفاكس : Tel-Fax : 021.87.10.51 :

ب - يخرج الأب لصلاة الفجر من البيت على الساعة 5:10 و يصل إلى المسجد بعد 20 دقيقة .

- في أي وقت يصل الأب إلى المسجد؟



- مثل هذا التوقيت :

التمرين الرابع :

1 - أرسم قطعة مستقيمة [BA] طولها 6 cm .

2 - عين النقطة O منتصف هذه القطعة .

3 - أرسم المستقيم (d) الذي يمر من النقطة O و يعامد القطعة المستقيمة [BA] .

الوضعية الإماجية :

ذهبت رفقة والدك إلى المكتبة فاشتريت الأدوات التي يبينها الجدول :

العدد	ثمن الوحدة (الدينار)	الثمن الإجمالي (الدينار)
4	20
5	45
5	15
1	150


1. اكمل ملء الجدول

2. أحسب ثمن المشتريات .

3. أعطى والدك للبائع 3 أوراق نقدية ذات 200 دينار

- أحسب المبلغ الذي يرجعه البائع لوالدك .

- مثل هذا المبلغ بأقل عدد ممكن من القطع النقدية .



الجمهورية الجزائرية الديمقراطية الشعبية
وزارة التربية الوطنية

مؤسسة التربية والتعليم الخاصة - **سليم** -

S . A . L . I . M ETABLISSEMENT PRIVE D'EDUCATION ET D'ENSEIGNEMENT - SALIM -

إعتماد رقم 67 بتاريخ 06 سبتمبر 2010 تحضيرى - ابتدائى - متوسط - ثانوى رخصة فتح رقم 1088 بتاريخ 30 جانفى 2011

مارس 2013

المستوى: الثالث ابتدائى (3AP)

تصحيح اختبار الفصل الثالث فى مادة الرياضيات

التمرين الأول (1.5ن)

انجاز العمليات التالية

$$\begin{array}{r} 227 \\ \times 2 \\ \hline 454 \end{array}$$

$$\begin{array}{r} 245 \\ \times 5 \\ \hline 1225 \end{array}$$

$$\begin{array}{r} 2987 \\ -2445 \\ \hline 485 \end{array}$$

التمرين الثانى: (1.5ن)

إكمال المساويات:

نصف 840 هو : 420

4 Kg = 4000g

ضعف 725 هو : 1450

2h = 120 min

30 دقيقة = نصف ساعة

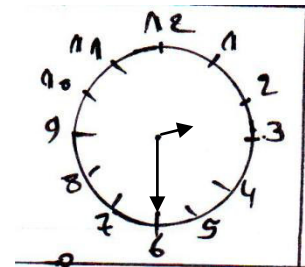
9L = 900cl

التمرين الثالث: (2ن)

أ - كتابة التوقيت الذي تشير إليه الساعة

صباحا: 02:30

مساء : 14:30



الصفحة 2/1

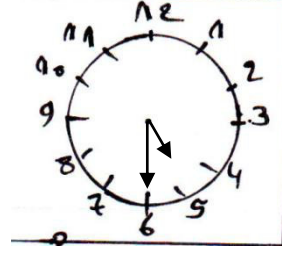
حي قعلول - برج البحري - الجزائر

Web site : www.ets-salim.com /021.87.16.89 : الفاكس : Tel-Fax : 021.87.10.51 : ☎

ب - الوقت الذي يصل فيه الأب إلى المسجد:

$$5h10min + 20min = 5h30 min$$

- مثل هذا التوقيت :

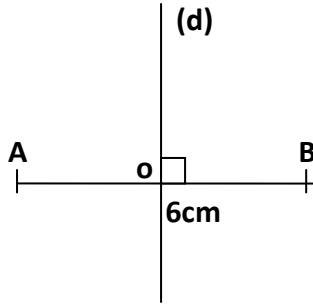


التمرين الرابع : (1.5ن)

1 - أرسم قطعة مستقيمة [BA] طولها 6 cm .

2 - أعيّن النقطة O منتصف هذه القطعة.

3 - أرسم المستقيم (d) الذي يمر من النقطة O و يعامد القطعة المستقيمة [BA] .



الوضعية الإدماجية : (3.5ن)

ذهبت رفاة والدك إلى المكتبة فاشتريت الأدوات التي يبينها الجدول :

1. إكمال ملء الجدول

العدد	ثمن الوحدة (الدينار)	الثمن الإجمالي (الدينار)	
4	20	80	الأقلام
5	45	225	الكراريس
5	15	75	الأغلفة
1	150	150	مقلمة

<u>الأجوبة</u>	<u>الحل</u>	<u>العمليات</u>
		80
$80+225+75+150 =530$		+225
ثمن المشتريات: 530 ديناراً	600	+ 75
$200 \times 3 =600$	$\frac{- 530}{070}$	$\times \frac{3}{600}$
المبلغ الذي أعطاه والدي للبائع: 600 ديناراً		$\frac{+150}{530}$
$600-530 =70$		
المبلغ الذي يرجعه البائع لوالدي: 70 ديناراً		
<div style="display: flex; justify-content: space-around; align-items: center;"> <div style="border: 1px solid black; border-radius: 50%; width: 30px; height: 30px; display: flex; align-items: center; justify-content: center;">50</div> <div style="border: 1px solid black; border-radius: 50%; width: 30px; height: 30px; display: flex; align-items: center; justify-content: center;">20</div> </div>		
التمثيل:		