

جوان 2014

المستوى الثالث ابتدائي

اختبار الفصل الثالث في مادة الرياضيات


**التمرين الأول :**

أنجز العمليات التالية:

35	23	142
$\times 12$	$\times 46$	$\times 5$

**التمرين الثاني :**

عند تاجر 215Kg من البطاطا وضعها في أكياس يزن كل كيس 50Kg  
بإكمال كتابة الأعداد على المستقيم العددي



- أوجد عدد الأكياس المملوءة بالبطاطا

- كم كيلوغراما من البطاطا بقي لدى التاجر ?

**التمرين الثالث :**

ارسم قطعة مستقيمة [ AB ] طولها 4cm

- عين النقطة O منتصف قطعة المستقيم [ AB ]

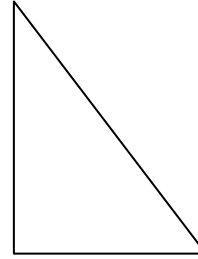
- ارسم الدائرة التي مركزها O وقطرها [ AB ]

## التمرين الرابع :

إليك المضلعين التاليين :



(B)



(A)

أكمل ملء الجدول التالي:

الأشكال	عدد الأضلاع	عدد الأضلاع المتقايسة	عدد الزوايا القائمة
(A)			
(B)			

## الوضعية الإدماجية :

بمناسبة عيد الطفولة نظمت روضة الأطفال حفلة للأطفال فاشتريت مديرة الروضة 10 سيارات ب 95 دينار للسيارة الواحدة و 5 دمي ب 250 دينارا للدمية الواحدة  
- ما هو ثمن الألعاب؟  
إذا دفعت للبائع 5000 دينار  
- ما هو المبلغ المتبقي لديها؟  
اشتريت المديرة بنصف ذلك المبلغ المتبقي حلويات و مشروبات.  
- ما هو ثمن هذه الحلويات و المشروبات؟

الأجوبة


الحل

العمليات

بالتوفيق

الصفحة 2/2

حي فقلول - برج البحري - الجزائر



جوان 2014

المستوى الثالث ابتدائي

تصحيح اختبار الفصل الثالث في مادة الرياضيات

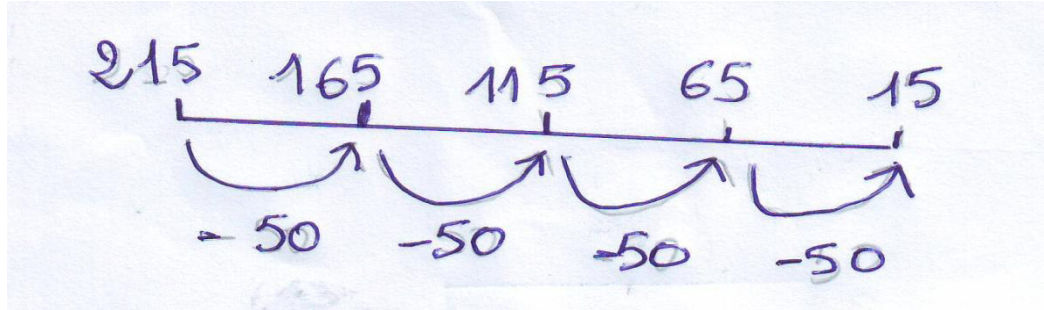
التمرين الأول :

انجاز العمليات التالية :

$$\begin{array}{r} 35 \\ \times 12 \\ \hline 138 \\ +92. \\ \hline 1058 \end{array} \quad \begin{array}{r} 23 \\ \times 46 \\ \hline 70 \\ +35. \\ \hline 420 \end{array} \quad \begin{array}{r} 142 \\ \times 5 \\ \hline 710 \end{array}$$

التمرين الثاني :

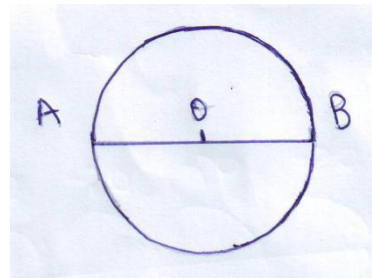
إكمال كتابة الأعداد على المستقيم العددي



- عدد الأكياس المملوءة بالبطاطا هو 4 أكياس

- بقي لدى التاجر 15 كيلوغرام من البطاطا

التمرين الثالث :



## التمرين الرابع :

إكمال ملء الجدول التالي:

الأشكال	عدد الأضلاع	عدد الأضلاع المتقايسة	عدد الزوايا القائمة
A	3	0	1
B	4	4	4

## الوضعية الإدماجية :

### الأجوبة

$$\begin{array}{r} 95 \\ \times 10 \\ \hline 00 \\ +95. \\ \hline 950 \end{array}$$

$$\begin{array}{r} 250 \\ \times 5 \\ \hline 1250 \end{array}$$

$$\begin{array}{r} 1250 \\ + 950 \\ \hline 2200 \end{array}$$

$$\begin{array}{r} 5000 \\ - 2200 \\ \hline 2800 \end{array}$$

ثمن السيارات هو 950 دينار

$$950 = 10 \times 95$$

ثمن الدمى هو 1250 دينار

$$1250 = 250 \times 5$$

ثمن الألعاب هو 2200 دينار

$$2200 = 950 + 1250$$

تبقى لديها 2800 دينار

$$2800 = 2200 - 5000$$

$$1400 = 2800 \text{ نصف}$$

إذن ثمن الحلويات و المشروبات هو 1400 دينار

**بالتوفيق**