



ECOLE SALIM



الجمهورية الجزائرية الديمقراطية الشعبية

وزارة التربية الوطنية

مؤسسة التربية و التعليم الخاصة سليم

ETABLISSEMENT PRIVE D'EDUCATION ET D'ENSEIGNEMENT SALIM



www.ets-salim.com



021 87 10 51



021 87 16 89



Hai Galloul - bordj el-bahri alger

رخصة فتح رقم 1088 بتاريخ 30 جانفي 2011

تحضيري - ابتدائي - متوسط - ثانوي

إعتماد رقم 67 بتاريخ 06 سبتمبر 2010

ماي 2014

المستوى الثالثة ابتدائي 3AP

إختبار الفصل الثالث في مادة الرياضيات

التمرين الأول:

أكمل التحويلات التالية

2kg = g

3150g = kg..... g

3km 50dam = m

53hm =m

4hm 5dam = m

التمرين الثاني

الإصداغ عيد العمال 1 ماي يوم الخميس

اكتب تاريخ أيام الخميس المقبلة

الخميس 1 ماي

الخميس.....

الخميس.....

الخميس.....

ب) إليك تواريخ ميلاد بعض الأطفال رتبها حسب تسلسلها

5 ماي 2005 - 24 أوت 2006 - 30 مارس 2005

(1) (2) (3)

الصفحة 2/1

حي قعلول - برج البحري - الجزائر

Web site : www.ets-salim.com /021.87.16.89 -الفاكس : 021.87.10.51 : Tel-Fax

التمرين الثالث

أكمل بالعدد المناسب

$$5x..... = 5000$$

$$56x..... = 560$$

$$23x100 =$$

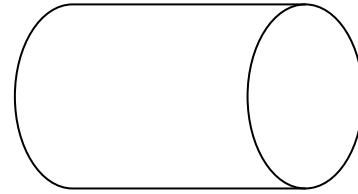

$$73x = 730$$

$$84x100 =$$

$$..... \times 10 = 470$$

التمرين الرابع

املأ الجدول الآتي



(ب)

(أ)

| عدد الأوجه | عدد الأحرف | عدد الرؤوس | اسمه | |
|------------|------------|------------|------|------------|
| | | | | المجسم (أ) |
| | | | | المجسم (ب) |

الوضعية الإدماجية

باع تاجر 45 مترا من القماش في الصّباح و باع في المساء 3 أضعاف ما باع في الصّباح

- كم باع في المساء؟

- كم باع في اليوم (الصباح والمساء)؟


إذا كان ثمن المتر الواحد 45 دينارا.

- ما هو ثمن كلّ القماش؟

بالتوفيق

الصفحة 2/2

حي قعلول - برج البحري - الجزائر



الجمهورية الجزائرية الديمقراطية الشعبية

وزارة التربية الوطنية

مؤسسة التربية و التعليم الخاصة **سليم**

ETABLISSEMENT PRIVE D'EDUCATION ET D'ENSEIGNEMENT SALIM

www.ets-salim.com 021 87 10 51 021 87 16 89 Hai Galloul - bordj el-bahri alger

رخصة فتح رقم 1088 بتاريخ 30 جانفي 2011

تجيزي- ابتدائي- متوسط - ثانوي

إعتماد رقم 67 بتاريخ 06 سبتمبر 2010

تصحيح اختبار الفصل الثالث في مادة الرياضيات ماي 2014

المستوى: الثالثة ابتدائي (3AP)

التمرين الأول

أكمل التحويلات التالية

$$2\text{kg} = 2500 \text{ g ونصف}$$

$$3150\text{g} = 3 \text{ kg } 150 \text{ g}$$

$$3\text{km } 50\text{dam} = 3500 \text{ m}$$

$$53\text{hm} = 5300 \text{ m}$$

$$4\text{hm } 5\text{dam} = 450 \text{ m}$$

التمرين الثاني

(1)

- كتابة تواريخ أيام الخميس المقبلة

الخميس 1 ماي

الخميس 8 ماي

الخميس 15 ماي

الخميس 22 ماي

ب) ترتيب تواريخ ميلاد بعض الأطفال حسب تسلسلها

(1) 30 مارس 2005 (2) 5 ماي 2005 (3) 24 اوت 2006

التمرين الثالث

إكمال العدد المناسب

$$5 \times 1000 = 5000$$

حي قعلول - برج البحري - الجزائر

$56 \times 10 = 560$

$23 \times 100 = 2300$

$73 \times 10 = 730$

$84 \times 100 = 8400$

$47 \times 10 = 470$

التمرين الرابع

ملأ الجدول الآتي

| عدد الأوجه | عدد الأحرف | عدد الرؤوس | اسم الجسم |
|------------|------------|------------|-------------------|
| 0 | 0 | 0 | اسطوانة |
| 6 | 12 | 8 | متوازي المستطيلات |

الوضعية الإدماجية

الأجوبة

العمليات

$$\begin{array}{r} 135 \\ 45 \\ \hline 180 \end{array}$$

$$\begin{array}{r} 45 \\ 3x \\ \hline 135 \end{array}$$

$$\begin{array}{r} 180 \\ 45x \\ \hline 8100 \end{array}$$

180

$45x$

$+ \quad 900$

7200

8100

باع في المساء 135 مترا من القماش

$135 = 3 \times 45$

باع في اليوم 180 مترا من القماش

$180 = 45 + 135$

ثمن كل القماش هو 8100 دينار

$8100 = 45 \times 180$