



ECOLE SALIM



الجمهورية الجزائرية الديمقراطية الشعبية

وزارة التربية الوطنية

مؤسسة التربية و التعليم الخاصة **سليم**

ETABLISSEMENT PRIVE D'EDUCATION ET D'ENSEIGNEMENT SALIM



www.ets-salim.com



021 87 10 51



021 87 16 89



Hai Galloul - bordj el-bahri alger

رخصة فتح رقم 1088 بتاريخ 30 جانفي 2011

تحتوي - ابتدائي - متوسط - ثانوي

إعتماد رقم 67 بتاريخ 06 سبتمبر 2010

المستوى: الثالثة ابتدائي (3AP) ماي: 2015

اختبار رقم 2 للفصل الثالث في مادة الرياضيات

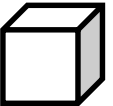

التمرين الأول: ابحث عن الكتلة المناسبة في كل حالة لتحقيق المساواة : 01.5 ن

$$300 \text{ g} + 500 \text{ g} + \dots = 1000 \text{ g} = 1 \text{ Kg}$$

$$250 \text{ g} + \dots = 1000 \text{ g} = 1 \text{ Kg}$$

$$600 \text{ g} + \dots = 1000 \text{ g} = 1 \text{ Kg}$$

التمرين الثاني: 02.5 ن

عدد الأحرف	عدد الرؤوس	عدد الأوجه	تسميته	المجسم
.....	
.....	

الصفحة

حي قعلول - برج البحري - الجزائر

Web site : www.ets-salim.com /021.87.16.89 -الفاكس : 021.87.10.51 : ☎

التمرين الثالث: 4×0.25

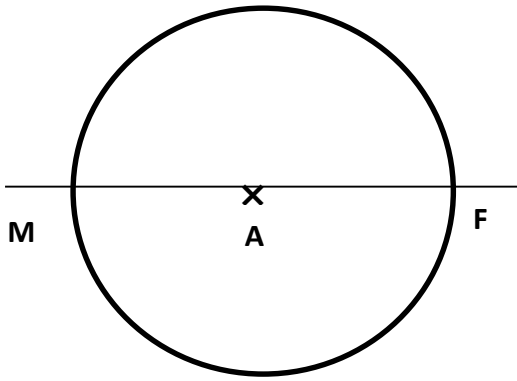
أرادت المعلمة أن تكرم 5 تلاميذ متفوقين ، فوزعت عليهم بالتساوي 32 جائزة .

- كم أخذ كل تلميذ ؟ وكم بقي ؟

الحل: (ملء الفراغ بما يناسبه)

$$\dots = (\dots \times \dots) + \dots$$

التمرين الرابع : اكمل ملء الفراغ بالكلمة المناسبة :



- النقطة A هي الدائرة .

- القطعة [FM] هو الدائرة .

- القطعة [AF] هي الدائرة .

المشكلة:

قررت أنت و زملائك مساعدة أحد الفقراء ، فاشترتيم له 3 أقمصا بـ 500 دينارا للقميص الواحد ، و حذاءين (2) بـ 1200 دينارا للحذاء الواحد ، و بذلة رياضية بـ 1300 دينارا .

- أحسب ثمن كل المشتريات .

- أعطيتم للبائع مبلغ 6000 ديناراً .

- ما هو المبلغ الذي يرجعه لكم ؟

الصفحة

حي قعلول - برج البحري - الجزائر

الأجوبة

الحل

العمليات

الصفحة

حي قعلول - برج البحري - الجزائر

Web site : www.ets-salim.com /021.87.16.89 -الفاكس : Tel-Fax : 021.87.10.51 :☎