



الهستوى :الأولى ابتدائي (1AP) هـاي: 2015

اختبار رقم 1 للفصل الثالث في مادة الرياضيات

التمرين الاول: أنجز العمليات التالية

$$\begin{array}{r} 28 \\ + \\ 11 \\ \hline = \dots \end{array}$$

$$28+11 = \dots$$

$$\begin{array}{r} 45 \\ + \\ 13 \\ \hline = \dots \end{array}$$

$$45+13 = \dots$$

$$\begin{array}{r} 34 \\ + \\ 22 \\ \hline = \dots \end{array}$$

$$34+22 = \dots$$

التمرين الثاني: أرتب الاعداد من الاصغر الى الاكبر

47 ، 52 ، 34 ، 25 ، 79 ، 18 ، 62

18
----	----	----	----	----	----	----



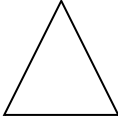

التمرين الثالث: أحسب ثم أقرن بتلوين المناسب

45	أصغر من	50+4 = ..
	يساوي	
	أكبر من	

20+20 = ..	أصغر من	30+5 = ..
	يساوي	
	أكبر من	

40+3 = ..	أصغر من	70+3 = ..
	يساوي	
	أكبر من	

التمرين الرابع: أسمى الأشكال التالية

			
--	--	--	--

التمرين الخامس: مشكلة

أعطى الأب لسلمى 37 ديناراً و زادتها أمها 21 ديناراً
- احسب المبلغ الذي صار عندها؟

الجواب	العميلة
..... + =	$ \begin{array}{r} \cdot \cdot \\ + \\ \cdot \cdot \\ \hline = \cdot \cdot \end{array} $
صار عند سلمى..... ديناراً	