



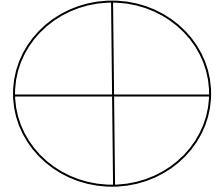
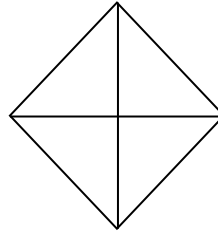

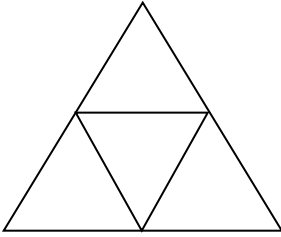
مارس: 2015

المستوى : الثالثة ابتدائي (3AP)

اختبار رقم (3) للفصل الثاني في مادة الرياضيات

التمرين الأول: 02 ن

أ - ألون ربع كل شكل من الأشكال الآتية :



ب- أضع الرمز المناسب (= ، < ، >) مكان النقط :

$$99 \times 10 \dots\dots 990 -$$

$$78 \times 1 \dots\dots 7 \times 4 -$$

$$5 \times 4 \dots\dots 5 + 5 + 5 -$$

$$6 \times 2 \dots\dots 3 \times 4 -$$

التمرين الثاني : 2 ن

أ- صنّف الأعداد الآتية إلى أعداد فردية و أعداد زوجية : 215 - 2076 - 1543 - 7248 .

أعداد فردية
أعداد زوجية

ب- رتب كل الأعداد ترتيبا تصاعديا :

.....

□ التمرين الثالث: 1.25 ن

أتمم إلى 100 أو 1000 :

$$\dots + 80 = 100$$
$$\dots + 370 = 1000$$

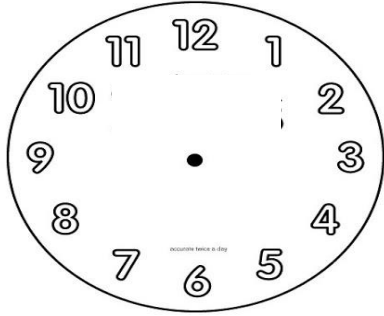
$$600 + \dots = 1000$$

$$75 + \dots = 100$$

$$900 + \dots = 1000$$

□ التمرين الرابع: 01 ن

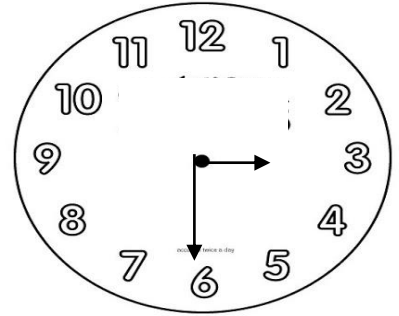
اقرأ التوقيت و ارسـم عقارب الساعة :



صباحا : 15 : 12

ليلا : 15 : 00

اكتب التوقيت المناسب صباحا و مساء :



صباحا :

مساء :

□ المشـكلة : 03.75 ن

يعطيك والدك كل يوم 65 ديناراً ، و تعطيك أمك مبلغاً يقل عنه بـ 15 ديناراً .

- ما هو المبلغ الذي تعطيه لك أمك ؟

- ما هو المبلغ الذي صار عندك ؟

أما صديقك فكان يتحصل كل يوم على 120 ديناراً .

- احسب المبلغ الذي يجمعه صديقك خلال أسبوع (7 أيام) .

حي قعلول - برج البحري - الجزائر