

الجمهورية الجزائرية الديمقراطية الشعبية

وزارة التربية الوطنية

مؤسسة التربية والتعليم الخاصة سليم

ETABLISSEMENT PRIVE D'EDUCATION ET D'ENSEIGNEMENT SALIM



www.ets-salim.com



021 87 10 51



021 87 16 89



Hai Galloul - bordj el-bahri alger

رخصة فتح رقم 1088 بتاريخ 30 جانفي 2011

مختبري- ابتدائي- متوسط - ثانوي

إعتماد رقم 67 بتاريخ 06 سبتمبر 2010

جانفي 2014

المستوى الرابع ابتدائي 4AP

الإختبار رقم 1 للفصل الثاني في مادة الرياضيات

التمرين الأول:

أكمل التحويلات الآتية:

$$83dm = \dots\dots\dots m \dots\dots\dots dm$$

$$57cm = \dots\dots\dots mm$$

$$139 dm = \dots\dots m \dots\dots dm$$

التمرين الثاني:

أكمل الجدول:

العدد	الكتابة بالحروف
56100
38050
.....	خمسة وعشرون ألفا و ستمائة و عشرة

التمرين الثالث:

- عين النقط A, B, C بهذا الترتيب على استقامة واحدة حيث البعد بين A و B هو 4cm

والبعد بين C و B هو 3cm

- ما هو البعد بين C و A؟ أو ما هو طول القطعة [AC] ؟

- أرسم القطعة [EF] توازي (AC)

إقلب الورقة

الصفحة 2/1

حي قعلول - برج البحري - الجزائر

Web site : www.ets-salim.com /021.87.16.89 : Tel-Fax : 021.87.10.51 : ☎

التمرين الرابع:

- لفلح 265 Kg من البرتقال وضعها بالتساوي في صناديق وزن كل صندوق 50Kg

- ما هو عدد الصناديق المحصل عليها؟

- كم كيلوغراما بقي ؟

الوضعية:

- ذهبت عائلة في نزهة إلى حديقة التسلية . عند مدخل الحديقة اشترى الأب 5 تذاكر للألعاب

ثمن كل تذكرة 250 دينار.

- ما هو ثمن كل التذاكر؟

تناولت العائلة 6 مثلجات ثمن المثلجة الواحدة 50 دينار وحلويات بـ 245 دينار ومشروبات بـ

300 دينار


- كم كلفت هذه النزهة الأب؟

بالتوفيق

الصفحة 2/2

حي فقلول - برج البحري - الجزائر

Web site : www.ets-salim.com /021.87.16.89 : الفاكس : Tel-Fax : 021.87.10.51 : ☎



الجمهورية الجزائرية الديمقراطية الشعبية

وزارة التربية الوطنية

مؤسسة التربية و التعليم الخاصة سليم

ETABLISSEMENT PRIVE D'EDUCATION ET D'ENSEIGNEMENT SALIM



www.ets-salim.com



021 87 10 51



021 87 16 89



Hai Galloul - bordj el-bahri alger

رخصة فتح رقم 1088 بتاريخ 30 جانفي 2011

مختبري- ابتدائي- متوسط - ثانوي

إعتماد رقم 67 بتاريخ 06 سبتمبر 2010

جانفي 2014

المستوى الرابع ابتدائي 4AP

تصحيح الإختبار رقم 1 للفصل الثاني في مادة الرياضيات

التمرين الأول:

أكمل التحويلات :

$$83\text{dm} = 8 \text{ m } 3 \text{ dm}$$

$$57\text{cm} = 570\text{mm}$$


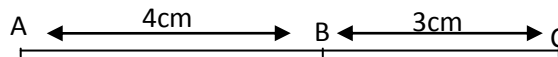
$$139 \text{ dm} = 13 \text{ m } 9 \text{ dm}$$

التمرين الثاني:

أكمل الجدول:

العدد	الكتابة بالحروف
56100	ستة و خمسون ألفا و مائة.
38050	ثمانية و ثلاثون ألفا و خمسون.
25610	خمسة و عشرون ألفا و ستمائة و عشرة

التمرين الثالث:



البعد بين A و C هو 7cm فمنه طول : $7\text{cm} : [AC]$

حي قعلول - برج البحري - الجزائر

Web site : www.ets-salim.com /021.87.16.89 - الفاكس : 021.87.10.51

التمرين الرابع:

$$M_{50} = \{0, 50, 100, 150, 200, 250\}$$

$$265 = (50 \times 5) + 15$$

عدد الصناديق المحصل عليها: 5 صناديق.

بقي له: 15 كيلوغراما.

الوضعية الإدماجية:

$$250 \times 5 = 1250$$

ثمن كل التذاكر: 1250 دينارا

$$50 \times 6 = 300$$

ثمن المثلجات: 300 دينارا

$$1250 + 300 + 245 + 300 = 2095$$

كلفت هذه النزهة الأب: 2095 دينارا