



ECOLE SALIM



الجمهورية الجزائرية الديمقراطية الشعبية

وزارة التربية الوطنية

مؤسسة التربية و التعليم الخاصة سليم

ETABLISSEMENT PRIVE D'EDUCATION ET D'ENSEIGNEMENT SALIM



www.ets-salim.com



021 87 10 51



021 87 16 89



Hai Galloul - bordj el-bahri alger

رخصة فتح رقم 1088 بتاريخ 30 جانفي 2011

ثغضبري- ابتدائي- متوسط - ثانوي

إعتماد رقم 67 بتاريخ 06 سبتمبر 2010

فيفري 2014

المستوى الخامس ابتدائي 5AP

الإختبار رقم 2 للفصل الثاني في مادة الرياضيات

التمرين الأول:

أنجز عموديا العمليات الآتية

$$43,15 + 65,55 =$$

$$871,22 + 15,09 =$$

$$314,81 - 168,47 =$$

$$432 - 217,28 =$$

التمرين الثاني:

أحصر العدد العشري بين عددين طبيعيين متتاليين

.....<54,13<.....

.....<15,26<.....

.....<8,01<.....

.....<27,87<.....

الصفحة 2/1

حي قعلول - برج البحري - الجزائر

Web site : www.ets-salim.com /021.87.16.89 : الفاكس : 021.87.10.51 : ☎

التمرين الثالث:

جمع رجل مبلغا من المال قيمته 8000 دينار صرف في المرة الأولى $\frac{1}{4}$ المبلغ ثم صرف منه في المرة الثانية $\frac{2}{4}$ المبلغ - ما هو المبلغ الكلي الذي صرفه الرجل؟

التمرين الرابع:

- ارسم مستقيما (d) وعلم النقطة A تبعد عنه ب: 4 سم .
 - ارسم مستقيما يشمل النقطة A ويكون عموديا على المستقيم (d) ويقطعه في النقطة C.
 - ارسم مستقيما يشمل النقطة A ويقطع المستقيم (d) في النقطة B.
- ماذا نسمي الشكل الناتج عن تقاطع هذه المستقيمات.

الوضعية الإدماجية:

اشترى جدك بستان شكله كما هو مبين في الشكل.

15m

25M


- احسب محيط هذا البستان .
 - أحيط بسياج حيث ترك مدخل عرضه 3m.
 - أوجد طول السياج المستعمل .
- إذا كان ثمن المتر الواحد من السياج هو 9,5 دينار وتكلفة العمال تقدر ب 7855,52 دينار.

- ما هو المبلغ الإجمالي لتسييج البستان؟
- غرست أشجار الزيتون على محيط البستان حيث المسافة بين شجرة وأخرى 5m.
- ما هو عدد أشجار الزيتون المغروسة؟

بالتوفيق

الصفحة 2/2

حي فقلول - برج البحري - الجزائر



الجمهورية الجزائرية الديمقراطية الشعبية

وزارة التربية الوطنية

مؤسسة التربية و التعليم الخاصة سليم

ETABLISSEMENT PRIVE D'EDUCATION ET D'ENSEIGNEMENT SALIM



www.ets-salim.com



021 87 10 51



021 87 16 89



Hai Galloul - bordj el-bahri alger

رخصة فتح رقم 1088 بتاريخ 30 جانفي 2011

تخصيري - ابتدائي - متوسط - ثانوي

إعتماد رقم 67 بتاريخ 06 سبتمبر 2010

فيفري 2014

المستوى الخامس ابتدائي 5AP

تصحيح الإختبار رقم 2 للفصل الثاني في مادة الرياضيات

التمرين الأول:

432,00	314,81	871,22	43,15
-	-	+	+
217,28	168,47	15,09	65,55
<hr/>	<hr/>	<hr/>	<hr/>
214,72	146,34	886,31	108,70

التمرين الثاني:

$$54 < 54,13 < 55$$

$$15 < 15,26 < 16$$

$$8 < 8,01 < 9$$

$$27 < 27,87 < 28$$

التمرين الثالث:

المبلغ الكلي الذي صرفه الرجل هو : 6000 دج

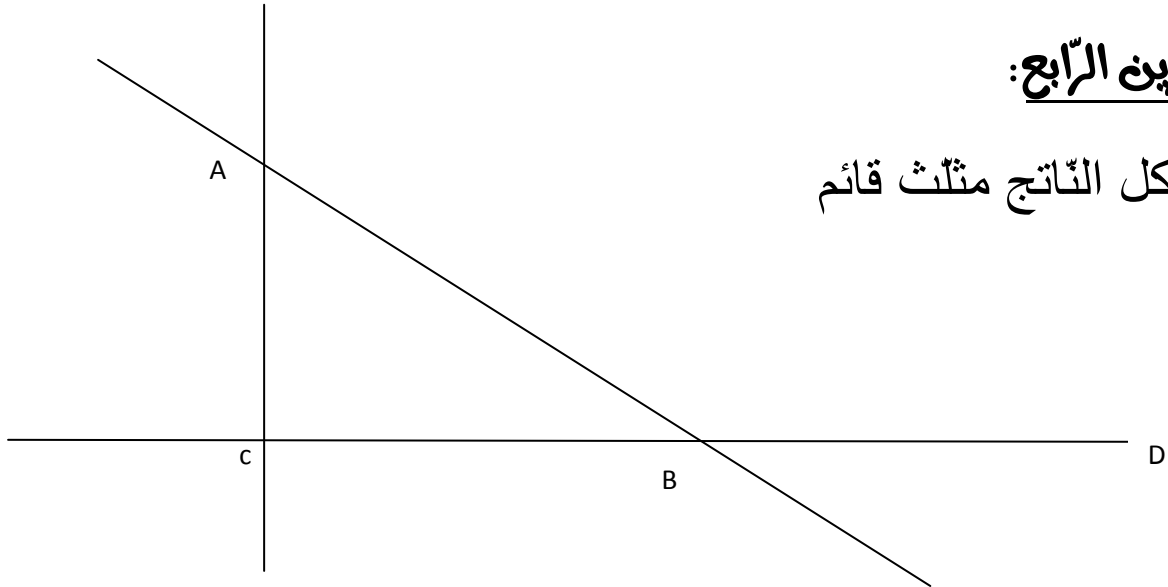
$$(8000 \times \frac{1}{4}) + (8000 \times \frac{2}{4}) = 6000$$

الصفحة 2/1

حي قعلول - برج البحري - الجزائر


التمرين الرابع:

الشكل الناتج مثلث قائم



الوضعية الإدماجية:

اشترى جدك بستان شكله كما هو مبين في الشكل.



محيط هذا البستان 80 متر

$$(25 + 15) \times 2 = 80$$

طول السياج المستعمل: 77 متر

$$80 - 3 = 33$$

- المبلغ الإجمالي لتسييج البستان هو: 8597,02 دج

$$(9.5 \times 77) + 7855,52 = 8795,02$$

- عدد أشجارا لزيتون المغروسة هو: 16 شجرة

$$80 \div 5 = 16$$

الصفحة 2/2

حي قعلول - برج البحري - الجزائر