

الجمهورية الجزائرية الديمقراطية الشعبية
وزارة التربية الوطنية

مؤسسة التربية والتعليم الخاصة - سليم -

S . A . L . I . M ETABLISSEMENT PRIVE D'EDUCATION ET D'ENSEIGNEMENT - SALIM -

إعداد رقم 67 بتاريخ 06 سبتمبر 2010 تحضيرى - ابتدائى - متوسط - ثانوى رخصة فتح رقم 1088 بتاريخ 30 جانفى 2011

المستوى: الثالث متوسط (3AM) مارس 2013

المادة: 01/30 اختبار الفصل الثالث في مادة العلوم الطبيعية

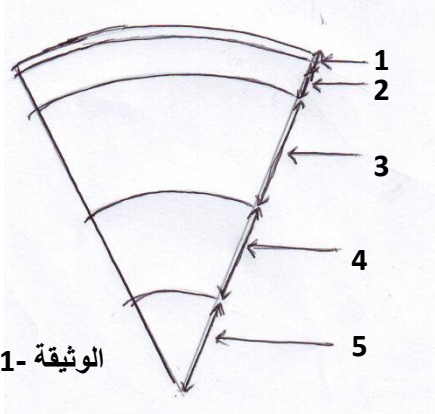
التمرين الأول:

صل بسهم بين الجمل التي تؤدي إلى الجواب الصحيح

- | | |
|----------------------|---------------------------------|
| -بركان اتينا | -في شمال صقلية |
| -براكين انفجارية | -ارتفاعه 1270 |
| -بركان فيزوف | -مشاهدة لبراكين الاندير |
| -براكين حديثة النشأة | -في الجنوب الشرقي لمدينة بابولي |
| -بركان سترمبولي | -شمال جزيرة صقلية |

التمرين الثاني

- 1-انقل الشكل المقابل في الوثيقة -1- وأعطي عنوانا مناسباً له.
- 2-سم العناصر المرقمة من 1 إلى 5
- 3-ما هي طبيعة كل من العناصر 1-2-3-4-5
- 4-ما هو الاسم الذي يطلق على العنصرين (1-2) معا

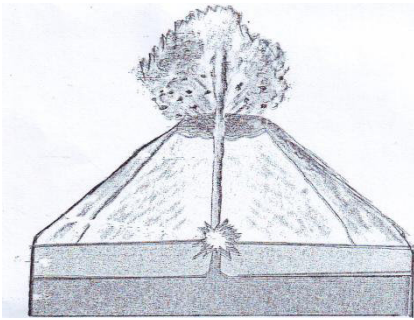


الوثيقة -1

التمرين الثالث

- شاهد احمد مع أسرته الأسبوع الفارط في إحدى القنوات الوثائقية شريطاً مدعماً بصور حقيقية حول البراكين الموجودة في غرب أمريكا الجنوبية الموضحة في الوثيقة 2.

- 1-حدد نوع هذه البراكين .
- 2-اذكر نواتج ثوران هذه البراكين.
- 3-ما المقصود بكلمة ماغما؟



الوثيقة -2

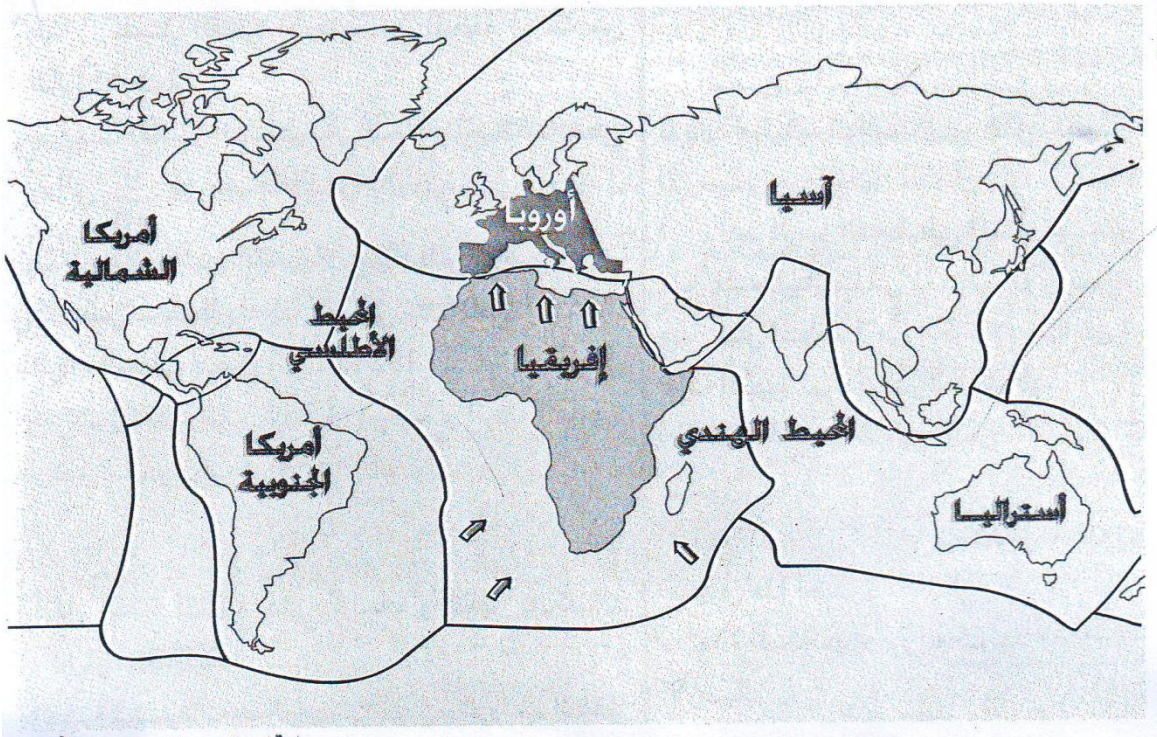
الصفحة 2/1

- حي فعلول - برج البحري - الجزائر -

- أثناء مشاهدة الشريط سمع والد احمد العبارة التالية "
"تعتبر الغازات المحرك الأساسي لثوران البركان "
1- اشرح هذه العبارة مدعما إجابتك برسم تجربة تبين ذلك

الوضعية الإدماجية :

- بينت دراسة الصفائح الليتوسفير للكرة الأرضية أن الصفيحة الإفريقية محاطة بظهورات و هذا ما جعلها في زحزحة مستمرة
1- من خلال هذه الوثيقة و مكتسباتك القبلية



زحزحة الصفيحة الإفريقية نحو الشمال إتجاه قوى الدفع

- 1- حدد الظهورات المحاطة بالصفيحة الإفريقية مبينا انعكاسات نشاطها على الصفيحة الإفريقية.
2- اشرح بوضوح نواتج هذه الزحزحة في حوض البحر الأبيض المتوسط.

بالتوفيق