

Date : 01/12/2009 Classe : 7 ^{ème} année B2 Durée : 1 heure	CORRECTION DU DEVOIR DE SYNTHESE N°1	Professeur : Melle Anissa Teyeb Matière : Informatique Ecole Préparatoire : Cité El Khadra
Nom :	Prénom :	Note : /20

PARTIE THEORIQUE (14 points)

Exercice 1 (/3 points)

Corriger ces phrases :

- ❖ L'imprimante permet de numériser les informations.
L'imprimante permet **d'imprimer** les informations.
- ❖ Un fichier est un ensemble de fichiers et de dossiers.
Un **dossier** est un ensemble de fichiers et de dossiers.
- ❖ Un fichier est identifié par un nom et un prénom.
Un fichier est identifié par un nom et une **extension**.

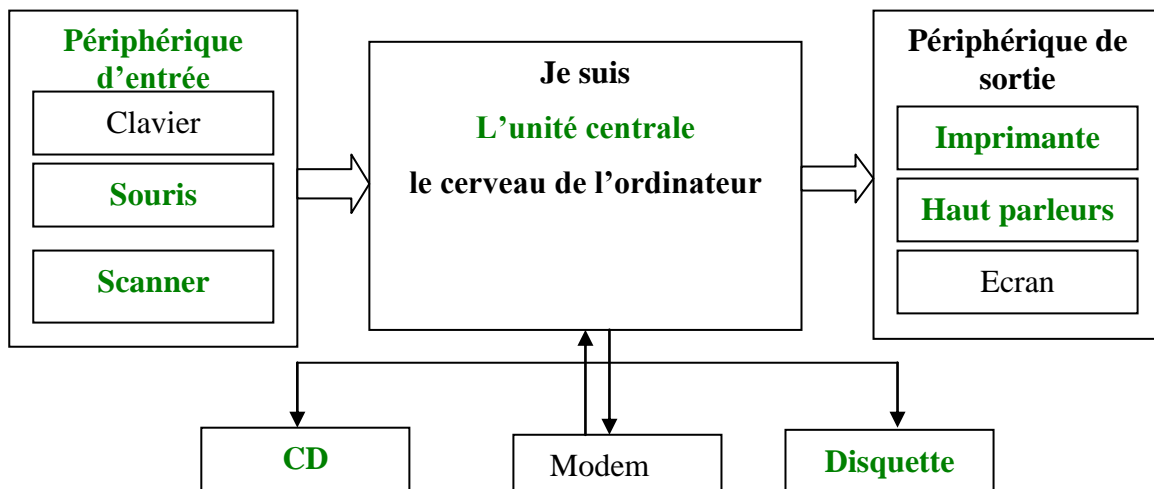
Exercice 2 (/2 points)

- 1 - Encercler les périphériques d'entrée en vert.
- 2 - Encercler les périphériques de sortie en bleu.



Exercice 3 (/4 points)

Compléter le schéma suivant :



Exercice 4 (/3 points)

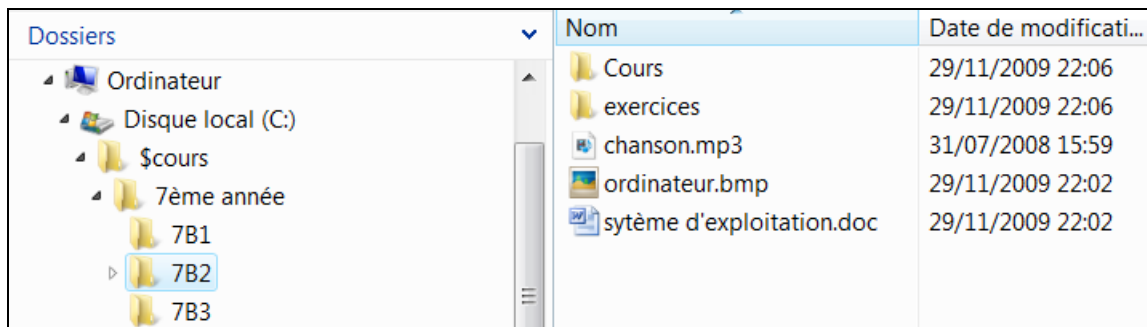
1) Définir le système d'exploitation.

Un système d'exploitation est un ensemble de programmes nécessaire au démarrage et à l'utilisation de l'ordinateur.

2) Donner deux exemples.

- **Unix**
- **Windows XP**

Exercice 5 (/2 points)



1) Combien de dossiers nous avons dans le dossier « **7B2** » ?

2 dossiers : cours et exercices

2) Combien de fichiers nous avons dans le dossier « **7B2** » ?

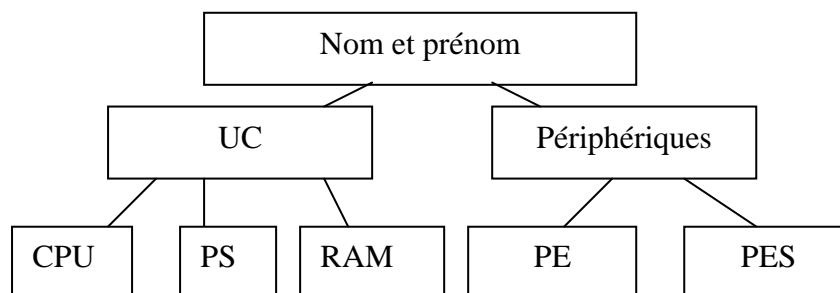
3 fichiers : chanson.mp3, ordinateur.bmp, système d'exploitation.doc

3) Quel est le type du fichier « **chanson.mp3** »?

Fichier de type son

PARTIE PRATIQUE (/6 points)

1) Créer l'arborescence suivante sous le disque local **C:\7B2**



2) Renommer le dossier « **CPU** » en « **processeur** ».

3) Déplacer le dossier « **PS** » dans le dossier « **Périphériques** »

4) Supprimer le dossier « **PES** »

Questions	Question 1	Question 2	Question 3	Question 4
Barème	3 pts	1 pt	1 pt	1 pt

