

Date : 01/12/2009	<b>CORRECTION DU DEVOIR DE SYNTHESE N°1</b>	Professeur : Melle Anissa Teyeb
Classe : 7 <sup>ème</sup> année B3		Matière : Informatique
Durée : 1 heure		Ecole Préparatoire : Cité El Khadra
Nom : ..... Prénom : .....		Note : ..... /20

**PARTIE THEORIQUE (14 points)**

**Exercice 1** (..../3 points)

Complétez les définitions suivantes par les mots ci-dessous.

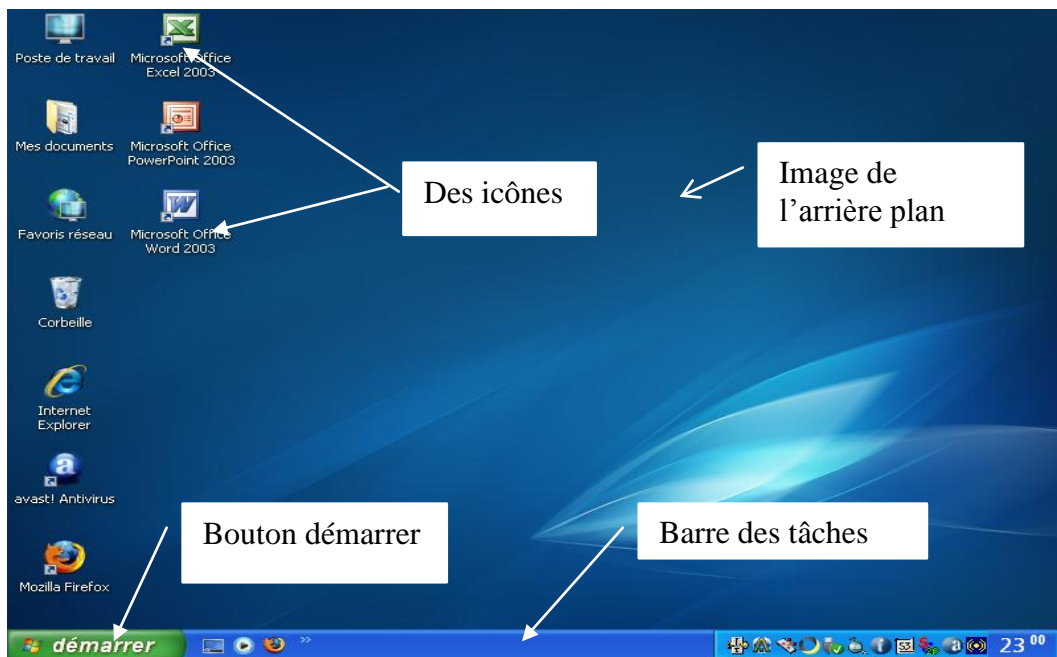
**Giga-octet / support de stockage / programmes / capacité / disque dur / démarrage**

Le système d'exploitation est un ensemble de **programmes** nécessaires au **démarrage** et à l'utilisation de l'ordinateur.

Le système d'exploitation est sauvegardé dans le **disque dur** qui est le **support de stockage** principal de l'ordinateur, il est caractérisé par une grande **capacité** pouvant dépasser 700 **Giga-octet**.

**Exercice 2** (..../4 points)

Mettre dans chaque bulle le mot convenable de chaque objet du bureau de l'ordinateur :



**Exercice 3** (..../3 points)

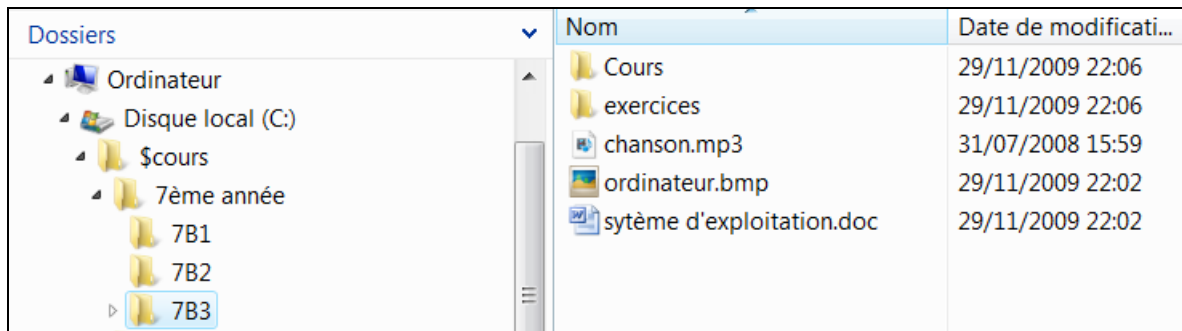
- ❖ Le microphone permet d'introduire le son à l'ordinateur. Vrai
- ❖ Le scanner permet de visualiser les informations. Faux
- ❖ Un fichier est un ensemble de fichiers et de dossiers. Faux

**Exercice 4** (.../1,5 points)

Mettre une croix devant la bonne réponse :

- ❖ Pour fermer l'ordinateur, on clique sur le bouton :
- ❖ Pour réduire une fenêtre, on clique sur le bouton :
- ❖ Pour fermer une fenêtre, on clique sur le bouton :

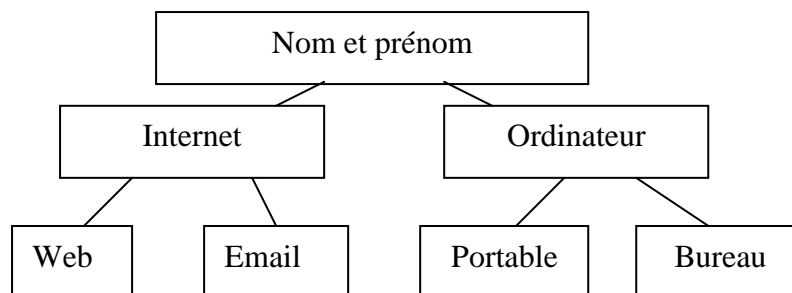
**Exercice 5** (.../2,5 points)



- 1) Le contenu du dossier « 7<sup>ème</sup> année » est **3 dossiers : 7B1, 7B2, 7B3**
- 2) Le contenu du dossier « 7B3 » est :  
**2 dossiers : Cours et exercice**  
**3 fichiers : chanson.mp3, ordinateur.bmp, système d'exploitation.doc**

**PARTIE PRATIQUE** ( /6 points)

1) Créer l'arborescence suivante sous le disque local **C:\7B3**



- 2) Renommer le dossier « **Web** » en « **Page Web** ».
- 3) Déplacer le dossier « **Email** » vers le dossier « **ordinateur** »
- 4) Supprimer le dossier « **Portable** »

<b>Questions</b>	Question 1	Question 2	Question 3	Question 4
<b>Barème</b>	<b>3 pts</b>	<b>1 pt</b>	<b>1 pt</b>	<b>1 pt</b>

