

Date : 26/10/2010 Classe : 7 ^{ème} année B7 Durée : 1 heure	DEVOIR DE CONTRÔLE N°1	Professeur : Anissa TEYEB Matière : Informatique Ecole Préparatoire : Cité El Khadra
Nom : Prénom :	Note : /20	

EXERCICE 1 : (/3 points)

1) Donner la définition du mot « informatique ». (1,5 pt)

.....
.....

2) Donner trois types d'informations. (1,5 pt)

-, -, -

EXERCICE 2 : (/5 points)

Compléter les phrases avec la liste des mots suivants.

l'unité centrale – machine – l'utilisateur – traiter – programmes.

Un ordinateur est une automatique qui fonctionne avec des
..... Tout ordinateur doit assurer les tâches suivantes :

- Entrer les données à
-les données avec l'unité centrale.
- Sortir des résultats à

EXERCICE 3 : (/4 points)

Classer ces périphériques selon leurs catégories :

Manette de jeu – Imprimante – Microphone – Flash disque – Modem – Disquette –
Haut parleurs – Appareil photo numérique

Périphérique d'entrée	Périphérique de sortie	Périphérique d'entrée/sortie





EXERCICE 4 : (/2 points)

Répondre par vrai ou Faux.

1. Les périphériques d'entrée permettent le stockage d'informations.
2. Tous les périphériques se branchent à l'unité centrale.
3. L'unité centrale est nécessaire pour le fonctionnement de l'ordinateur.
4. Les supports de stockage sont des périphériques d'entrée/sortie.

EXERCICE 5 : (/6 points)

Compléter le tableau suivant :

Composant	Nom	Description du composant
	Il permet des données.
	Il permet de des textes ou des images.
	Il permet de des textes
	C'est un dispositif de pointage, utilisé pour des objets

Bon Travail