

Date : 30/10/2009	DEVOIR DE CONTRÔLE N°1	Professeur : M ^{elle} Anissa Teyeb
Classe : 7 ^{ème} année B5		Matière : Informatique
Durée : 1 heure		Ecole Préparatoire : Cité El Khadra
Nom : Prénom :		Note : /20

EXERCICE 1 (4 points)

Compléter les phrases suivantes par les mots qui manquent.

1. Un clip et un film sont des informations
2. On peut recevoir les résultats de traitement de l'unité centrale en utilisant les périphériques de
3. Les permettent de stocker une quantité d'information.
4. Traiter automatiquement des données, c'est modifier les données en utilisant une





EXERCICE 2 (6 points)

Compléter le tableau suivant en mettant une croix dans la case correspondante :

Nom du périphérique	Périphérique d'entrée	Périphérique de sortie	Périphérique d'entrée/sortie
1. Appareil photo numérique			
2. Imprimante			
3. Ecran			
4. Microphone			
5. Flash disque			
6. Stylo optique			
7. Disquette			
8. Clavier			
9. Haut parleurs			
10. Manette de jeu			
11. Lecteur code à barre			
12. Vidéo projecteur			

EXERCICE 3 : (6 points)

Compléter le tableau suivant et relier par une flèche chaque périphérique par sa description.

Nom	Périphérique	Description
.....		1) Sélectionner les objets
.....		2) Numériser des photos
.....		3) Stocker les données
.....		4) Communiquer les ordinateurs entre eux

EXERCICE 4 : (4 points)

1) Définir le mot « informatique »

.....
.....

2) Mohamed veut stocker un fichier de taille 450 Mo.

Quel est le support de stockage qu'il peut utiliser sachant qu'il dispose d'une disquette vide et d'un CD vierge. Justifier votre réponse.

Réponse :

Justification.....

.....

Bon Travail