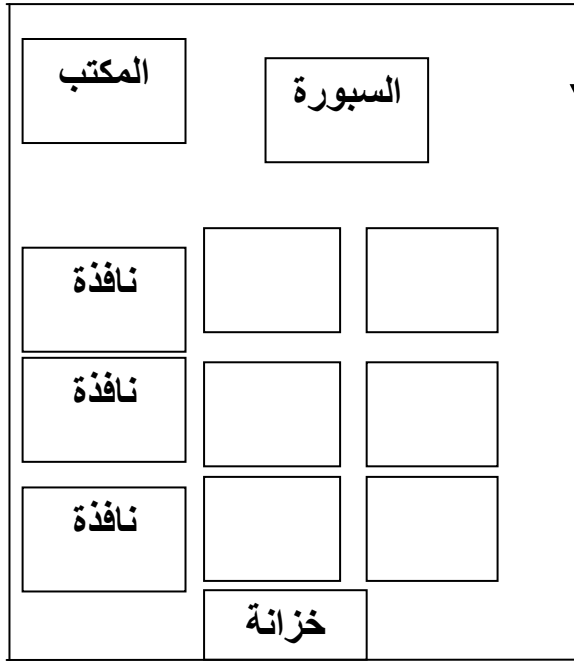


المستوى: الثالث ابتدائي 3AP ٤ نوفمبر 2011

الامتحان الفصل الأول في مادة الجغرافيا

التمرين 01:

يُمثل الشكل المقابل تصميمًا لقسمك
استعمل: أمام - خلف - يسار - يمين.
أكمل الجمل:



السبورة.....المكتب.

الخزانة..... المناضد.

النوافذ..... المناضد.

الباب..... السبورة.

التمرين 02:

أعرّف المَعْلَم والتَّصْمِيم:

المَعْلَم هو.....

التَّصْمِيم هو.....

التمرين 03:

صِلْ الإمتداد الجغرافي بتقسيمه:


الكوكب	قارات
اليابس	بُلدان
الماء	يابس وماء وغلاف جوي
القارة	بُحار ومُحيطات

بالتوفيق

الصفحة 2/2

حي قعلول - برج البحري - الجزائر

Web site : www.ets-salim.com / 021.87.16.89 : الفاكس : Tel-Fax : 021.87.10.51 ☎

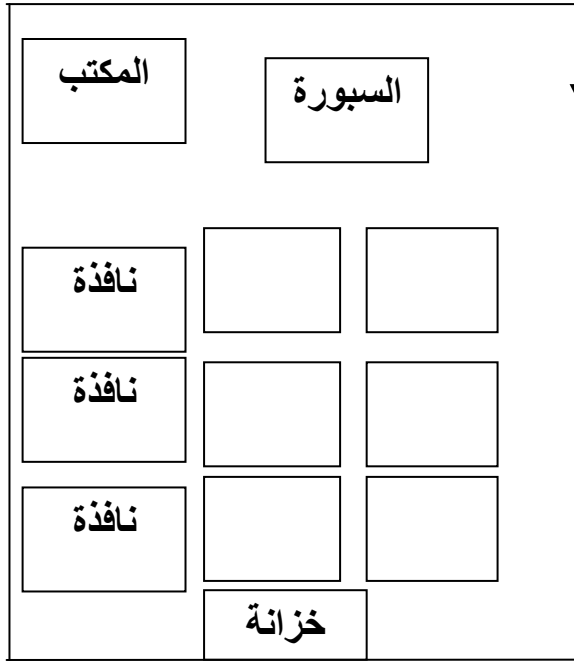


المستوى: الثالث ابتدائي 3AP نوفمبر 2011

تصحيح اختبار الفصل الأول في مادة الجغرافيا

التمرين 01:

يُمثل الشكل المقابل تصميمًا لقسمك
استعمل: أمام - خلف - يسار - يمين.
أكمل الجمل:



السبورة **يمين** المكتب.
الخزانة **خلف** المناضد.
النوافذ **يسار** المناضد.
الباب **يمين** السبورة.

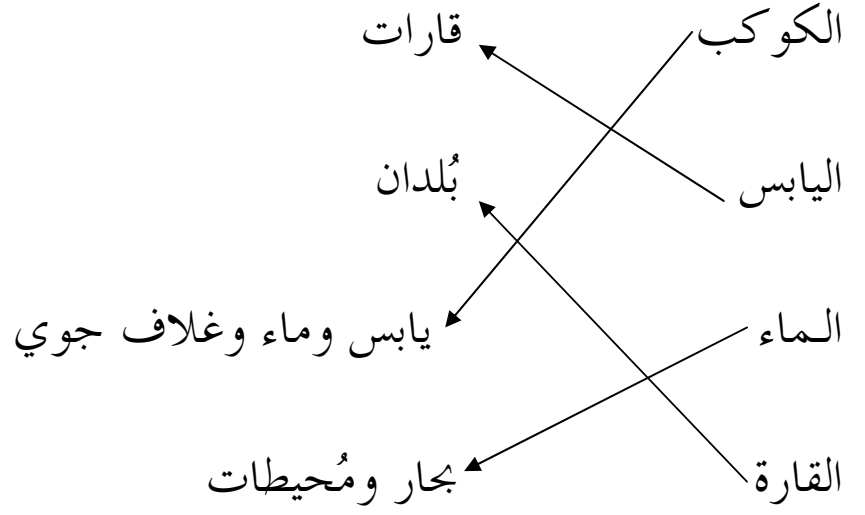
التمرين 02:

أعرّف المَعْلَم والتَّصْمِيم:

المَعْلَم هو كل شيء يسمح بالتَّعَرُّف على مكان معيّن ويكون ثابتًا.
التَّصْمِيم هو رسم مصغر لمكان أو شيء حسب شكله وأبعاده.

التمرين 03:

صِلْ الإمتداد الجغرافي بتقسيمه:



بالتوفيق

الصفحة 2/2

حي قعلول - برج البحري - الجزائر

Web site : www.ets-salim.com / 021.87.16.89 : الفاكس : Tel-Fax : 021.87.10.51 ☎