



ECOLE SALIM



الجمهورية الجزائرية الديمقراطية الشعبية

وزارة التربية الوطنية

مؤسسة التربية و التعليم الخاصة سليم

ETABLISSEMENT PRIVE D'EDUCATION ET D'ENSEIGNEMENT SALIM

www.ets-salim.com 021 87 10 51 021 87 16 89 Hai Galloul - bordj el-bahri alger

رخصة فتح رقم 1088 بتاريخ 30 جانفي 2011

غصيري- ابتدائي- متوسط - ثانوي

إعتماد رقم 67 بتاريخ 06 سبتمبر 2010

المستوى: الثالث أداب و فلسفة (3ASL) مارس 2014

المدة: 3 ساعات

اختبار الفصل الثاني في مادة التاريخ والجغرافيا

## الجزء الأول:

1 - اشرح المفاهيم التالية :

التعايش السلمي - توازن الرعب - اللجنة الثورية للوحدة و العمل

2 - عرف الشخصيات التالية :

مصطفى بن بولعيد - ليونيدبريجنيف - جورج بوش الأب .

3 - حدد المعالم التاريخية التالية :

التاريخ	الحدث
23 جوان 1954	.....
.....	إصدار قرار العفو الشامل
05 مارس 1953	.....
.....	إعلان نهاية الحرب الباردة رسميا

4 - ارجع إلى الخريطة المرفقة

**الجزء الثاني:** إن الولايات المتحدة الأمريكية و حدها من بين دول العالم ، تملك من مستوى الأخلاقي و من

الإمكانيات ما يكفي لخلق نظام دولي جديد إنه نظام دولي سلمي يرفض ابتلاع الدول الكبرى لجاراتها الصغيرة

"....."

المرجع تصريحات الرئيس الأمريكي

جورج بوش الأب 1990

**المطلوب:** انطلاقا من المقولة و مما درست أكتب مقالا تبرز فيه ما يلي :

- ملامح النظام الدولي الجديد.

- مؤسساته الفاعلة.

الصفحة 4/1

حي قعلول - برج البحري - الجزائر

Web site : [www.ets-salim.com](http://www.ets-salim.com) /021.87.16.89 -الفاكس : 021.87.10.51

## الجغرافيا:

### الجزء الأول:

- 1 - حدد مفاهيم المصطلحات التالية :
  - النطاقات - التكتل - الشركات المتعددة الجنسيات
- 2 - يمثل الاتحاد الأوروبي قوة اقتصادية عالمية ، حدد على خريطة أوروبا الصماء الأقاليم الصناعية الكبرى في الإتحاد الأوروبي
- 3 - إليك الجدول الممثل لبعض المحاصيل الزراعية للوم.أ.

المحصول	الذرة	الصوجا	القمح	الحوامض
كمية الإنتاج	256	99	62	13

### الجزء الثاني :

تتميز الولايات المتحدة الأمريكية بوزنها الاقتصادي و الديموغرافي ، الدور الذي تلعبه في القضاء العالمي .

### المطلوب :

انطلاقا من الفقرة و اعتمادا على مكتسباتك القبلية

أكتب موضوعا جغرافيا تبرز فيه

- مظاهر الهيمنة الأمريكية على العالم ؟
- أثر هيمنة الأمريكية على الاقتصاد العالمي ؟

اوربا

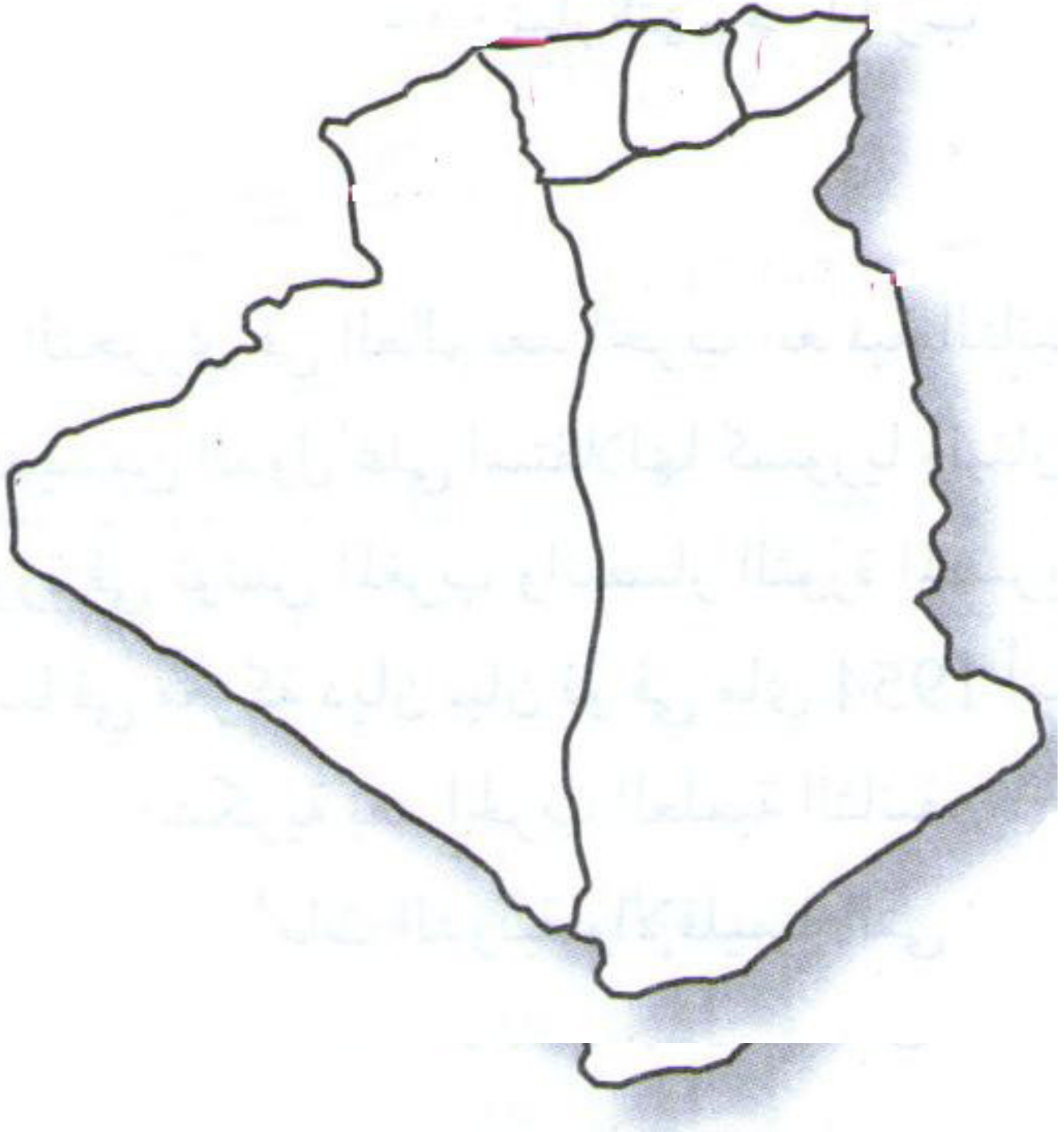


الصفحة 4/3

حي قعلول - برج البحري - الجزائر

Web site : [www.ets-salim.com](http://www.ets-salim.com) /021.87.16.89 -الفاكس : Tel-Fax : 021.87.10.51 ☎

4- على الخريطة المرفقة للجزائر بين المناطق العسكرية المحددة من طرف قيادة الثورة الجزائرية في 10 أكتوبر 1954؟



الصفحة 4/4

حي قعلول - برج البحري - الجزائر

Web site : [www.ets-salim.com](http://www.ets-salim.com) /021.87.16.89 -الفاكس : Tel-Fax : 021.87.10.51 ☎



الجمهورية الجزائرية الديمقراطية الشعبية

وزارة التربية الوطنية

مؤسسة التربية و التعليم الخاصة **سليم**

ETABLISSEMENT PRIVE D'EDUCATION ET D'ENSEIGNEMENT SALIM

www.ets-salim.com 021 87 10 51 021 87 16 89 Hai Galloul - bordj el-bahri alger

إعتماد رقم 67 بتاريخ 06 سبتمبر 2010

رخصة فتح رقم 1088 بتاريخ 30 جانفي 2011

خصيري- ابتدائي- متوسط - ثانوي

المستوى: الثالث أحياء و فلسفة (3ASL) مارس 2014

تصحيح اختبار الفصل الثاني في مادة التاريخ والجغرافيا

أولا: التاريخ

الجزء الأول:

1-المصطلحات:

- **التعايش السلمي:** مصطلح سياسي يعني تجنب العالم حربا كونية ثالثة و ذلك بالابتعاد عن الحرب الساخنة و تسوية الخلافات الدولية و حلها بالطريقة السلمية .  
نادى به الرئيس السوفياتي نيكيتا خروتشوف 1956
- **توازن الرعب:** توازن عسكري ناتج عن امتلاك كل من ال.و.م.أ و الاتحاد السوفياتي للسلح النووي (أسلحة الدمار الشامل) يتعذر فيها تغلب أحد على الآخر .
- **اللجنة الثورية للوحدة و العمل:** تأسست في 23 مارس من طرف إعطاء المنظمة OS و بعض المركزيين بهدف إعادة الوحدة لحزب حركة انتصار الحريات الديمقراطية و التحضير للثورة و بعد أن فشلت في تقريب وجهات النظر بين المركزيين و المصاليين حلت نفسها بنفسها .

2- الشخصيات:

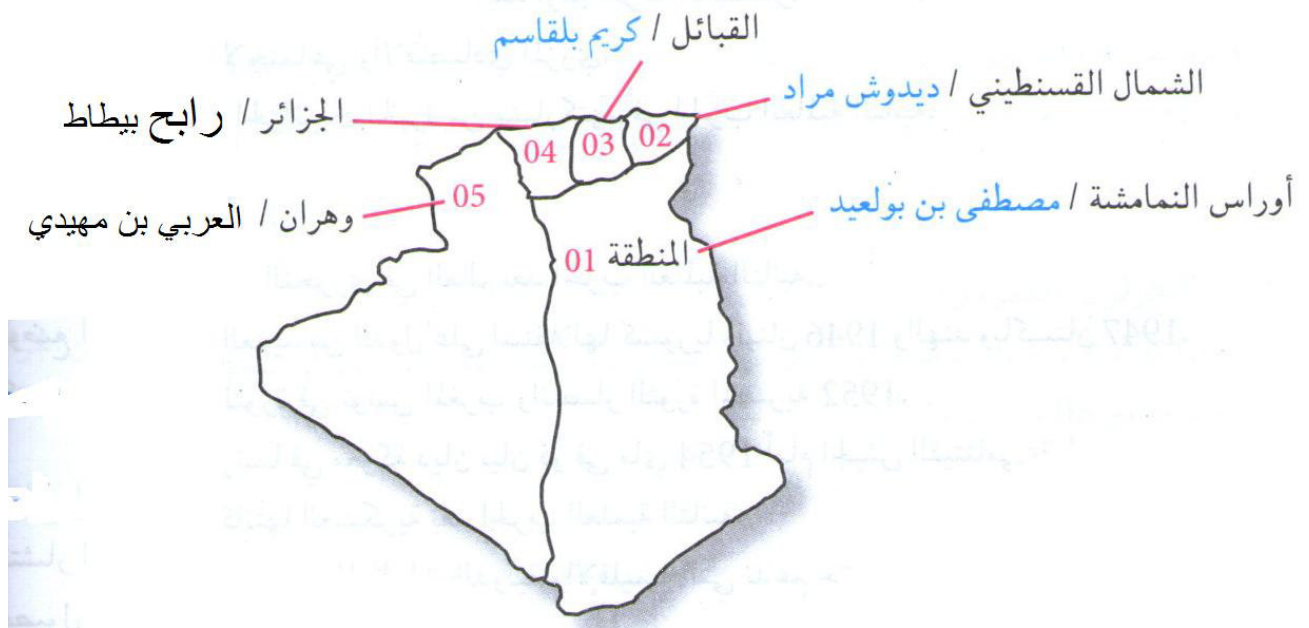
- **مصطفى بن بولعيد :** 1917 – 1956 لقب بأسد الأوراس  
أحد أعضاء حزب الشعب و منه في صفوف حركة انتصار الحريات الديمقراطية ، قائد في المنظمة الخاصة OS أشرف على تدريب الشباب الجزائري على استعمال السلاح انضم إلى المجموعة 22 ثم لجنة (6) كما أنه أحد مفجري الثورة و قائد المنطقة الأولى الأوراس النمامشية .
- **ليونيد بريجنيف :** 1906 – 1982  
انضم إلى الحزب الشيوعي 1931 في 1964 رئيسا للاتحاد السوفياتي بعد عزل خروتشوف حاول إعادة بناء مجد و قوه دولية و تقوية نفوذه في العالم الثالث .
- **جوج بوش الأب :** 1924  
الرئيس 41 للو.م.أ من 1989 – 1993 ، شهدت فترته نهاية الحرب الباردة بعد اللقاء الذي جمعه مع غوربتشوف في مالطا 1989 و انهيار المعسكر الشيوعي و التدخلات العسكرية في بنما و العراق و هو صاحب فكرة النظام الدولي الجديد .



### 3- المعالم التاريخية

التاريخ	الحدث
23 جوان 1954	اجتماع لجنة 22 في منزل دريش اليس في المدينة
09 مارس 1946	إصدار قرار العفو الشامل
05 مارس 1953	وفاة الزعيم الشيوعي ستالين
19 نوفمبر 1990	إعلان نهاية الحرب الباردة رسميا

### 4- التحديد على الخريطة المناطق العسكرية



### الجزء الثاني :

كتابة مقال تاريخي

(ملاح النظام الدولي الجديد، مؤسساته الفعالة )

### المقدمة:

- بعد صراع طويل انتهت الحرب الباردة بانهيار الاتحاد السوفياتي و ظهور نظام دولي جديد تحاول من خلاله الو.م.أ فرض سيطرتها و هيمنتها على العالم كله ، و تحول من خلاله العالم إلى قرية صغيرة وفق مبادئها و ما يخدم مصالحها في جميع المجالات
- إذن فما هي أهداف هذا النظام الدولي الجديد ؟ و ما هي مؤسساته الفعالة ؟
- الأحادية القطبية و انفراد الو.م.أ فرض هيمنتها اقتصاديا و عسكريا و سياسيا .
- حدوث التقارب الروسي في الكثير من القضايا (الأمن – إسرائيل- الحرب ضد العراق ....)
- تراجع دور هيئة الأمم المتحدة لفائدة الولايات المتحدة الأمريكية و حلفائها .
- حل و تسوية الكثير من المشاكل و التوترات الدولية وفق مصالح الدول الكبرى
- التحالف الصهيوني الصليبي ضد العالم الإسلامي

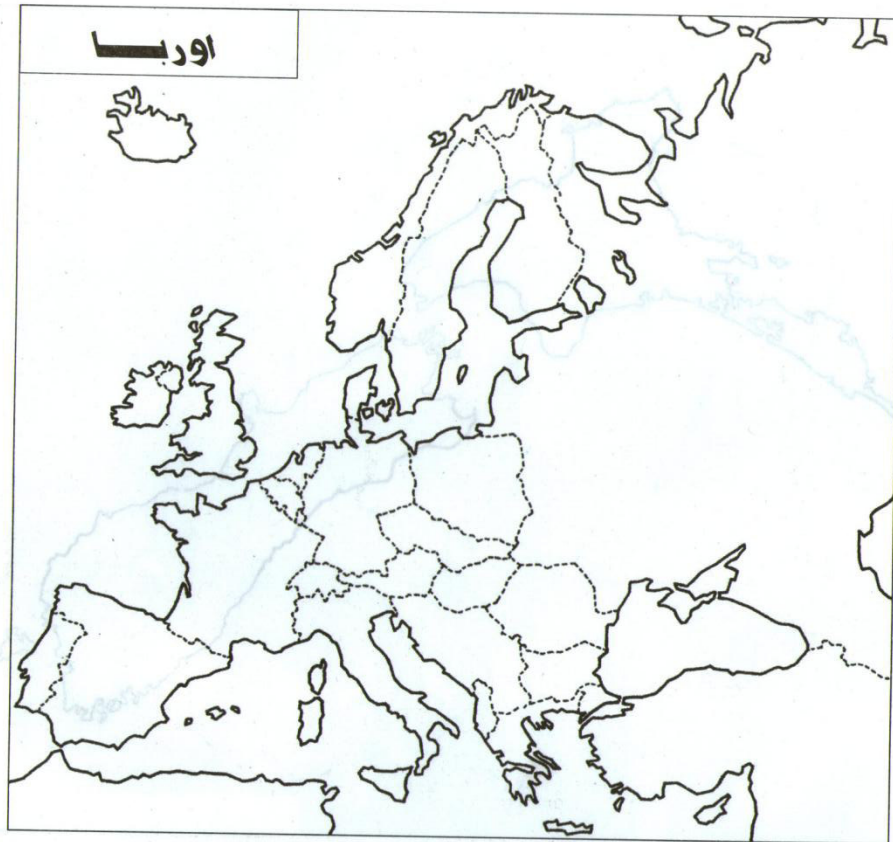
حي فعلول - برج البحري - الجزائر

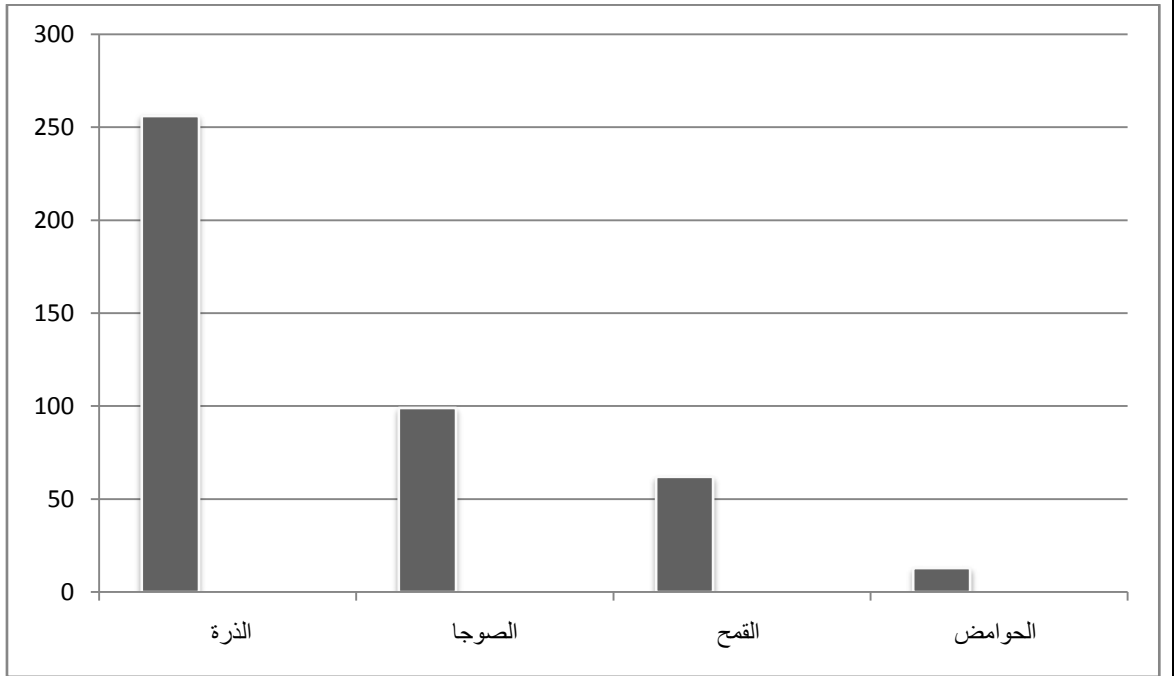
- مؤسساته الفعالة: المنظمات الدولية (هيئة الأمم المتحدة )
- المؤسسات المالية و الاقتصادية : صندوق النقد الدولي FMI ، البنك العالمي ، المنظمات التجارية العالمية OMC تستعملها للضغط على الدول العالم الثالث و التدخل في شؤونها الداخلية .
- المؤسسات العسكرية : حلف الشمال الأطلسي NATO
- المؤسسات الإعلامية: CNN الانترنت
- المؤسسات الاقتصادية: الشركات المتعددة الجنسيات

### تصحيح الجغرافيا:

#### 1-تحديد المفاهيم:

- الشركات المتعددة الجنسيات : شركات عملاقة ذات رؤوس أموال كبيرة و إمكانيات تكنولوجية ضخمة لها فروع في مختلف أنحاء العالم تشغل عشرات فروع في مختلف أنحاء العالم ، تشغل عشرات الآلاف من العمال مثل شركة توتال الفرنسية .
  - النطاقات : تخصيص مساحات زراعية شاسعة جدا لإنتاج محصول واحد تتطلب إمكانيات طبيعية و بشرية و مادية ضخمة تتميز بها الوم.أ مثل نطاق الذرة و القمح .
  - التكتل : توحيد الإمكانيات المتوفرة في دولتين أو أكثر بغية تشكيل قوة قد يكون تكتل سياسي – عسكري –اقتصادي
- 2-تحديد الأقاليم الصناعية على الخريطة الصماء للإتحاد الأوروبي





## الجزء الرابع:

### كتابة مقال جغرافي

مظاهر الهيمنة الأمريكية على العالم ؟

اثر الهيمنة الأمريكية على الاقتصاد العالمي ؟

### مقدمة:

تعتبر الوم.أ أول قوة اقتصادية اليوم و يعود هذا إلى العديد من العوامل الاقتصادية و التاريخية و الطبيعية فما هي مظاهر القوة الاقتصادية العالمية ؟

العرض : مظاهر الهيمنة الأمريكية على الاقتصاد الأمريكي

- تحتل الوم.أ المرتبة الأولى في العديد من المنتجات الزراعية مثل الصوجا 56 م طن و القمح 63مطن و تربية الأبقار تحتل المرتبة (4) بـ102 مليون رأس .
- أما الصناعة فتحتل كذلك المرتبة الأولى في العديد من الصناعات مثل صناعة السيارات ب 12م مركبة و تكرير البترول ب 12 %
- أما هذه الهيمنة على الاقتصاد العالمي
- استعمال الغذاء كسلاح أخضر للضغط على العديد من الدول لتميرير سياستها و قوانينها كما أنها تحتوي على أشهر البورصات وول ستيرت بنيويورك
- أشهر الشركات المتعددة الجنسيات العاملة خاصة في ميدان النفط ، قيمة الدولار و تداوله عالميا

### الخاتمة :

نستخلص أن الهيمنة الأمريكية على الاقتصاد العالمي بدأ في الانحصر بسبب المنافسة الخارجية المتمثلة في الاتحاد الأوروبي و اليابان.