



الجمهورية الجزائرية الديمقراطية الشعبية
وزارة التربية الوطنية

مؤسسة التربية والتعليم الخاصة - سليم -

S . A . L . I . M ETABLISSEMENT PRIVE D'EDUCATION ET D'ENSEIGNEMENT - SALIM -

إعتماد رقم 67 بتاريخ 06 سبتمبر 2010

تحضيري - ابتدائي - متوسط - ثانوي

رخصة فتح رقم 1088 بتاريخ 30 جانفي 2011

المستوى: الثالث ثانوي (علوم تجريبية، رياضيات) (3ASS.3ASM) ماي 2013

المدة: 03 سا 30 د

الاختبار التجريبي في مادتي التاريخ والجغرافيا

الموضوع الثاني

التاريخ:

الجزء الأول: (06ن)

نجحت الثورة في توحيد الشعب والتفافه حول جبهة التحرير الوطني، وجيش التحرير الوطني، وولائه لحكومته المؤقتة، وبذلك استطاعت أن تفشل المخططات الاستعمارية بفضل تخطيطها لتنظيم الشعب وتطوير جيش التحرير، الذي رسم في مؤتمر الصومام.

مؤتمر الصومام وتطور الثورة الجزائرية / زغدي لحسن

المطلوب:

- 1 - حدّد مفهوم المصطلحات التي تحتها خط.
- 2 - عرف بالشخصيات التالية :
رابح بيطاط، محمد بوضياف، شارل ديغول.
- 3 - أكمل جدول الأحداث التالي :

04 أبريل 1949		23 مارس 1954
	توقيع اتفاقية إيفيان الثانية	

الجزء الثاني: (04ن)

ركزت الولايات المتحدة بعد تفكك المعسكر الشرقي على توسيع سيطرتها بفرض هيمنتها السياسية والاقتصادية والعسكرية على العالم، وذلك بتوظيف مؤسسات ووسائل مختلفة وفق متطلبات إستراتيجيتها.

المطلوب:

- 1 - انطلاقا من الفقرة وبناء على ما درست، أكتب مقالا تاريخيا تبين فيه:
- ملامح النظام الدولي الجديد.
- 2 - المؤسسات والوسائل التي وظفتها الولايات المتحدة الأمريكية.

الصفحة 3/1

حي قعلول - برج البحري - الجزائر

Web site : www.ets-salim.com /021.87.16.89 : الفاكس : 021.87.10.51 : ☎

"..إن فشل المنظمة العالمية للتجارة في_كانكون جاء من داخل المنظمة، فقد كان واضحا منذ افتتاح هذه الدورة، بأن دول العالم الثالث لن تتراجع عن مطلبها الأساسي...ولعل الشع ار الذي رفعه معارضو العولمة في مظاهراتهم في كانكون يصور تلك الشعوب (إن العالم ليس للبيع)

صحيفة الشرق الأوسط 2003/09/19

المطلوب :

1 - حدّد مفهوم المصطلحات التي تحتها خط

2 - إليك جدول يمثل عدد السكان الذين يعانون سوء التغذية حسب هذه البلدان في سنة 2008 بمليون نسمة.

البلد	الهند	الصين	بنغلداش	الكونغو	باكستان	إثيوبيا	تنزانيا	الفلبين
عدد السكان	209	153	44	39	37.5	32	16.5	14.5

1 - مثل أرقام الجدول بواسطة أعمدة بيانية بمقياس:

1سم يمثل 20 مليون نسمة / 1سم يمثل عمود

ب - علق على الرسم.

3 - على الخريطة المرفقة وقع الدول الإفريقية التي يتضمنها الجدول.

إن الحاجة للبتروول وازدياد الطلب عليه، ليس من أجل توليد الطاقة فحسب ن بل بسبب استخراج مجموعة من المشتقات تقوم عليها آلاف المصانع، ونجد أن القيمة المضافة تبلغ بالمقارنة مع ثمن برميل نفطي بعد تصنيعه أضعافا مضاعفة.

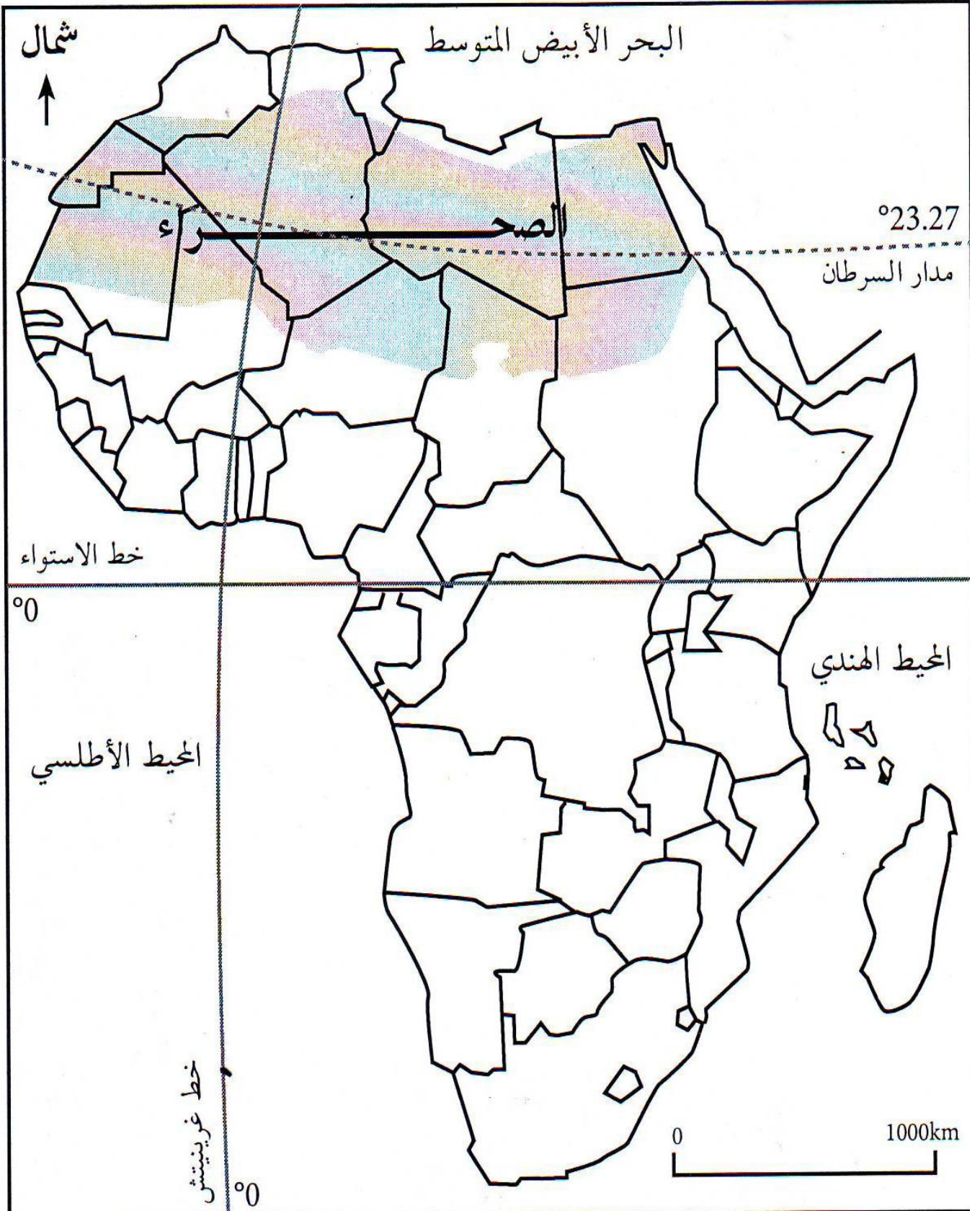
المطلوب :


انطلاقا من الفقرة وبناء على ما درست، أكتب موضوعا جغرافيا تبين فيه:

1 - دور البترول وأهميته في الاقتصاد العالمي.

2- اذكر أهم الدول المصدرة والمستوردة للبتروول.

3 - دور منظمة الأوبك في تجارة البترول .





الجمهورية الجزائرية الديمقراطية الشعبية
وزارة التربية الوطنية

مؤسسة التربية والتعليم الخاصة - سليم -

S . A . L . I . M - ETABLISSEMENT PRIVE D'EDUCATION ET D'ENSEIGNEMENT - SALIM -

إعتماد رقم 67 بتاريخ 06 سبتمبر 2010 تحضيرى - ابتدائي - متوسط - ثانوي رخصة فتح رقم 1088 بتاريخ 30 جانفي 2011

المستوى: الثالث ثانوي (علوم تجريبية، رياضيات) (3ASS.3ASM) ماي 2013

نصيح الاختبار التجريبي في مادتي التاريخ والجغرافيا

الموضوع الثاني

التاريخ:

شرح الكلمات التي تحتها خط:

الثورة: هي عمل تحرري مسلح ضد الاستعمار بهدف طرده وتحقيق الاستقلال.

جبهة التحرير الوطني: هو الحزب السياسي الذي أسسه التيار الثوري غداة انطلاق الثورة المسلحة عام 1954 وحل محل اللجنة الثورية للوحدة والعمل.

المخططات الاستعمارية:

هي السياسة التي تبناها الاستعمار الفرنسي للقضاء على الثورة الجزائرية مثل سياسة القوة والعنف التي استعملها ديغول ثم سياسة الإغراءات والمشاريع الاقتصادية.

الشخصيات:

رابح بيطاط:

ولد بقسنطينة وناضل بصفوف حركة الانتصار للحريات الديمقراطية، ثم عضوا في اللجنة الثورية للوحدة والعمل.

كان عضوا ضمن مجموعة 22، ثم مجموعة الستة وقائدا لمنطقة الجزائر الوسطى. تولى في عهد الاستقلال رئاسة المجلس الشعبي الوطني.

محمد بوضياف:

ولد بالمسيلة وانضم إلى صفوف حزب الشعب ن ثم عضوا في المنظمة الخاصة ثم عضوا فعالا في مجموعة 22 ومجموعة الستة اعتقل في حادث اختطاف الطائرة سنة 1956. نصب رئيسا للمجلس العلى للدولة، واغتيل سنة 1992.

شارل ديغول:

جسد المقاومة ضد الجيش النازي سنة 1940 . ترأس الجمهورية الخامسة بعد انقلاب 13 ماي 1958
عمل كل ما في وسعه للقضاء على الثورة الجزائرية فرضخ للمفاوضات التي انتهت في 19 مارس 1962
بوقف إطلاق النار

23 مارس 1954	19 مارس 1962	04 أبريل 1949
إنشاء اللجنة الثورية للوحدة والعمل	توقيع اتفاقية إيفيان، وقف إطلاق النار	تأسيس الحلف الأطلسي

الجزء الثاني:

المقدمة:

الولايات المتحدة الأمريكية بين تراجع الدور السوفييتي والرغبة في الهيمنة على العالم

العرض:

1 - ملامح النظام الدولي الجديد:

- إنهاء المعسكر الشرقي وتفكك الإتحاد السوفييتي

- زوال القطبية الثنائية وبروز القطبية الأحادية

- هيمنة الولايات المتحدة الأمريكية على المنظمات الدولية والإقليمية

- وصول حركة عدم الانحياز إلى مفترق الطرق

2 - المؤسسات والوسائل التي وظفتها :

- سياسيا هيئة الأمم المتحدة (قرار الفيتو)

- اقتصاديا: المؤسسات المالية والاقتصادية (البنك العالمي وصندوق النقد الدولي والمنظمة العالمية

للتجارة)

ومن المؤسسات الأخرى الوكالة الدولية للطاقة الذرية، والمنظمات غير الحكومية والشركات المتعددة

الجنسيات

عسكريا: الحلف الأطلسي

إعلاميا: التحكم في وسائل الإعلام

تكنولوجيا: التحكم في وسائل الاتصال مثل الأقمار الصناعية والانترنت

الخاتمة: العالم من ثنائية قطبية إلى أحادية قطبية

الجغرافيا :

المصطلحات:

المنظمة العالمية للتجارة:

تأسست على أنقاض الغات في جانفي 1995 بهدف إعطاء حرية أكثر للمبادلا وإلغاء تدريجي للحواجز الجمركية

وبلغ عدد أعضائها 149 دولة عام 2005

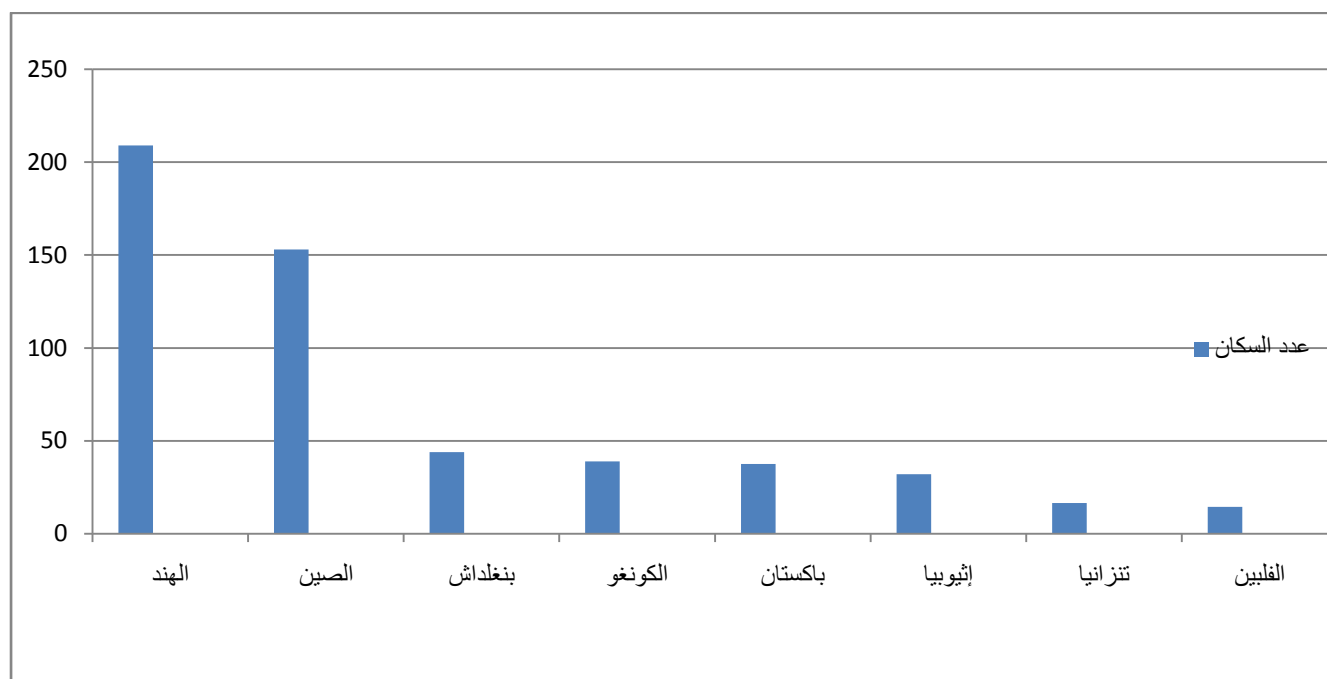
العالم الثالث :

تعريف أطلقه الفريد سوفي ويقصد به الدول المتخلفة اقتصاديا واجتماعيا ولاتنتهي لآلى العالم الرأسمالي ولا إلى العالم الاشتراكي.

العولمة: وتعني الشمولية، ويقصد بها تسارع المبادلات والاتصالات وتنقل الشخصا مما يجعل العالم قرية كونية

وتعمل على تحرير السوق، والترابط المتزايد بين دول المعمورة عن طريق شبكة الاتصالات والقمار الصناعية

التمثيل البياني لعدد السكان الذين يعانون من سوء التغذية :



التعليق:

يبين الرسم أن ستة دول آسيوية تعاني من سوء التغذية يأتي الهند في المقدمة بسبب ضخامة عدد سكانها ، والإختلالات التي يشهدها مجتمعها المعقد والتقلبات الجوية التي تأتي أحيانا على الإنتاج وتعمق الفوارق بين جهات البلاد

حي قعلول - برج البحري- الجزائر

ويأتي الصين في المرتبة الثانية ، حيث يشكل أول قوة سكانية في العالم ولاشك أن لذلك تأثيرا وضغطا على

الاقتصاد، بالإضافة إلى تأثير الأحوال الجوية كذلك، وتعني بانغلداش وباكستان من الفقر بسبب عدم الإستقرار الذي تشهده البلدان. أما الدول الإفريقية فتأتي كل من الكونغو وإثيوبيا وتنزانيا في المقدّمة بسبب الجفاف والحروب الأهلية.

الجزء الثاني:

مقدمة : البترول بين إشكالية العرض والطلب

1 – أهمية البترول في الاقتصاد العالمي

البترول شريان الحياة الاقتصادية: كونه مادة طاقوية أساسية، ولكونه مصدرا لعدد كبير من المشتقات تقوم عليها آلاف المصانع.

- مادة أولية إستراتيجية.

- الأكثر استخداما واستهلاكا في العالم.

- يساهم في تحقيق عائدات مالية ضخمة.

- يساهم في دفع عجلة التنمية الاقتصادية والاجتماعية نحو الأمام .

- يستعمل كسلاح سياسي أثناء الأزمات مثل ما حدث في حرب أكتوبر 1973.

سوق النفط :

أهم الدول المصدرة : المملكة السعودية. روسيا. العراق. إيران

أهم الدول المستوردة:

الولايات المتحدة الأمريكية. الصين الشعبية. اليابان. الإتحاد الأوروبي

دور منظمة الأوبك في تجارة البترول :

تعمل على توحيد السياسات النفطية للدول الأعضاء

حماية الدول المنتجة بضمان دخل ثابت والعمل على استقرار الأسعار

محاربة الاحتكارات (الشركات المتعددة الجنسيات)

دعم التعاون الفني في مجالات التنقيب والاستخراج والتسويق بين الدول الأعضاء

الخاتمة :

البترول ثروة زائلة غير متجددة يجب تميمها والمحافظة عليها بترشيد كميات الإنتاج