

العلامة		عناصر الإجابة
كاملة	مجزأة	
06		الموضوع الأول
		التاريخ: الجزء الأول
		1 - تحديد مفهوم المصطلحات التي تحتها خط في النص:
	0.5	الحرب الباردة : صراع إيديولوجي و مذهبي بين المعسكرين الشرقي الشيوعي بزعامة الإتحاد السوفياتي و الغربي الرأسمالي بقيادة و. م . أ استخدمت فيه مختلف الوسائل ماعدا السلاح بين العملاقين .
	0.5	سياسة الاحتواء: سياسة أمريكية تقوم على إنشاء سلسلة من الأحلاف والقواعد العسكرية بهدف تطويق الإتحاد السوفياتي ومنع انتشار نفوذه وإيديولوجيته إلى الدول المجاورة و سائر مناطق العالم.
	0.5	الإستقطاب: سياسة تجاذب استعملها المعسكران المتصارعان لكسب مناطق النفوذ أثناء الحرب الباردة .
	0.5	حركة عدم الانحياز : تنظيم سياسي أسسته الدول المستقلة حديثا سنة 1961 يهدف إلى عدم الميل إلى أي معسكر من المعسكرين المتصارعين في إطار الحرب الباردة.
		2 - التعريف بالشخصيات :
	0.5	جون كينيدي : رئيس و. م. أ بين 1961 و 1963 عرفت فترة حكمه إحدى أخطر أزمات الحرب الباردة (أزمة كوبا) اغتيل سنة 1963.
	0.5	زيغود يوسف: أحد زعماء الثورة الجزائرية، قاد الولاية الثانية، خطط لهجوم الشمال القسنطيني شارك في مؤتمر الصومام استشهد في 23/09/1956.
	0.5	بكيثا خروتشوف : زعيم سوفياتي أحد أعضاء القيادة الجماعية التي خلفت ستالين عرف بمبادرة التعايش السلمي .
	0.5	فرحات عباس : سياسي جزائري زعيم الاتجاه الإدماجي، مؤسس الإتحاد الديمقراطي للبيان الجزائري سنة 1946 و أول رئيس للحكومة المؤقتة للجمهورية الجزائرية سنة 1958.
		3 - إتمام الجدول :
	0.25	تأسيس منظمة الكوميكون : 25 جانفي 1949
×	تحطيم جدار برلين : 09 نوفمبر 1989	
4	اللجنة الثورية للوحدة والعمل : 23 مارس 1954	
	تأميم قناة السويس : 26 جويلية 1956	
	4 - التوقيع على خريطة العالم الدول التي تقع فيها مقرات المنظمات و الأحلاف:	
0.75	- الإنجاز :	
0.25	- العنوان :	
	الجزء الثاني:	

	0.5	<p>المقدمة : فرنسا بين سياسة القوة والتهدة . أو مقدمة وظيفية أخرى تخدم الموضوع</p> <p>العرض :</p> <p>1 . ظروف صدور القانون الخاص (دستور الجزائر 1947) :</p> <p>. انعكاسات حوادث 8 ماي 1945 .</p> <p>. محاولة فرنسا التهدة و امتصاص غضب الجزائريين .</p> <p>. محاولة جر الأحزاب الجزائرية إلى الصراعات الهامشية (التنافس على المقاعد داخل المجلس الجزائري)</p> <p>. تلميع الصورة الخارجية لفرنسا بعد مجازر 8 ماي 1945 .</p> <p>2 . أهم ما تضمنه هذا القانون :</p> <p>. الجزائر أرض فرنسية ، يتساوى سكانها في الحقوق و الواجبات .</p> <p>. تشكيل مجلس جزائري منتخب من 120 عضو (60 من الجزائريين 60 من الفرنسيين)</p>
	0.25 × 4	<p>. فتح الوظائف العسكرية و المدنية أمام الجزائريين .</p> <p>. اللغة العربية لغة رسمية ثانية مع فصل الدين الإسلامي عن الدولة .</p> <p>. إنشاء مجلس حكومة من 6 أعضاء يساعد الحاكم العام (3 أعضاء جزائريين)</p> <p>. إلغاء النظام العسكري في الجنوب و نظام البلديات المختلطة .</p> <p>3 . موقف الجزائريين منه :</p> <p>رفضه الجزائريون لأنه مشروع استعماري (ربط الجزائر بفرنسا) منافي لمبادئ الديمقراطية (يساوي الأقلية بالأغلبية) لم يأخذ بعين الاعتبار مطلب الجزائريين في الاستقلال .</p>
04	0.25 × 6	<p>الخاتمة : دستور الجزائر الذي طرحته فرنسا سنة 1947 لم يكن إلا مناورة فرنسية بعد الغضب الشعبي الجزائري الذي ازداد بعد مجازر 08 ماي 1945 و بذلك إيجاد مخرج لسياستها الاستعمارية المتعثرة .</p>
	0.5	<p>ملاحظة: تقبل الإجابات الصحيحة الأخرى.</p>
		<p>الجغرافيا :</p>

الجزء الأول:

1. شرح المصطلحات التي تحتها خط :

0.5 العولمة : الانتشار العالمي لنفس النموذج و إزالة الحواجز أمام الانتقال الحر للسلع و الخدمات و رؤوس الأموال و المعلومات بين دول العالم .

0.5 الناتج الوطني الإجمالي: مجموع الثروة المنتجة داخل و خارج البلد خلال سنة معينة.

0.5 البنك العالمي : مؤسسة مالية عالمية أنشئت بمقتضى معاهدة برتون وودز بهدف تقديم مساعدات التقنية و القروض للدول ، خاصة الدول النامية قصد تمويل المشاريع التنموية .

0.5 التنمية البشرية : مجموع الإجراءات التي تهدف إلى دعم قدرات الفرد و تحسين أوضاعه الاجتماعية و الاقتصادية .

أ/2 . التمثيل البياني :

06

01

0.25 الإنجاز

0.25 المقياس

العنوان

0.25 ب . التعليق على الرسم البياني :

x
3
ارتفاع حجم الناتج الداخلي الخام في الدول المذكورة .
تصدر و م . أ للدول الواردة في الجدول مما يفسر قوة الاقتصاد الأمريكي.
الجدول يعكس مدى تقدم اقتصاديات هذه الدول .

1.25 3 . التوقيع على خريطة العالم الدول الواردة في الجدول :

0.25 الإنجاز

0.25 العنوان

المفتاح

الجزء الثاني:

0.5 المقدمة : الأقطاب الاقتصادية لمنطقة شرق و جنوب شرق آسيا استطاعت التحول إلى قوى اقتصادية عالمية بفضل حسن استغلال مواردها الطبيعية و البشرية .
العرض :

1 - عوامل تحوّل منطقة شرق و جنوب شرق آسيا إلى فضاء اقتصادي عالمي :

0.5 - بشريا : وفرة الموارد البشرية المؤهلة+ الاستثمار الجيد للعنصر البشري + روح التحدي للسكان و اتساع السوق الاستهلاكية .
x
3 اقتصاديا : ضخامة رؤوس الأموال و قوة الاستثمار + التطور التكنولوجي + التكتل و التعاون الإقليمي (الآسيان) مع تقليد النموذج الياباني + توفر البنية التحتية سياسيا : الاستقرار السياسي ...

04

2. المشاكل التي تعترض التنمية في المنطقة:

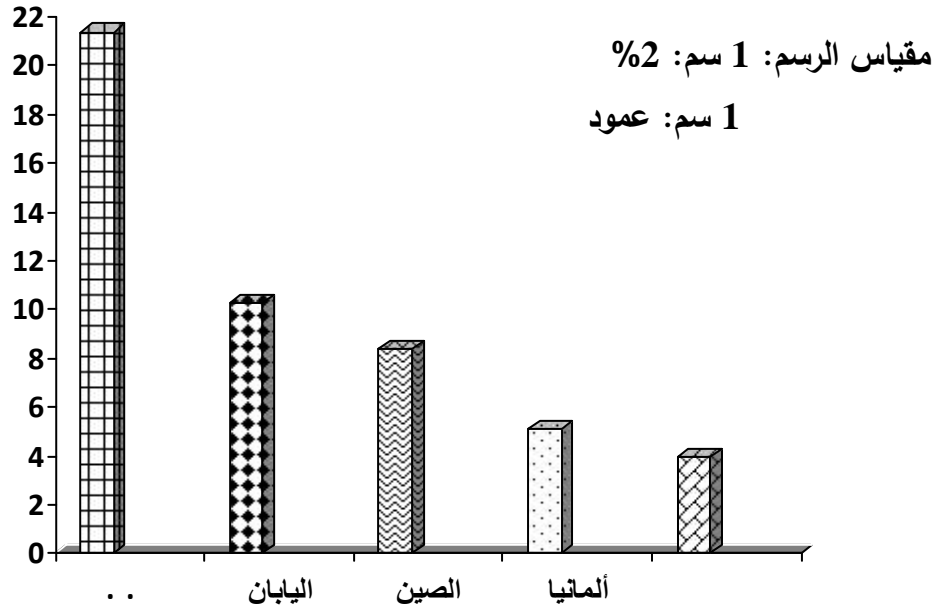
0.25 × 6	<p>- المنافسة الخارجية خاصة من طرف و . م . أ و الإتحاد الأوروبي . - التبعية للخارج في مجال المواد الأولية خاصة اليابان. - التفاوت في درجة التطور بين الأقاليم خاصة بالصين . - الاختلال في توزيع السكان بين جهة و أخرى . - الكوارث الطبيعية مثل الفيضانات ، الأعاصير... - التلوث البيئي .</p>
0.5	<p>الخاتمة : التطور الاقتصادي لأقطاب منطقة شرق و جنوب شرق آسيا ظاهرة تؤكد نجاح النهج والسياسات الاقتصادية لهذه الدول . ملاحظة: تقبل الإجابات الصحيحة الأخرى.</p>
	<p>الموضوع الثاني: التاريخ: الجزء الأول</p>
0.5	<p>1 - تعريف المصطلحات التي تحتها خط : جبهة التحرير الوطني : تنظيم سياسي ثوري جزائري ظهر سنة 1954، الممثل الوحيد للشعب الجزائري، قاد الثورة التحريرية إلى غاية الاستقلال.</p>
0.5	<p>الحكومة المؤقتة للجمهورية الجزائرية : أسست بالقاهرة في 19 سبتمبر 1958 برئاسة فرحات عباس كـمـمـثـل للشعب الجزائري و ثورته بالمشاركة في المؤتمرات و المحافل الدولية ثم عملية المفاوضات مع فرنسا .</p>
0.5	<p>تقرير المصير : أحد مبادئ هيئة الأمم المتحدة يدعو إلى حق الشعوب في اختيار مصيرها و تسيير شؤونها بنفسها.</p>
0.5	<p>وقف اطلاق النار: هو توقيف كل العمليات الحربية ونهاية المواجهة العسكرية بين الجزائر وفرنسا بموجب اتفاقيات إيفيان، شرع في تطبيقه في 19 مارس 1962.</p>
0.5	<p>2. التعريف بالشخصيات : - بن يوسف بن خدة : عضو قيادي في حركة انتصار الحريات الديمقراطية ، أمين عام اللجنة المركزية لجبهة التحرير الوطني ثم رئيس الحكومة المؤقتة للجمهورية الجزائرية بين 1960 و 1962 .</p>
0.5	<p>- مصطفى بن بولعيد: مناضل في حركة الإنتصار الحريات الديمقراطية ، من مفجري الثورة التحريرية و أحد قادتها بمنطقة الأوراس، ألقى عليه القبض و استشهد سنة 1956 .</p>
0.5	<p>- مانديس فرانس سياسي فرنسي تولى رئاسة حكومة بلاده سنة 1954 فشل في مواجهة الثورة التحريرية الجزائرية لذلك سقطت حكومته سنة 1955</p>
0.5	<p>- جمال عبد الناصر: أحد أعضاء حركة الضباط الأحرار في مصر التي قادت الثورة المصرية في 23 جويلية 1952، رئيس جمهورية مصر العربية من 1954 إلى 1970 ، مؤمم قناة السويس و أحد أقطاب حركة عدم الإنحياز .</p>

		3 - إتمام الجدول :
0.25	×	- تأسيس منظمة الأمم المتحدة : 24 أكتوبر 1945
		- تأسيس حلف الشمال الأطلسي: 04 أبريل 1949
4		- مظاهرات المهاجرين الجزائريين بباريس دعماً للثورة : 17 أكتوبر 1961
		- انعقاد مؤتمر الصومام: 20 أوت 1956
		4 - التوقيع على خريطة الجزائر ثلاثة مناطق عسكرية من اختيارك حددتها الثورة الجزائرية سنة 1954 .
0.75		الإنجاز
0.25		العنوان
		الجزء الثاني
		المقدمة : كشف مشروع مارشال الأمريكي سنة 1947 عن درجة التوتر الكبيرة
0.5		للعلاقات بين المعسكرين الشرقي الشيوعي و الغربي الرأسمالي . أو مقدمة وظيفية
		أخرى تخدم الموضوع .
		العرض :
		1 - أسباب توتر العلاقات بين المعسكرين الشرقي و الغربي:
		- الخلاف و التنافر الإيديولوجي بين المعسكرين.
		- تراجع مكانة أوروبا و انتقال الزعامة الدولية إلى الإتحاد السوفياتي و و.م.أ .
0.25		- خروج و.م.أ من عزلتها و تصميمها على تطويق الشيوعية .
×		- رغبة الإتحاد السوفياتي في نشر الشيوعية و توسيع مجال نفوذه .
6		- تأسيس الأحلاف العسكرية و المشاريع الاقتصادية .
		- تصادم مصالح المعسكرين.
		2 - أهداف مشروع مارشال :
		أ - المعلنة :
		- إعادة بناء أوروبا بعد الدمار الذي أصابها أثناء الحرب العالمية الثانية .
		- إقرار التعاون مع الدول المشتركة في المشروع .
0.25		- النهوض بالاقتصاد الأوربي
×		ب - الخفية :
6		- مواجهة المد الشيوعي بأوروبا و حماية النظام الرأسمالي .
		- فرض الهيمنة و الوصاية الأمريكية على أوروبا .
		- ربط عجلة الاقتصاد الأوربي بالأمريكي .
		الخاتمة : الإعلان عن مشروع مارشال الأمريكي سنة 1947 من أهم العوامل التي
		ساهمت في توتر العلاقات بين الشرق و الغرب.
0.5		ملاحظة: تقبل الإجابات الصحيحة الأخرى.
		الجغرافيا:
		الجزء الأول:

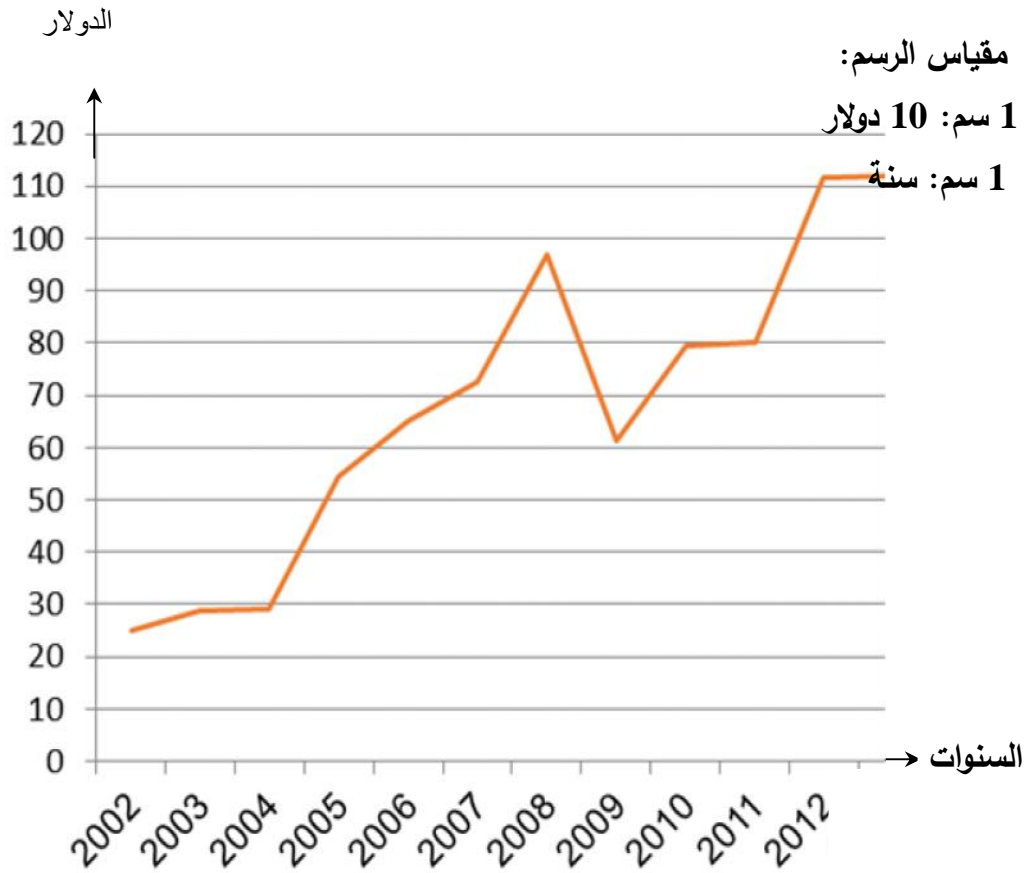
		1 . شرح المصطلحات التي تحتها خط :
	0.5	أموال غير المشروعة : هي أموال مكتسبة بطرق غير شرعية مثل تجارة المخدرات و الأسلحة يقوم أصحابها بتبييضها عبر عمليات بنكية و تجارية.
	0.5	التكنولوجيا : علم التقنيات المطبقة في مختلف المجالات و هي معيار أساسي لقياس درجة التطور .
	0.5	الاستثمارات : توظيف الأموال في مشاريع معينة بهدف تحقيق منفعة مادية .
	0.5	البورصات : سوق للتعامل مع الأوراق المالية عن طريق الاكتتاب و إصدار الأسهم و السندات .
	0.5	
		2 . التمثيل البياني :
		الإنجاز
	01	المقياس
	0.25	العنوان
		3 . التعليق على الرسم البياني :
	0.25	. عدم استقرار أسعار البترول في الأسواق الدولية .
	0.25	. انخفاض الأسعار سنة 2009 ثم ارتفاعها بشكل محسوس سنة 2012 .
	0.5	- تضاعف الأسعار بخمس مرات بين 2002 و 2012 لزيادة الطلب و الاستهلاك العالمي .
	0.25	
		4 . التوقيع على خريطة أوروبا الدول الأوربية العضوة في مجموعة الثمانية .
		الإنجاز
		العنوان
06	1	المفتاح
	0.25	
	0.25	

		<p>الجزء الثاني:</p> <p>المقدمة : الدول النامية بين وفرة إمكانياتها و مواردها و تنوع مشاكلها و أزماتها أو (مقدمة وظيفية أخرى تخدم الموضوع) العرض :</p> <p>1 . إمكانات التنمية في دول الجنوب :</p> <p>أ . الطبيعية : الموقع الإستراتيجي + وفرة الموارد الطبيعية + وفرة الأراضي الزراعية و خصوبتها + تنوع المناخ ومظاهر السطح ...</p> <p>ب . الاقتصادية : وفرة المواد الأولية + رؤوس الأموال و المدخرات المالية لعدد من الدول + اتساع السوق الاستهلاكية ..</p> <p>ج . البشرية : اليد العاملة + الكفاءات العلمية ...</p> <p>2 . المشاكل التي تواجه التنمية في الدول النامية :</p> <p>. التبعية الاقتصادية و المالية لدول الشمال المتقدم .</p> <p>. سوء استغلال الموارد الطبيعية و البشرية .</p> <p>. عدم التحكم في التكنولوجيا .</p> <p>. النمو الديموغرافي السريع و انعكاساته السلبية .</p> <p>. قلة إلى انعدام الاستقرار السياسي و الأمني .</p> <p>. الكوارث الطبيعية كالجفاف ، الفيضانات ، الأعاصير ..</p> <p>الخاتمة : بالنظر إلى الإمكانيات الكبيرة التي تمتلكها الدول النامية فإنها قادرة على معالجة و تجاوز مشاكلها .</p> <p>ملاحظة: تقبل الإجابات الصحيحة الأخرى.</p>
0.5		
0.5	×	
	3	
0.25	×	
	6	
0.5		
04		

النسب المئوية

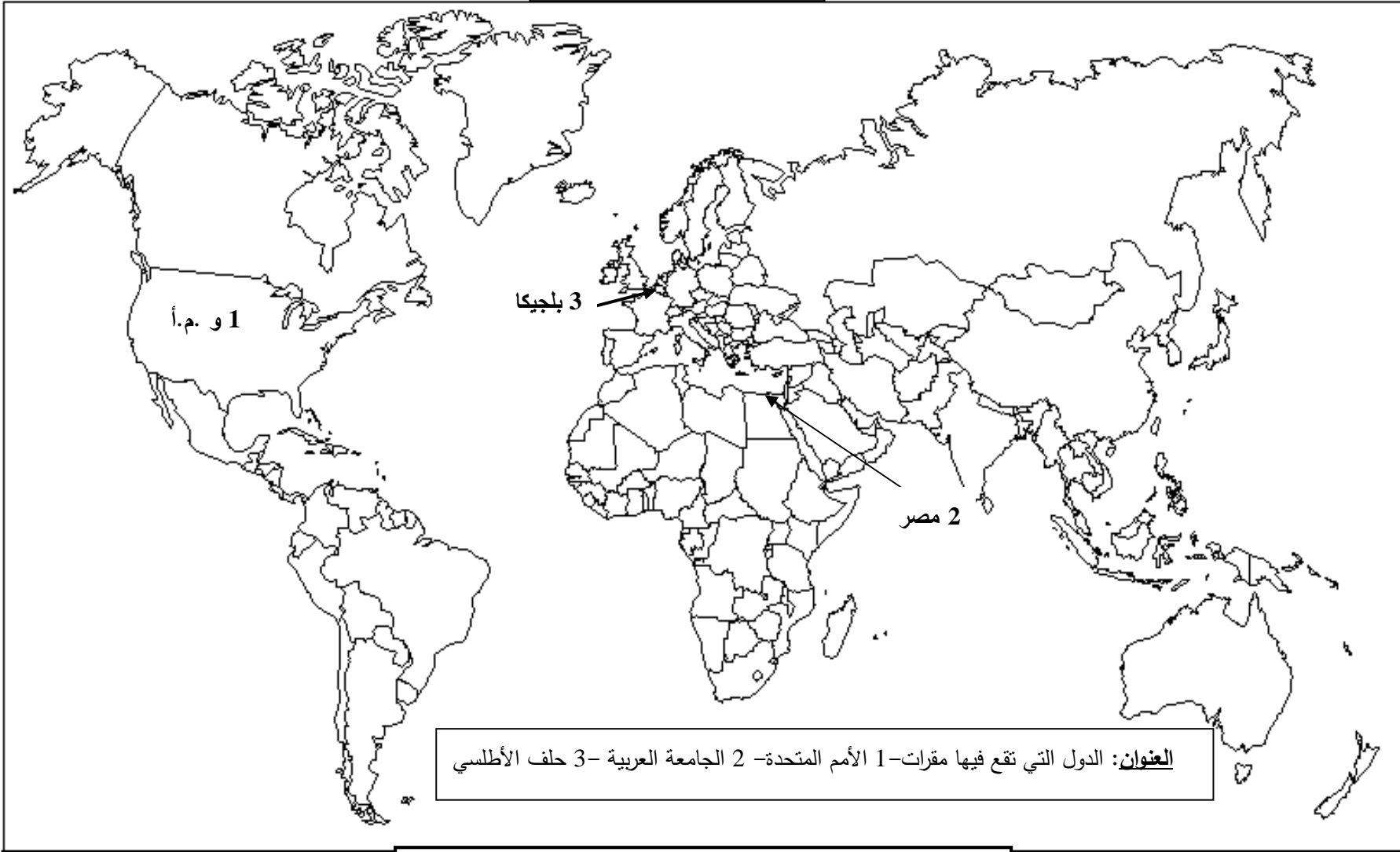


أعمدة بيانية تمثل الناتج الوطني الخام لبعض الدول



منحنى بياني يمثل تطور أسعار البترول من 2002 إلى 2012

خريطة العالم



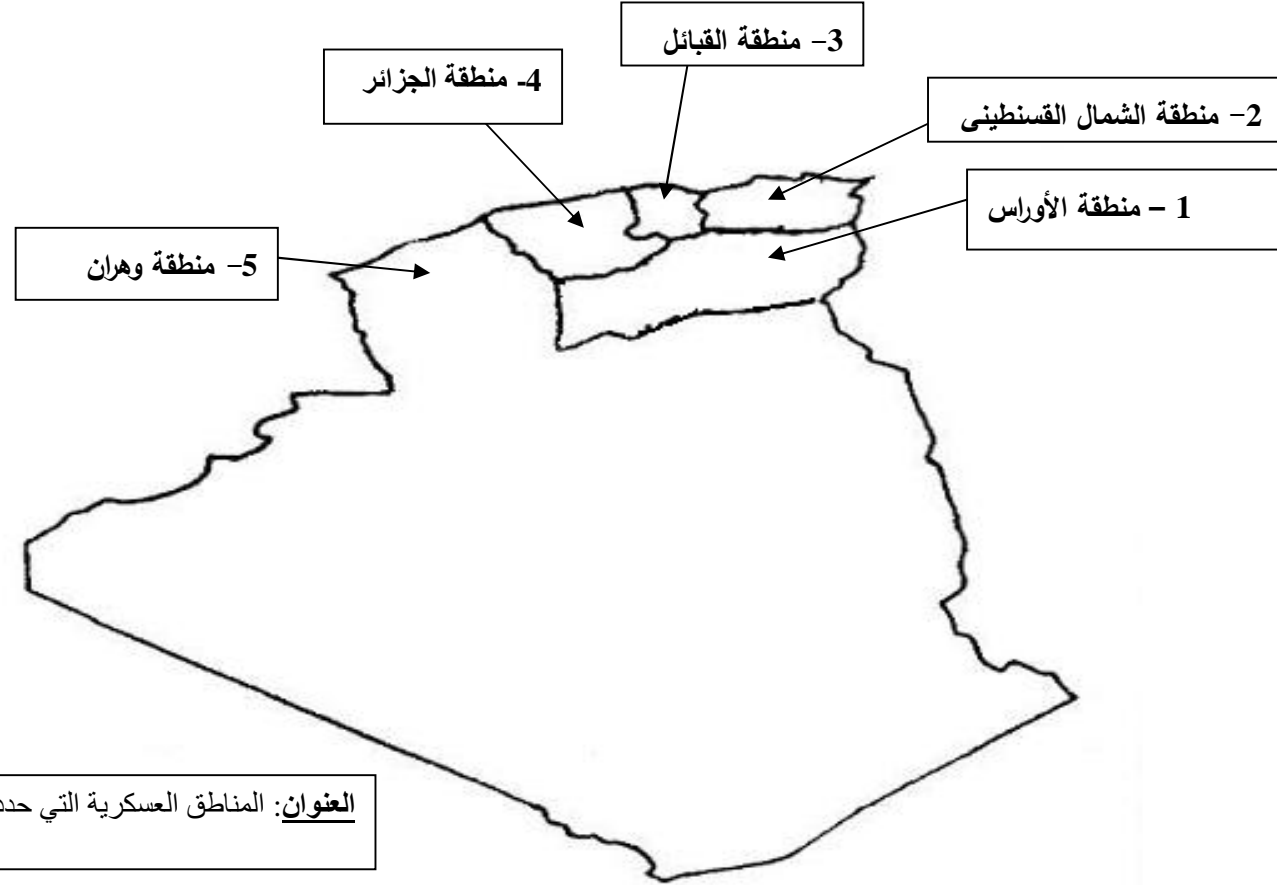
ينجز العمل على الخريطة وتعاد مع أوراق الإجابة

خريطة العالم



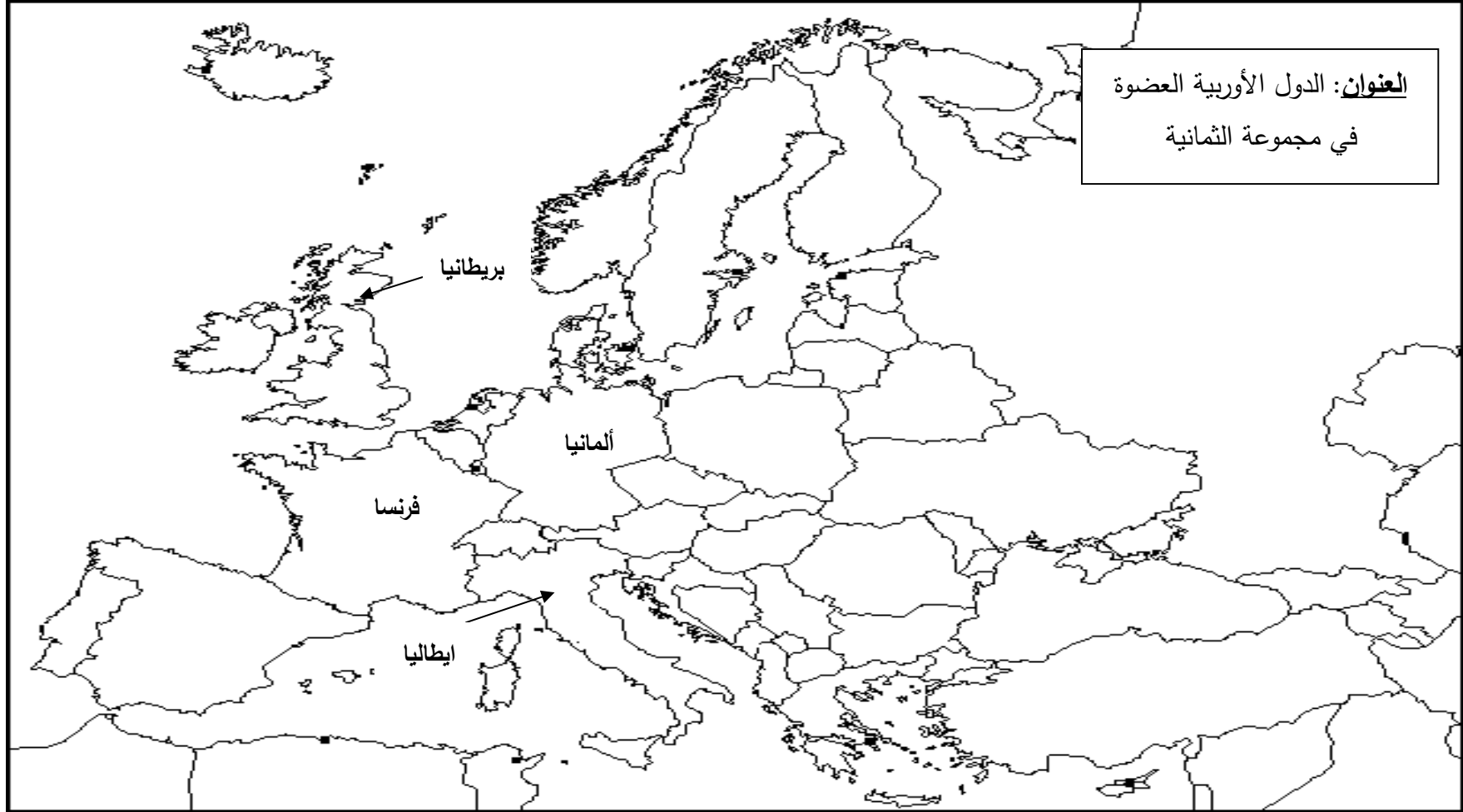
ينجز العمل على الخريطة وتعاد مع أوراق الإجابة

خريطة الجزائر



ينجز العمل على الخريطة وتعاد مع أوراق الإجابة

خريطة أوروبا



ينجز العمل على الخريطة وتعاد مع أوراق الإجابة