

أفريل 2011

المستوى: الثالث ثانوي في تسيير واقتصاد 3ASGE

المدة: 30 دقائق

الإختبار التجريبي للفصل الثالث في مادة التاريخ والجغرافيا



الجزء الأول: (6 نقاط)

« كان للصراع الإيديولوجي العديد من المظاهر تمثلت في الأزمات السياسية والتي تحولت في الكثير منها إلى صراعات عسكرية».

المطلوب:

1 اشرح ما تحته سطر.

2 عرف الشخصيات الآتية: فيدال كاسترو - ماوتسي تونغ.

3 إليك خريطة العالم بين عليها الأزمات الآتية.

➡ أزمة قناة السويس - أزمة ألمانيا - أزمة كوبا - أزمة كوريا.

➡ أكمل الجدول الآتي:

السنة	الحدث
1956/10/29	
	تأسيس حلف وارسو
1961/08/13	

الجزء الثاني: 4 نقاط.

« مثلت هجومات الشمال القسنطيني القطيعة النهائية بين الشعب الجزائري وفرنسا. كما أدخلت هذه الهجومات الشعب وبصورة نهائية في الثورة».

المطلوب: انطلاقا من هذه الفقرة واعتمادا على دراستك، أكتب مقالا تاريخيا توضح فيه :

1 أسباب هجومات الشمال القسنطيني.

2 نتائج هذا الهجومات.

اقلب الصفحة

الصفحة 3/1

حي قعلول - برج البحري - الجزائر

Web site : www.ets-salim.com /021.87.16.89 :الفاكس : Tel-Fax : 021.87.10.51

الجزء الأول: 6 نقاط.

1 اشرح المصطلحات الآتية:

العولمة - السندات - الأوبك.

2 حول معطيات الجدول التالي إلى أعمدة بيانية 1 سم ← 10 طن ، 1 سم ← عمود

الدول	إنتاج القمح
الصين	115
الهند	67
الولايات المتحدة	56
روسيا	47
فرنسا	38
كندا	28

الوحدة: مليون طن إحصائيات 2006.

3 إليك خريطة العالم وقع عليها ثلاثة دول مصدرة للبتروول وثلاثة أخرى مستوردة له.

الجزء الثاني: 4 نقاط

"يعيش العالم تذبذباً في أسعار المواد الأولية خاصة البتروول والغاز".

المطلوب:

انطلاقاً من هذه الفقرة ومما درست أكتب مقالا جغرافيا توضح فيه:

1 أسباب تذبذب أسعار البتروول.

2 أهم مناطق احتياط البتروول.

اقلب الصفحة

الصفحة 3/2

حي قعلول - برج البحري - الجزائر



بالتوفيق

الصفحة 3/3

حي قعلول - برج البحري - الجزائر

Web site : www.ets-salim.com /021.87.16.89 : الفاكس : Tel-Fax : 021.87.10.51 ☎

المستوى: الثالث ثانوي 3ASGE

الموضوع: 01

الإجابة النموذجية للاختبار البكالوريا التجريبي في ماوتي التاريخ والجغرافيا

① شرح المصطلحات:

☞ الصراع الإيديولوجي: هو التنافس الفكري أو الحرب الباردة بين المعسكر الشرقي بقيادة الاتحاد السوفياتي والمعسكر الغربي بقيادة الولايات المتحدة هذا الصراع استعملت فيه جميع الوسائل (السياسية- الاقتصادية- العسكرية) ما عدا المواجهة المباشرة بين العملاقين.

☞ الأزمات السياسية: هي مظهر من مظاهر الحرب الباردة كادت أن تؤدي بالعالم إلى حرب عالمية ثالثة ومن أهم الأزمات نجد: أزمة الهند الصينية. وأزمة كوبا...

② تعريف الشخصيات:

فيدال كاسترو: أشهر شخصية سياسية في كوبا قائد الثورة الكوبية الشيوعية التي أطاحت بنظام باتيستا سنة 1959 وفي نفس السنة ترأس كوبا، قام بنشر الصواريخ النووية السوفياتية على بلاده مهددا الولايات المتحدة.

☞ ماوتسي تونغ: زعيم الشيوعية في الصين بدون منازع حيث قاد الثورة الصينية وكان رئيسا للصين الشعبية ما بين (1954-1959).

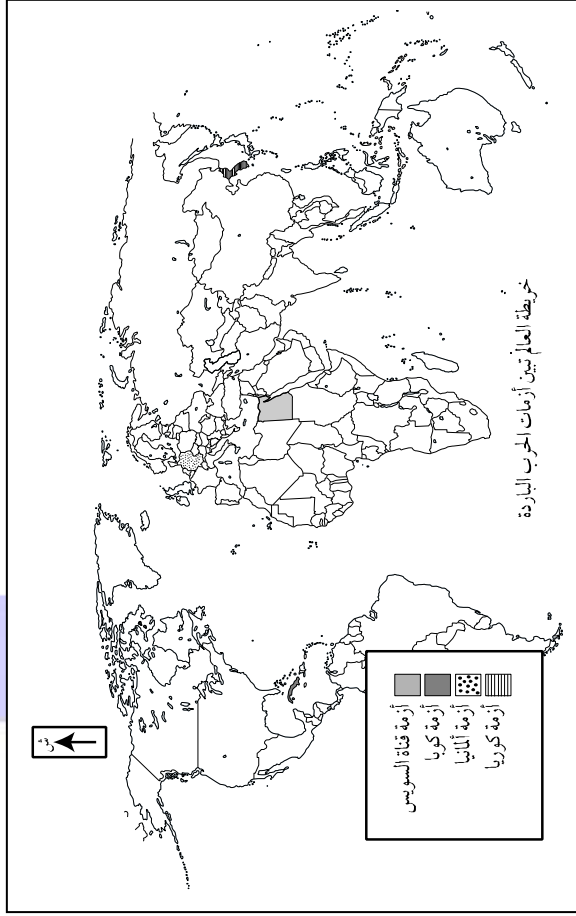
☞ ايزنهاور: رئيس الولايات المتحدة الأمريكية فاز بالانتخابات ضد الترومان بمجيئه تناقصت شدة الحرب الباردة، جاء بمشروع سنة 1957 هو عبارة عن مساعدات مالية للشرق الأوسط قدرها 200 مليون دولار.

☞ خروتشوف: ترأس الإتحاد السوفياتي بعد وفاة ستالين صاحب سياسة التعايش السلمي.

حي قعلول - برج البحري - الجزائر

Web site : www.ets-salim.com /021.87.16.89 - الفاكس : 021.87.10.51 - Tel-Fax :

③ خريطة العالم.



④ إكمال الجدول:

الحدث	السنة
الهجوم الثلاثي على	1956 / 10 / 29
تأسيس حلف وارسو	1955 / 05 / 14
بناء جدار برلين	1961 / 08 / 13

الجزء الثاني:

المقال:

* مقدمة: تعتبر هجمات الشمال القسنطيني صورة من صور التحدي التي قادها زيغود يوسف، فما هي أسباب هذه الهجمات.

حي قعلول - برج البحري - الجزائر

Web site : www.ets-salim.com / 021.87.16.89 : الفاكس - Tel-Fax : 021.87.10.51

* العرض:

① أسباب الهجومات: تعددت أسباب هذه الهجومات ونجمتها في محاولة زيغود يوسف من خلال هذا الهجوم فك الحصار المضروب على المنطقة الأولى والثالثة ومن الأسباب كذلك القضاء على التردد الشعبي الذي لازم بعض فئات الشعب. كما يعبر هذا الهجوم عن التلاحم المغاربي فالتاريخ 20 أوت يعتبر الذكرى الثانية لنفي ملك المغرب محمد الخامس.

② كيف أثر مؤتمر الصومام على الثورة: وهذا بتأسيس مجموعة من المؤسسات التي نظمت الثورة مثال على ذلك لجنة التنسيق والتنفيذ والمجلس الوطني للثورة الجزائرية، كما قسمت الجزائر إلى 6 ولايات ونظم الجيش على جميع المستويات... الخ.

الخاتمة: ومن هذا المقال نستخلص أن هجمات الشمال القسنطيني أعطت دفعا قويا للثورة الجزائرية والتي كللت بالنجاح والاستقلال .



الجغرافيا

الجزء الأول:

① شرح المصطلحات:

☞ السوق المشتركة: هو فتح الباب لمجموعة من الدول الأوروبية للتبادل السلع فيما بينها وهذا بإلغاء الرسوم الجمركية.

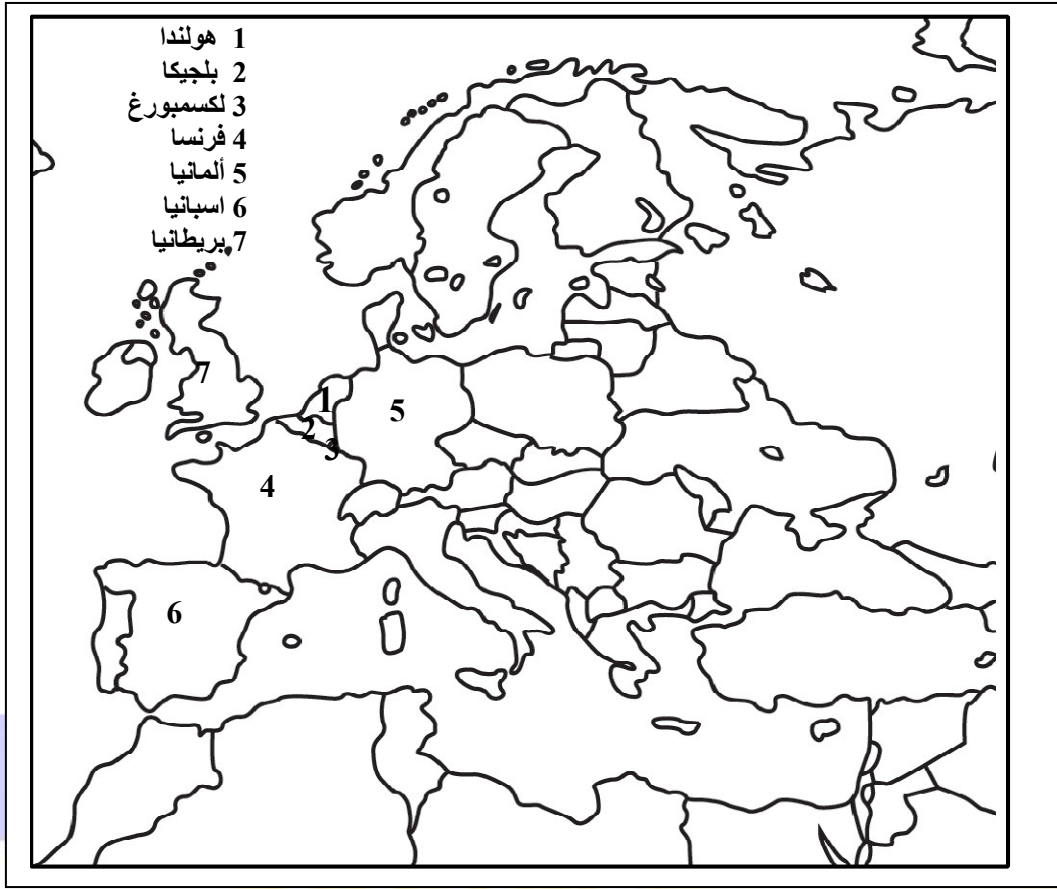
☞ الإتحاد الأوروبي: كان يعرف بالمجموعة الأوروبية منذ تأسيسه 1957 وبلغ عدد دوله سنة 2007 27 دولة، والهدف من هذا الاتحاد هو الرد على المنافسة الخارجية خاصة من الو م أ. و اليابان.

☞ النمو الاقتصادي: مصطلح يعني التطور في مختلف المجالات الاقتصادية مما ينتج عنه فائض في الميزان التجاري وينعكس هذا بالإيجاب على الوضع المعيشي للسكان.

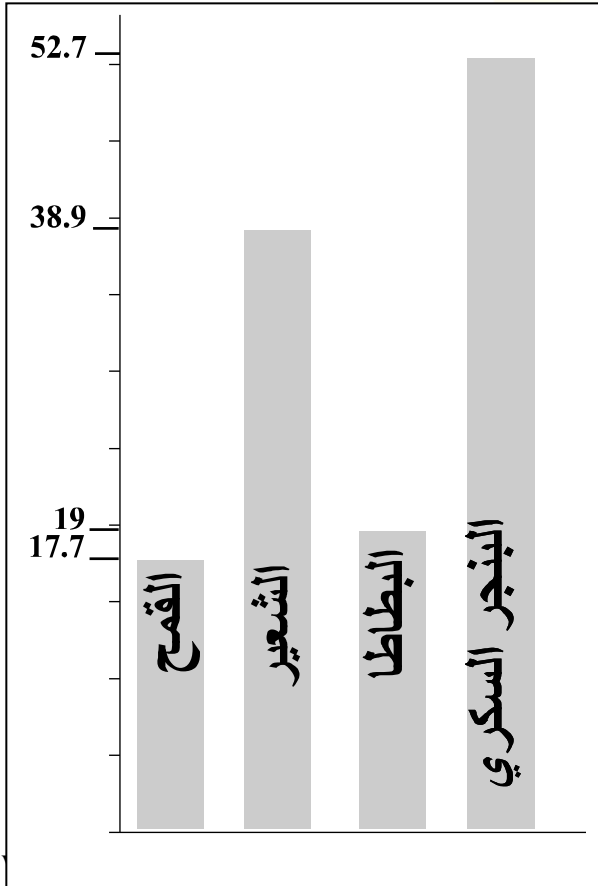
حي قعلول - برج البحري - الجزائر

Web site : www.ets-salim.com /021.87.16.89 -الفاكس : Tel-Fax : 021.87.10.51

② الخريطة: خريطة أوروبا تبيين بعض الدول



③ الأعمدة البيانية:



حي قعلول

Tel-Fax : 021.87.10.51 - الفاكس :

الجزء الثاني:

المقال:

مقدمة: يشكل النصف الجنوبي للكرة الأرضية مجموعة من الدول المتخلفة في جميع الميادين الاقتصادية، فما هي مظاهر هذا التخلف.

العرض: ① مظاهر التخلف: نستطيع أن نجمل العديد من مظاهر التخلف وهذا بالاعتماد على المؤشرات الاقتصادية. فنجد مثلا أن الدخل الوطني الخام لدول إفريقيا مجتمعة ليتعدى دخل الو م أ كما أن مساهمة الدول المتخلفة في حجم المبادلات التجارية ضعيف جدا...

② ما هي الحلول للخروج من دائرة التخلف: من أهم الحلول التي يمكن بها الخروج من هذه ظاهرة:

يكون هذا بلاهتمام بالفرد بتعليمه الجيد وتوفير له المأكل والمشرب المناسب وفتح مناصب الشغل له، حيث أن الفرد هو أساس عملية التنمية، ثم محاربة المشاكل البيروقراطية والقضاء على المحسوبية والرشوة التي هي سبب مباشر في تخلفنا ثم الاهتمام بنقل التكنولوجيا وإنشاء قاعدة صناعية محلية والاهتمام بالزراعة ومحاولة تحقيق الاكتفاء الذاتي. حيث أن الشعوب التي ليس لها اكتفاء ذاتي غذائي فهي ترهن مستقبلها.

وعلى الصعيد الخارجي يجب التعاون جنوب جنوب وهذا للقضاء على الاحتكار الذي تمارسه الدول المتقدمة على المتخلفة.

خاتمة: في نهاية هذا المقال نستنتج أن التخلف ظاهرة اقتصادية تعاني منها العديد من الدول. لكن في المقابل توجد حلولاً للخروج من هذه الظاهرة ولعل أهمها الاهتمام وجعل الفرد أساس التنمية والنهوض.