

تكتب الإجابة النموذجية على هذه الورقة ولا تقل سواها

الإجابة النموذجية لموضوع مقترح لكالوريا دورة : 1999

اختيار مادة : التاريخ
الشعبة : الآداب والعلوم الإنسانية
المدة : 2 ساعة

العلامة		عناصر الإجابة	معايير الموضوع
المجموع	مجزأة		
108			
02	09	مؤتمر الصومام رقيهم مستشرق من العمل الثوري ويرسي تواجد تنظيمه لقيادة الثورة نحو الانتصار المحقق.	الترجمة
		الانتصارات السياسية والعسكرية للثورة قبل مؤتمر الصومام :	
	01	P - الانتصارات السياسية : * تنفيذ كذبة أن ما يحدث بالجزائر هو أعمال	
	01	مجردة لقطاع الشرق * نقل القضية الجزائرية للمحافل الدولية	
	0.75	(انطلاقة من بلد دمج إلى الأمم المتحدة) * ارتفاع أبرز الشخصيات السياسية إلى الثورة	
07	03	* تبين الجامعة العربية للقضية الجزائرية	3
	0.75	B - الانتصارات العسكرية : * نجاح مجموعات ليلية نوفمبر عبر الوطن	
	0.75	* صعود المنظمة العسكرية الأولى رغم الحصار المفروض عليها.	
	0.5	* فشل مستر روج جاله سوسيتل	
	0.4	* النجاحات التي حققتها المنطقة الثانية بمجموعات الشمال القسنطيني من أوت 1955 وما ترتب عنها من نتائج.	
	1	الأبعاد السياسية والعسكرية لانعقاد المؤتمر داخل الوطن	05
	1	P - الأبعاد السياسية : * تأكيد هزيمة الثورة	
	1	* تصدى السلطات الفرنسية التي تدعي بأنظمة مستحكمة في الأوساط	
	1	* تأكيد تمولية الثورة وتنظيمها ووحدة قيادتها رغم لامر تفرقة الأعمال.	
	1	B - الأبعاد العسكرية : * تنفيذ الادعاءات القاضية بأن ضاهاه نتائج لا سلبية للثورة عليها. * تأكيد ضرورة الاستراتيجية العسكرية القومية وقوة إستراتيجية الثورة.	
04	01 6x0.5	التوقيع على الهدنة : - مكان انعقاد المؤتمر - أرقام واسماء الولايات العسكرية	
02	02	نجاح مؤتمر الصومام أنتصارات طيم للثورة وبرايتة الأضواء للسياسة الفرنسية في مواجهة الثورة	الخاتمة

الولايات العسكرية للتورة لغيرية

بعد مؤقرا الصومام

109



● مكان العقاد مؤقرا الصومام

- 01 - أوراس النامشة
- 02 - الشماك القسنديني
- 03 - العباين الليرة
- 04 - الحيزائل
- 05 - وهيران
- 06 - الهجراد

تكتب الإجابة النموذجية على هذه الورقة ولا تقبل سواها

الإجابة النموذجية لموضوع مقترح ليكالوريا دورة :

اختار مادة : التاريخ : الشعبة : (الآداب) ، والمخاطب : الأضمة ، وتصيرون :
 العنصر الإجابة : 110

العلامة		عناصر الإجابة	مؤر لوضوع
المجموع	مجزأة		
04	01 01 01 01	<ul style="list-style-type: none"> - كايضا حرد تشوفت ، سياسي سوفياتي ، رجل دولة ، اسيدي عام الجزء لسيرجي ، تولى قيادة الاتحاد السوفياتي في الفترة بين : 58 - 64 . بنى سياسة لافقتا مع ريتعاشين - الاقارن رفاقي والقلافي فدهن ، الاتحاد السوفياتي 1953 - الفص سياسي تاريخي - يعالج فكرة آسامية (التعاشس السلمي علاج للعلاقات القاتلة) 	إعداد
05	1.5 1.5 0.2	<ul style="list-style-type: none"> فصومية العلاقة بين القوى الراهنة : - القوى الراهنة من الكتلة الشرقية الشيوعية والكتلة الغربية الرأسمالية . - العلاقة بين الكتلتين تتميز بالصراع والعداء . - تعمل كل كتلة على اقضاء الأخرى من الساحة الدولية انطلاقا من [السياق فوالدسغ . المشايخ المحذثة التواعد والديلاف العسكرية ...] 	
06	1.0 1.0 1.5 1.0	<ul style="list-style-type: none"> أ حدافه إعلات سياسة التعاشس السلمي بين الطرفين : - التقليل من التذقات العسكرية - الاهتمام بالاقتصاد والتنمية الداخلية خاصة الاقار السوفياتي . - التقليل من يؤثر التوتر التي أ هيجت زهد الاقطاب فوسط (مشللكوبا مثلا) - إرساء قواعد التعاون في ظل تعاشس التظيمين خاصة أن الحياطق العشاخ عليل لجأت إلى التكتل والشهاج سياسة الحياذ الإيجابي (كتلة الأخر وآسيوي) . 	
03	0.5 0.5 0.5 0.5 0.5	<ul style="list-style-type: none"> نتائج سياسة التعاشس السلمي : - تحايي الاقار السوفياتي عن فكرة الأهمية الدولية وحل عشيت للونفورم - تبادل التريارات بين الاقار السوفياتي والدول الغربية - التعادف الشياقي - انعقاد مؤتمير جوييني بخصوص التسويات مع النها . - تسوية المشكلتة الكونية بين الطرفين (أزمة الصراخ) - اتفاقيات حول السلاح النووي ... الخ 	
02	02	<ul style="list-style-type: none"> إذا كانت سياسة التعاشس السلمي قد فتحت باب الانفراج والتوازن الدولي ، فلنظن كانت بداية التواج السوقي ومؤشرا لتدهار الكتلة الغربية . 	

تكتب الإجابة النموذجية على هذه الورقة ولا تقبل سواها

الإجابة النموذجية لموضوع مقترح لكالوريا دورة :

تبار مادة : التاريخ : الشبة : اللغات : العلوم الشرعية : اللغة : المادة :

العلامة		عناصر الإجابة	أور وضوع
المجموع	جزأة		
111			
02	02	الأمم المتحدة والقضية الفلسطينية عند إعلان قيام الكيان الصهيوني 15 / 05 / 1948 .	مقدمة
05	1	مفاهيم التواطؤ الدولي : - اعتراف القوى الكبرى بدولة إسرائيل (الولايات المتحدة / الاتحاد السوفياتي / بريطانيا / فرنسا / الصين الوطنية ...) - اتخاذ الأمم المتحدة وتكليف من العنصرية في المنظمة . - توقيع الأمم المتحدة من حرب 1948 . - توقيع من الحرب العربية الاسرائيلية - معجز الأمم المتحدة حتى في تنفيذ قرارها المباشرة حول القضية الفلسطينية .	5 المنهج
06	1.1 1.2 1.3 1.5	أسباب التواطؤ الدولي : - تحكيم القوى العربية في منظمة الأمم المتحدة من خلال مجلس الأمن . - لأن الكيان الصهيوني أوجدته كل من بريطانيا وفرنسا الولايات المتحدة . - لأن الحركة الصهيونية تتحكم في المؤسسات الدولية المساسة من خلال تواجد ما عدا الدول الكبرى (الشركات / البنوك - القيادة السياسية - وزراء) - لأن هذا الكيان أصبح القاعدة الاممية للدفاع عن مصالح العرب في الوطن العربي .	
02	01 01	ردود الفعل العربية عن إعلان دولة إسرائيل : - رفض الكيان الصهيوني - إعلان الحرب العربية الأولى 1948	
03	01 01 01	- انعكاسات قيام الكيان الاسرائيلي على المنطقة العربية : * قصود المنطقة الى بؤرة توتر دولية وتولجها الى جبهة الحرب الباردة . * تحولت الى منطقة استراتيجية للكثلة العربية لتخاض من خلال المد الصهيوني (خلق بغداد - مشروع التطوير) * مقاومة القوم العربي تحت شعار (مجاهدة المد الشيوعي)	
02	02	بعد الكيان الصهيوني أصبح ما زرعه العرب في الوطن العربي (دستور) من خلاله الاستعمار كل فوجعه	خاتمة

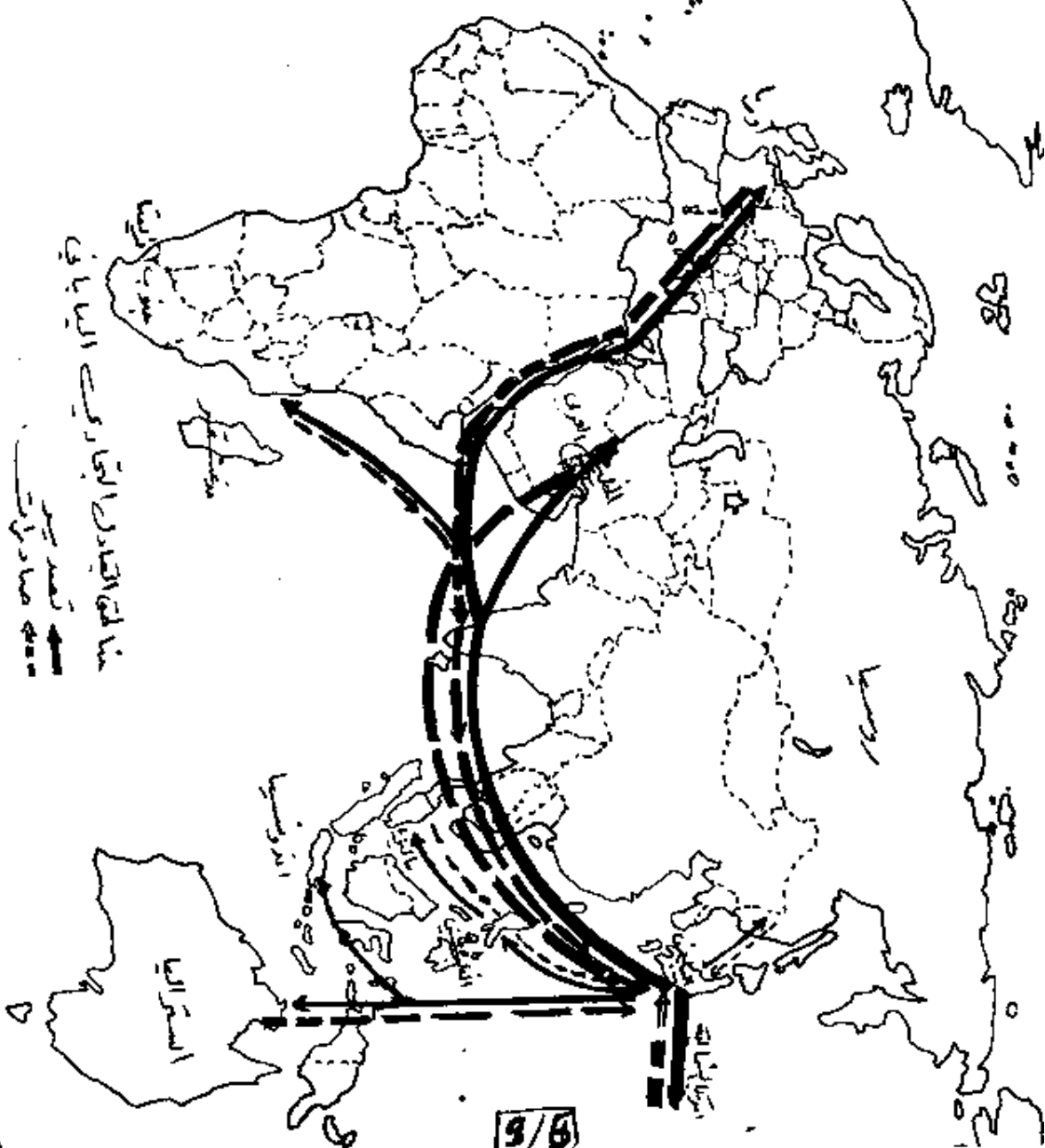
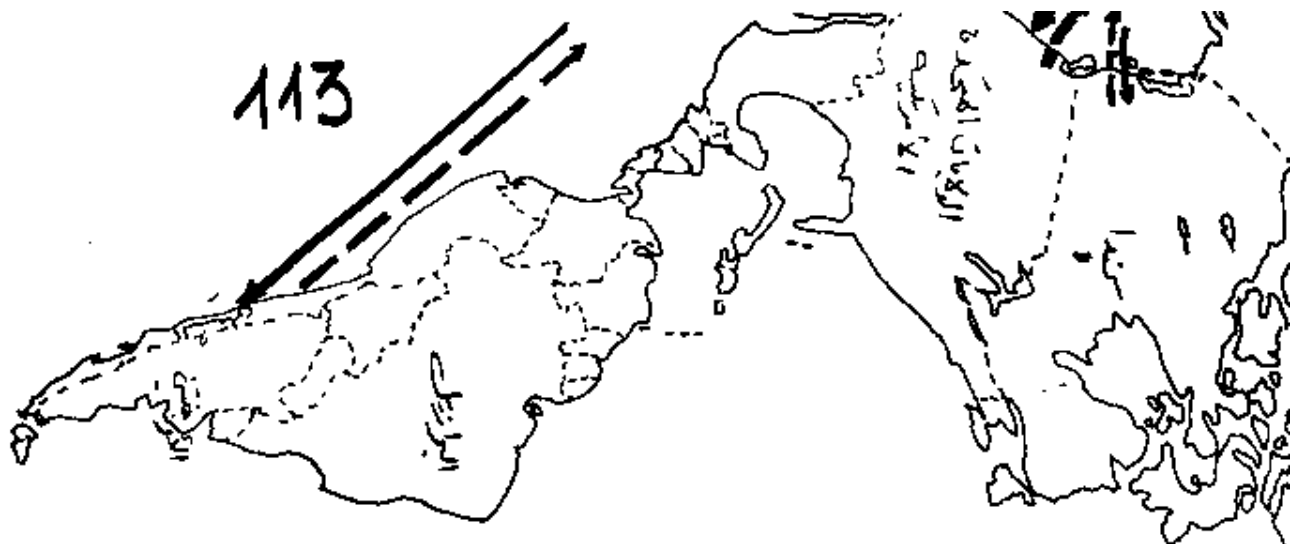
تكتب الإجابة النموذجية على هذه الورقة ولا تقبل سواها

الإجابة النموذجية لموضوع مقرر لكالوريا دورة :

إختار مادة : المختار الشعبة : آداب وعلم إنسانيتك علوم تجريبية أجب على الأسئلة الآتية : التجارة والصناعة

العلامة		عناصر الإجابة	مخارج الموضوع
112		السؤال الأول	
المجموع	مخارج		
02	02	اليابان بين اقتصادها الموارد الأولية ، وصناعة إنتاجها الصناعي	المقدمة
05	01 01 01 01 01	<p>* مظاهر عالمية الصناعة اليابانية :</p> <p>1- ضخامة الإنتاج : المؤلاذ 1984 م/لحق 13 في الإنتاج العالمي 2- التركيز الصناعي :</p> <p>(طويوطا - ... هوندا ...)</p> <p>3- تفرغ الأسواق العالمية (أول ما تفتح تاريخيا للعالم) 4- التكامل - ما بين المجهودات الثلاث (صناعة ، توك ، بحث علمي) 5- الاستثمار الصناعي في الخارج بما فيها (الروم 1)</p>	
07	05 05 05 05 05 05	<p>6 مزايا وسلبيات عالمية الصناعة اليابانية :</p> <p>1- المزايا : تشمل 83% من مجمل اليد العاملة - تقنية حياض السوق الداخلية والخارجية - الجودة والتكلفة المنخفضة - الدقة والتعهد المستمر - الاستثمارات المضخمة في المجال الصناعي - المساهمة الضخمة في الدخل الوطني</p> <p>2- السلبيات : - الاعتماد على السوق الخارجية (وتصدير) - المنافسة الحادة من طرف القوى الصناعية الكبرى - التلوث</p> <p style="text-align: center;">التشجيع على هشاشة الاقتصاد الياباني</p>	
04	05 05 05 05	<p>3- المزايا : الإفزاز : الإسبرلا التصدير العنوان النقح</p>	
02	02	قد رجعنا للصناعة اليابانية معجزة الترخيص المشرف ، إلا أنها معرضة لعدم الاستقرار	الخاتمة

113



من القاهرة الى باقي
الولايات المتحدة
من جدة الى باقي
الولايات المتحدة

9/6

تكتب الإجابة النموذجية على هذه الورقة ولا تقل سواها

الإجابة النموذجية لموضوع مقترح ليكالوريا دورة :

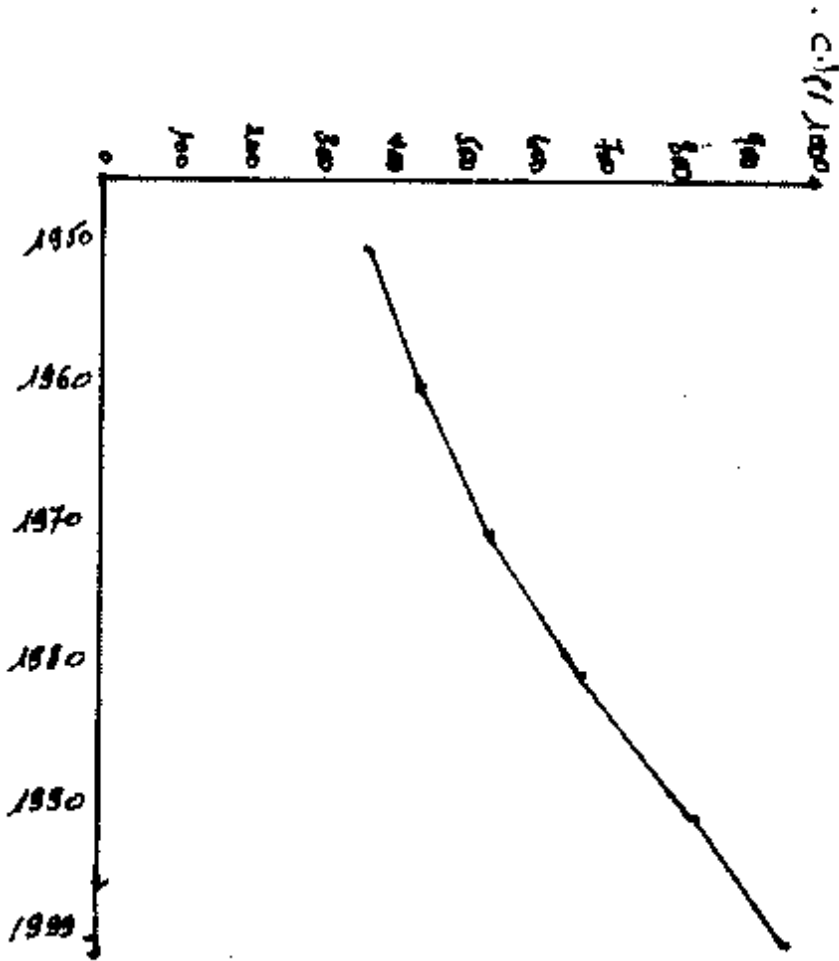
إختار مادة : **الجغرافيا** الشعبة : **آداب وعلوم إنسانية علوم كمنهج** **المناهج التخصصية**

العلامة		عناصر الإجابة	معايير الموضوع
		السؤال 114	
مجموعة	مجزأة		
02	02	الوثيقة إقتصاد سياسي. طرح إشكالية الانقسام في العالم بين العالم المتقدم والعالم النامي	(المقدمة)
08		<p>د- الأسباب الحقيقية لانقسام العالم اللورد في السنين :</p> <p>أ- التكنولوجية : الثورة الصناعية وآثارها (اختلال التوازنات) - الحركة الاستعمارية وآثارها (المستغل والمستغل)</p> <p>ب- سياسية : الاستقواء السياسي في العالم المتقدم - عدم الاستقرار في العالم النامي</p> <p>ج- المالية : التحكم في الرقود المالية العالمية ومؤسساتها - سوء الإدارة مستغلا عند البعض والافتقار رايه عند البعض الأخر</p> <p>د- التكنولوجية : التحكم في العلوم والتكنولوجيا - الافتقار إلى البحث العلمي والتكنولوجيا</p>	
05		<p>د- مظاهر انقسام التوازنات</p> <p>أ- مساهمة العالم المتقدم بنسبة 60٪ من الإنتاج الزراعي في العالم - 90٪ من التجارة العالمية</p> <p>ب- الدخل الفردي : المزم 28 الف دولار - اليابان 14 الف دولار - ألمانيا 27 الف دولار - الهند 290 دولار - تشاد 6 دولار - البرازيل 15 دولار</p> <p>ج- يستهلك 7.90٪ من مجمل الطاقة العالمية</p> <p>د- تفاوت نصيب الفرد من المصراحة المزارع في العالم المتقدم 3000 هكتار وفي العالم المتخلف لا يتجاوز 800 هكتار</p> <p>هـ- نسبة اليد العاملة الزراعية في العالم المتقدم تقل عن 10٪ وفي العالم المتخلف 24٪</p>	
03	1,5 1,5	<p>الافتقار المستبيلة :</p> <p>أ- العالم المتقدم : يزداد غنى وهيمنة وتقدم ما -</p> <p>ب- العالم المتخلف : يزداد فقرا، تبعية وتخلقا</p>	
02	02	الانقسام الإقتصادي العالمي أخطر من الانقسام الإيديولوجي وسيتم في إعادة النظر في العلاقات الدولية بين الإغنياء والفقراء	الخاتمة

تكتب الإجابة النموذجية على هذه الورقة ولا تقلل سواها

الإجابة النموذجية نوضح مقترح لكالوريا دورة :
 الشعبة آداب وعلوم إنسانية علوم اجتماعية لغات ومعلوماتية
 المختار مادة :
 إختبار مادة :
 الإجابة النموذجية نوضح مقترح لكالوريا دورة :
 الشعبة آداب وعلوم إنسانية علوم اجتماعية لغات ومعلوماتية

العلامة		عناصر الإجابة	محاور الموضوع
115		السؤال الثالث	
المجموع	مجزأة		
02	02	الوثيقة جغرافية تتناول تطور السكان في الهند وعلاقتهم بالسياسة الزراعية	المقدمة
04	03 05 05	الرسم البياني : - الإيجاز - العناوين - المفتاح	الأسئلة
4,5	1,5 1,5 1,5	تحليل الواقع الديمغرافي في الهند : - الزيادة السكانية المرتفعة - معدل النمو الديمغرافي 1,6% مؤشر الخصوبة 3,1 في كل ألفين 16 مليون نسمة في السنة بسبب : - المعتقدات - النوع الطائفي - لمسية المجتمع الفلاحي (الحاجة إلى اليد العاملة داخل الأسرة)	
03	01,5 1,5	الامتلاكات : - انعدام التوازن بين التوارث بين الفئات الزراعية - عدم تحقيق الأمن الغذائي	
03	1,5 1,5	تقييم السياسة السكانية والزراعية في الهند - السياسية السكانية : - فشل السياسة السكانية في الهند (ارتفاع معدلات النمو) - السياسة الزراعية : - نجحت السياسة الزراعية في الهند .. ويكفي ذلك من خلال احتلال مراتب عالمية أولى في بعض المنتجات	
1,5	1,5	النتيجة : احتلال المراكز بين النمو الديمغرافي والتوارث الزراعي	
02	02	الأمن الغذائي في الهند مرهون من نجاح السياسة السكانية وتذليل الصعوبات الطبيعية (الفيضانات) وتأمين الاستقرار السياسي والاجتماعي	الخلاصة



تطور السكان في الهند
 ما بين 1950 - 1999

السنة = 1950 - 1999
 السكان = 30 - 110