

امتحان بكالوريا التعليم الثانوي (دورة جوان 2001)

المدة : 3 ساعات

الشعبة : علوم الطبيعة والحياة + علوم دقيقة + تكنولوجيا

اختبار في مادة التاريخ و الجغرافيا

أجب عن سؤال في التاريخ وسؤال في الجغرافيا .

التاريخ :

السؤال الأول : ورد في وثيقة طرابلس ، جوان 1962 .

>> ... إن اتفاقيات إيفيان ، هي بالنسبة للشعب الجزائري ، انتصار سياسي لا مرد له ، يضع حدا للنظام الاستعماري والهيمنة الأجنبية التي دامت أكثر من قرن ولكن يجب أن لا يغيب عنا ، أن هذا الانتصار الذي تحقق من حيث المبدأ قد إنطبق قبل كل شيء من التسلسل الثوري المنطقي المتواصل ومن الأحداث السياسية والاجتماعية ذات الأثر التاريخي التاجمة عن الكفاح المسلح الذي قام به الشعب الجزائري
إن اتفاقيات إيفيان تمثل قاعدة للاستعمار الجديد تحاول فرنسا استعمالها لتمكين هيمنتها وتغليبها في شكل جديد ... << .

عن كتاب نصوص أساسية لجبهة التحرير الوطني

المطلوب : انطلاقا من النص واعتمادا على ما درست :

1 - حدد العوامل التي جعلت فرنسا على التفاوض ، والوصول إلى اتفاقيات إيفيان .

2 - بين مواطن القوة والانتصار في الاتفاقيات .

3 - استخلص مصدر التخوف من احتمال >> تمثل الاتفاقية قاعدة للاستعمار الجديد ... <<

السؤال الثاني : قال جمال عبد الناصر في الأمم المتحدة 1960 :

>> ... إن السلام ليس معناه الاستسلام ، وإنما إذا كنا نحب السلام ، ونسعى إليه ، فليتنا نكره

الاستسلام ، ونثور عليه ، فنحن نحتاج إلى جانب السلام ، و ضد الحرب ، وإن كان لنا من تحفظ واحد على هذا

الموقف القاطع الذي لا حيد فيه : فإن السلام ، هو القائم على العدل دون تفرقة ودون تمييز ... << .

من كتاب ' ثورة أفريقيا ' صبري أبو المعجد

المطلوب : انطلاقا من النص واعتمادا على ما درست :

1 - بين الوضع السياسي الدولي في هذه الفترة .

2 - حدد موقف الدول المستقلة حديثا من هذا الوضع .

3 - استخلص السلام المقصود في النص .





السؤال الثالث :

تعتبر أوروبا أكثر قارات العالم تأثرا بالحرب العالمية الثانية (1939 - 1945) .

المطلوب : 1 - على الخريطة المرفقة ، حدد معطيات المفتاح الآتي :

- الإجتياح السوفياتي لبولندا

- الإجتياح الألماني لبولندا

- التوسع الألماني في شمال وغرب أوروبا  - سقوط باريس في يد القوات الألمانية ...  ب
- معركة العظمين  ع - معركة ستالينغراد  م

- 2 - ضع عنوانا مناسباً للخريطة .
3 - أربط هذ الأحداث بتواريخها .
4 - بين أثر ذلك على ألمانيا وتطورات الحرب .

الجغرافيا :

السؤال الأول :

إن الحكومات العربية ظلت تدعم الغذاء المستورد بدل دعمها للغذاء المنتج محليا ، مما أدى إلى تهديد أمنها الغذائي.

- المطلوب : 1 - بين إمكانيات الزراعة العربية .
2 - حدد أسباب العجز الغذائي .
3 - استعرض الحلول الممكنة .

السؤال الثاني : إليك الخريطة الزراعية للولايات المتحدة الأمريكية .

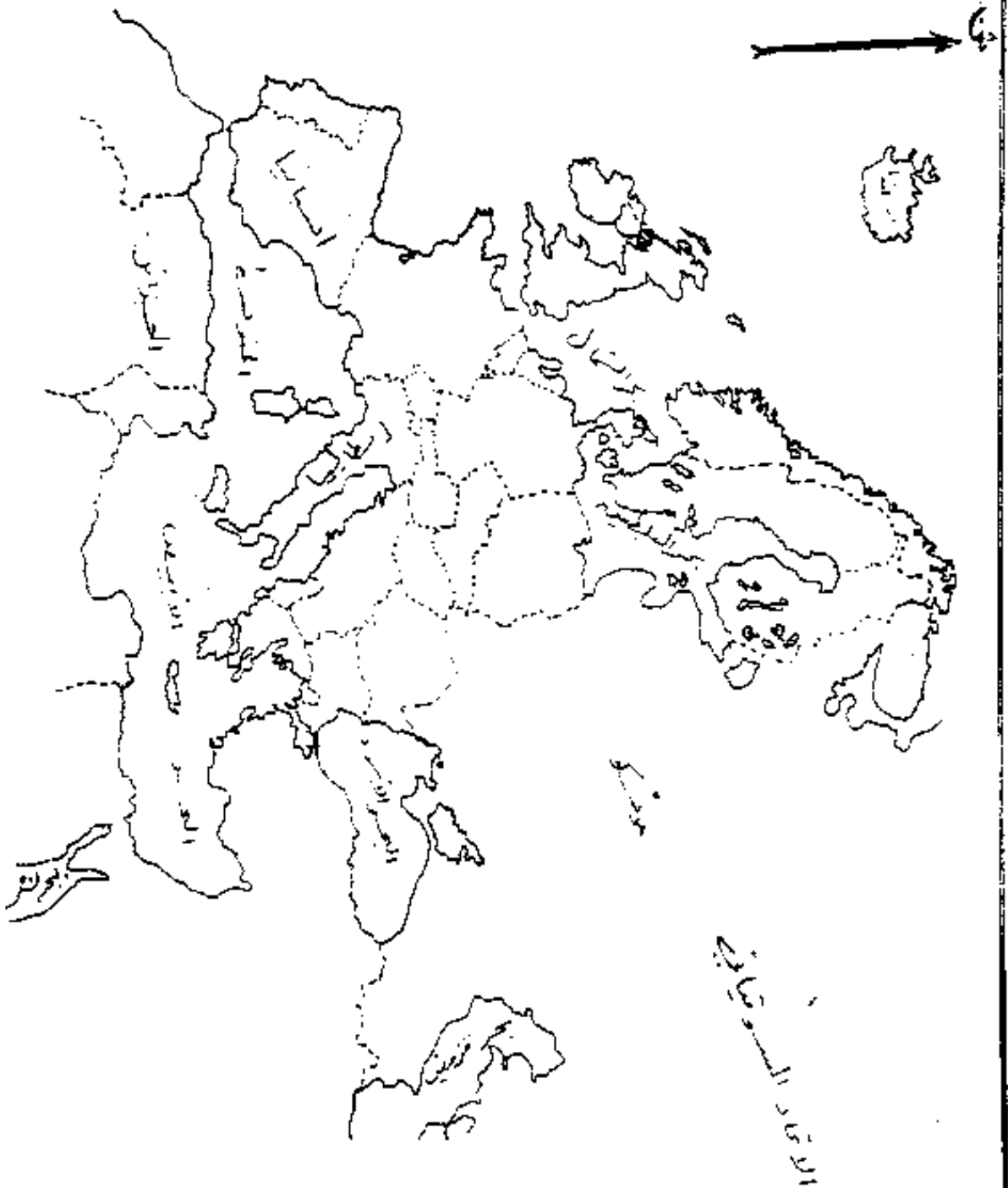
- المطلوب : 1 - أكمل مفتاح الخريطة .
2 - تعكس الخريطة ظاهرة بارزة تميز بها الزراعة الأمريكية ، استخلصها .
3 - حدد العوامل المتحكمة في الظاهرة .
4 - بين الدور الذي تلعبه الزراعة الأمريكية داخليا وخارجيا .

السؤال الثالث :

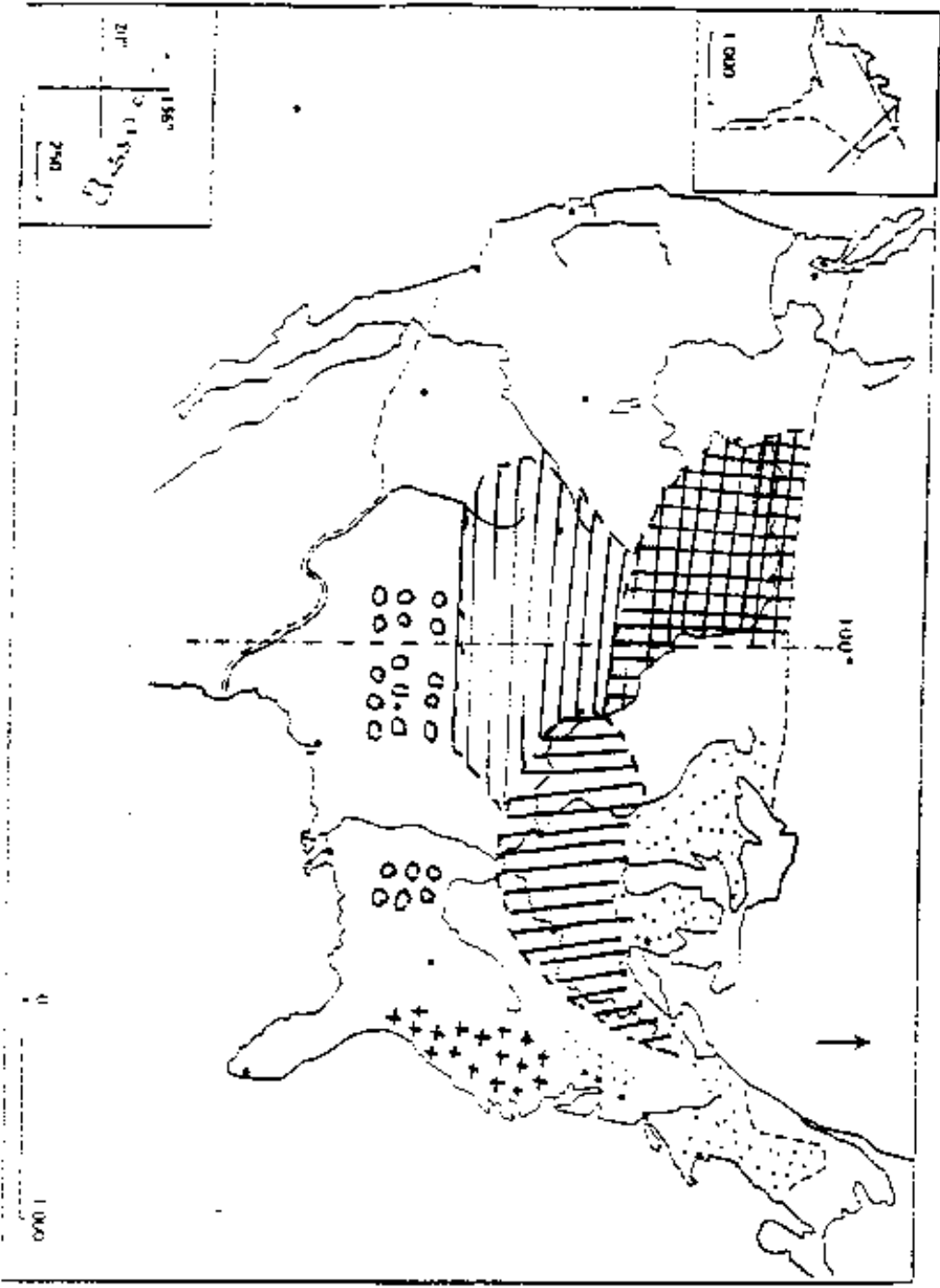
>> ... لا يمكن أن نفضل بين ما يجري في سوق النفط من حرب اقتصادية سافرة وبين تراجع المعدل التحرري في العالم الثالث ككل ، فمنظمة الأوبك لا تعتبر بالمعايير السياسية كمية نفط وعدد من البراميل ، بل هي رمز وإرادة في تاريخ العلاقات الاقتصادية الدولية التي رفضتها الرأسمالية العالمية والتي لم تسمح بتكرارها في مجالات أخرى ، ولن تسمح ببقائها ولو كرمز فقط . لذلك فإن تحطيم الأوبك يعني تحطيم إرادة وفكرة على مواصلة النضال من أجل علاقات أكثر تكافؤ وأكثر عدالة ... <<
عن مجلة أحداث اقتصادية العدد 5 ، 1986 .

المطلوب : انطلاقاً من الوثيقة واعتماداً على ما درست

- 1 - ابرز الظروف الدولية التي ظهرت فيها منظمة الأوبك .
2 - حدد الأهداف التي سعت المنظمة إلى تحقيقها .
3 - بين سياسة الدول الصناعية لتحطيم منظمة الأوبك .
4 - حدد العوامل الداخلية التي أدت إلى تهمر المنظمة بين الحين والآخر .



يتميز العمل المطلوب على الخريطة المرفقة وتعاد مع أوراق الإجابة



ينتج العمل المطلوب على الخريطة المرفقة وتعاد مع أوراق الاجابة

