

اختبار في مادة العلوم الفيزيائية و التكنولوجيا

التمرين الأول (05 نقاط):

- إملأ الفراغات :

* هو أقرب الكواكب إلى الشمس.

* هو أبعد الكواكب عن الشمس .

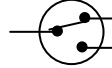

* في المجموعة الشمسية هي النجم .

* هو أكبر كواكب المجموعة الشمسية

* هو أصغر كواكب المجموعة الشمسية

التمرين الثاني (05 نقاط):

- أكمل المكان الفارغ بما يناسبه :

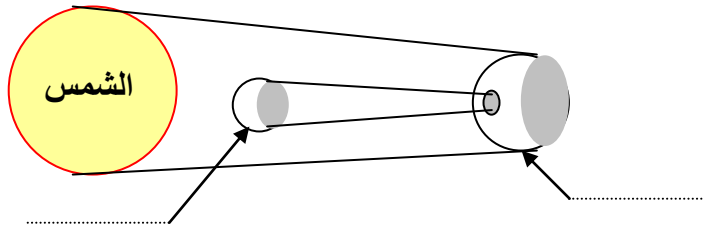
رمزه النظامي	العنصر الكهربائي	
	1
.....	مصباح كهربائي	2
	3
.....	بطارية	4
	5

التمرين الثالث (05 نقاط):

- يمثل الرسم المقابل ظاهرة طبيعية .

1- ضع عنوانا مناسباً للرسم .

2- أكمل البيانات الناقصة .



العنوان :

التمرين الرابع (05 نقاط)

- ضع الجسم المناسب في الخانة المناسبة :

1) ورق أبيض مبلل بالزيت ؛ 2) كمية ماء نقي ؛ 3) قارورة بلاستيك للماء المعدني ؛ 4) أنبوب اختبار ؛ 5) كأس به زيت

الزيتون ؛ 6) صفيحة معدنية ؛ 7) زجاج مصقول ؛ 8) كتاب ؛ 9) السبورة ؛ 10) لوح خشبي

الأجسام الشفافة	الأجسام الشافة	الأجسام العاتمة